

كتاب

المواد الاجتماعية

السنة السادسة أساسي

6

تاريخ

تربية

جغرافيا

نور الدين بن خضر

تاریخ

نور الدین بن خضر

منزلة مادة التاريخ

تساهم مادة التاريخ في تكوين المتعلمين من خلال دراسة ماضي المجتمعات البشرية لفهم الحاضر واستشراف المستقبل وتنشئتهم على القيم الانسانية وعلى الماطنة الفاعلة. وهي تمكن المتعلم مع بقية المواد الاجتماعية من تملك كفايات الفهم والنقد وبناء المواقف في علاقتها مع الكفايات الالفية الواردة ببرنامج البرامج وبالقيم المرجعية التي تنبني عليها الشخصية الوطنية والانتماء الحضاري ومن هذا المنطق ترمي مادة التاريخ الى تحقيق المقاصد التربوية التالية:

- هيكلت الزمن التاريخي
 - اعد وبناء الماضي باعتماد منهجية علمية
 - الترقية الذهنية للناشئة
 - التدريب على التنسيب
 - المحافظة على الذاكرة الجماعية وتغذيتها
 - تجذير الناشئة في هويتها العربية الاسلامية والاعتزاز بها
 - التعرف الى الآخر والتواصل معه
 - ادراك ان الحضارة الانسانية هي نتاج مشترك للمجتمعات البشرية
 - التعامل مع مختلف مصادر المعرفة وتوظيف التكنولوجيات الحديثة
- ويتطلب تحقيق هذه المقاصد اعتماد تمشيات بيداغوجية مبنية على الادمج في اطار المقاربة بالكفايات تراعي تدرج تعلمات متنوعة حسب مراقبي متدرجة

برنامج السنة السادسة من التعليم الأساسي

مراجعة: السلم التاريخي وأهم الحضارات التي تعاقبت على البلاد التونسية
المحور الأول :
الصراع العثماني الإسباني على البلاد التونسية وانتصاب العثمانيين بتونس
المحور الثاني : البلاد التونسية القرن السابع عشر
المحور الثالث : انجازات الدولة الحسينية من 1705 م إلى 1814 م
المحور الرابع :
تونس في القرن التاسع عشر (1814 م / 1881 م) أزمة البلاد التونسية
• أزمة البلاد التونسية ومظاهرها
• الإصلاحات العسكرية
• عهد الأمان ودستور 1861 م
• الفكر الإصلاحي لخير الدين وإصلاحاته
المحور الخامس : احتلال تونس وانتصاب الحماية الفرنسية
• مقاومة الاحتلال الفرنسي
• الهيمنة الاستعمارية على البلاد التونسية
المحور السادس : الحركات الإصلاحية
• بوادر الحركة الوطنية
• حركة الشباب التونسي
المحور السابع : الحزب الحر الدستوري التونسي
المحور الثامن : أسباب انعقاد مؤتمر قصر هلال
المحور التاسع : الحركة الوطنية من الحرب العالمية الثانية إلى الاستقلال
المحور العاشر : تونس في عهد الاستقلال

السلم التاريخي وأهم الحضارات التي تعاقبت على البلاد التونسية

قسم ميلاد المسيح (عيسى بن مريم) السلم التاريخي إلى مرحلتين :


- ما قبل الميلاد ويرمز له ب : ق.م
- الميلادي ويرمز له ب : م

عرفت البلاد التونسية في عصور ما قبل التاريخ عدة حضارات منها : الحضارة العاترية، والحضارة الوهرانية، والحضارة القبصية، وتوالت عليها بعد ذلك حضارات مختلفة : كالفنيقيين، والرومان، والنوميديين، والوندال، والبيزنطيين، وهذا قبل الإسلام، وحين انتشار هذا الأخير توالت على البلاد التونسية عدة دول : كالدولة الأغلبية، والدولة الفاطمية، فالزيرية، والدولة الموحدية، فالحفصية ثم العثمانيون والاستعمار الفرنسي. وفي برنامج السنة السادسة سنتعرف على مختلف أطوار تاريخ البلاد التونسية من بدايات القرن السادس عشر (سنة 1505 م) إلى أواخر القرن العشرين (سنة 1987 م) والهدف من ذلك أن يكون التلميذ محبا لوطنه ومتحملا بروح التفاهم والتسامح.

وهذا جدول محوصل لأهم هذه الحضارات :

الحضارات	تاريخ ظهورها	من أهم مدنها	مؤسسها	من أهم منشأتها
الحضارة القبصية	من 7000 ق م إلى 5000 ق م	قفصة / أم العرايس / القصيرين / الرديف / فريانة	الإنسان البدائي	تكون تجمع حضاري بمنطقة قفصة
الحضارة الفينيقية	سنة 814 ق م	قرطاج طنجة	عليسة	تأسيس أكثر من 300 مركز تجاري على سواحل افريقيا الغربية
المملكة النوميديّة	سنة 203 ق م	بلدان المغرب العربي	ماسينيسان	تطور صناعة الخزف عملت نقدية نوميديّة
الحضارة الرومانية	146 ق م	مدن شمال افريقيا	يوليوس قيصر	تأسيس عدة مدن ، تطوير صناعة الخزف
الدولة الأغلبية	184 هـ - 800 م	القيروان تونس	ابراهيم بن الأغلب	رباط سوسة فسقية الأغلبية بالقيروان
الدولة الفاطمية	296 هـ - 909 م	المهدية / طرابلس تونس-القيروان / فاس- القاهرة / المدينة / مكنة	عبيد الله المهدي	مرسى المهديّة الجامع الكبير
الدولة الحفصية	634 هـ - 1236 م	تونس قسنطينة طرابلس	أبوزكرياء يحي الحفصي	الحنايا- جامع القصبية زاوية سيدي قاسم جامع الزيتونة

وثائق وصور



حانوت يعود إلى الحضارة القبصية



سكاكين من الصوان
تنتمي إلى الحضارة القبصية



الحضارة اقبصية المتألمة والحضارة العلما

الحضارة القبصية



مجال نفوذ قراطاج



الأميرة علسة



قراطاج

الحضارة القرطاجية



نقود نوميدية



ضريح الملك ماسينيسا

الحضارة النوميدية



نزهة
لوحة فسيفسائية



المسرح الروماني بالحمام

الحضارة الرومانية



فسقية الاغالبية



جامع عقبي بن نافع بالقيروان

الحضارة الأغلبية



عملة فاطمية



السقيفة الكحلة بالمهدية

الحضارة الفاطمية



عبدالرحمان ابن خلدون



جامع الزيتونة

الحضارة الحفصية

الصراع العثماني الاسباني على البلاد التونسية وانتصاب العثمانيين بتونس

تميز القرن السادس عشر بوجود إمبراطوريتين عالميتين هما :

الإمبراطورية العثمانية والإمبراطورية الاسبانية

بلغت الإمبراطورية العثمانية أوج قوتها في عهد " سليمان القانوني" بفضل عوامل عديدة منها ازدهار الاقتصاد والتعايش السلمي بين المواطنين ووجود حكومة مركزية قوية واستقرار الأمن .

كما شهدت الإمبراطورية الاسبانية في عهد " شارل كان" تطورا كبيرا ولد فيها الرغبة في التوسع على البلدان المجاورة لها فبدأ الصراع بينها وبين الإمبراطورية العثمانية ودام 70 سنة وكانت تونس من محاور هذا الصراع.

أسباب الصراع :

• الأسباب الخارجية

السعي إلى السيطرة على البحر الأبيض المتوسط.

الرغبة في التوسع في بلاد الغرب الأوربي

السيطرة على بلدان المغرب العربي

توفير الأمن في البحار التي سيطر عليها القراصنة (غزاة البحر)

محافظة الأتراك على البلدان الإسلامية المجاورة لتونس

التمتع بغنائم القرصنة

• الأسباب الداخلية

ضعف السلطان الحفصي والتناحر على الحكم بين الحفصيين

تردي الأوضاع السياسية والاقتصادية والاجتماعية

رغبة السلطان الحفصي في المحافظة على عرشه

استيلاء خير الدين على تونس

مظاهر الصراع

انهزام الاسبان على يد سنان باشا 1560 م

تونس تصبح ولاية عثمانية سنة 1574 م

سقوط أنظمة شمال إفريقيا

انتقال الاسبان إلى العالم الجديد والانصراف إلى المستعمرات.

ومن آثار هذا الصراع أن وقع قمع الأهالي والتنكيل بهم فكان عدد من الضحايا

التونسيين كبير .

وثائق وصور :



سليمان القانوني



شارلكان



مناطق النفوذ العثماني ومناطق النفوذ الاسباني



معركة تونس



قراصنة البحر



خيرالدين بربروس



شارل الخامس

بربروس

سليمان القانوني

مظفر

شخصيات وأحداث

التمارين :

1. أكمل بذكر الشخصية المناسبة من هذه الشخصيات: خير الدين بربروس / السلطان الحفصي مولاي الحسن / السلطان سليم / سنان باشا / شارل كان.
- ساعدعلى الاستيلاء على تونس
 - استنجدبامبراطور اسبانيا لطرده خير الدين
 - هزم.....خير الدين واحتل حلق الوادي
 - خلص.....تونس نهائيا من سيطرة الاسبان.

2. أصنف اسباب الصراع بين الامبراطورية العثمانية والامبراطورية الاسبانية الى اسباب خارجية واسباب داخلية في لجدول التالي:

- ضعف السلطان الحفصي والتناحر على الحكم بين الحفصيين
- استيلاء خير الدين على تونس - السعي إلى السيطرة على البحر الأبيض المتوسط.
- الرغبة في التوسع في بلاد الغرب الأوربي - السيطرة على بلدان المغرب العربي
- رغبة السلطان الحفصي في المحافظة على عرشه - التمتع بغنائم القرصنة
- توفير الأمن في البحار التي سيطر عليها القرصنة (غزاة البحر)
- تردي الأوضاع السياسية والاقتصادية والاجتماعية

أسباب خارجية	أسباب داخلية

3. أشطب الخطأ في ما يلي : من مظاهر الصراع بين الامبراطوريتين الاسبانية والعثمانية :

- انتصار الاسبان على يد سنان باشا 1560 م
- تونس تصبح ولاية عثمانية سنة 1574 م
- سقوط أنظمة شمال إفريقيا
- انتقال العثمانيين إلى العالم الجديد والانصراف إلى المستعمرات

4. أكمل الإفادة التالية بما يناسب :

من آثار هذا الصراع العثماني الاسباني.....

.....

المجتمع التونسي في العهد العثماني الأول والهجرة الأندلسية (1574 م 1705 م)

• ممن كان يتكون المجتمع التونسي في العهد العثماني الأول :

تعاقبت على البلاد التونسية العديد من الحضارات منهم البربر والفينيقيون والرومان والوندال والبيزنطيون والعرب والاسبان والأتراك . وفي العهد العثماني الأول عرف المجتمع التونسي تقلصا سكانيا هاما بسبب :

المجاعة والآفات الطبيعية والجفاف والأوبئة

الصراعات التي دارت بين العثمانيين والاسبان وما نتج عنها من ضحايا

الصراعات بين البايات والدايات وثورات القبائل

وقد انقسم الأهالي إلى عدة فئات : فئة الأثرياء والأعيان والفئات الشعبية والماليك والأجانب.

• توافد الأندلسيين على تونس بداية من القرن 17

هاجر الأندلسيون إلى تونس سنة 1609 م فرارا من ملك اسبانيا والذي اتخذ قرارا بطردهم

وكان عددهم يناهز 80 ألف نسمة

• أين استقر الأندلسيون ؟

سمح لهم عثمان داي أن يستقروا حيث شاؤوا فانتشروا بالهناشير في الشمال التونسي وخاصة بمنطقة شبه جزيرة الوطن القبلي ومنطقة حوض مجردة ومنطقة بنزرت ومن أهم المدن التي استقروا بها

منطقة الوطن القبلي	منطقة حوض مجردة	منطقة بنزرت
سليمان / نيانو / قرمبالية / زغوان / بلي / تركي	الجديدة / طبرية / مجاز الباب / السلوقية / تستور	رفراف / العاليتة / غار الملح / منزل عبدالرحمان

• بماذا اشتغل الأندلسيون ؟

كان للمهاجرين مقدرة خاصة في كل المهن وقد كان لهم دور فعال في نهضة البلاد التونسية في العديد من الميادين منها :

الميدان الفلاحي	صيروا الفلاحة سقوية وطوروها غرسوا الكروم والزياتين والبساتين
الميدان المعماري	مهدوا الطرقات بالكراريط وبنوا المساجد والمباني ذات القباب المغطاة بالقرميد الأخضر وجملوها من الداخل بالجبس والجليز
الميدان الصناعي	صناعة الشاشية والنقش والطريزة ونسج الحرير والنقش على الجلد والخزف والعطورات
الميدان التجاري	تطوير التجارة الداخلية والخارجية إذ أنهم كانوا يصدرون الشاشية والحبوب والتمور والتبغ
الميدان الثقافي	الموسيقى والموشحات

وثائق وصور :



المورييسكيون يغادرون اسبانيا



طرد المسلمين من اسبانيا



الحلي



الشاشية -



الخزف



القرميد -



التوابل



الزيتون -



محراث تقليدي



الغلال -



المناطق التي استقر بها الاندلسيون



موسيقى المالوف



تونس العاصمة



قلعة الاندلس



تستور

التمارين :

1. أملأ الفراغات بما يناسب
هاجر.....إلى بلادنا تونس.....من ملك..... فاستقروا
.....التونسي وخاصة.....القبلي .
استفادت البلاد التونسية من الهجرة.....فقد عرفت نهضةً وتطوراً في مختلف
الميادين .

2. اشطب الخطأ في ما يلي للتعرف على أسباب تقلص عدد السكان في العهد العثماني :

المجاعة والآفات الطبيعية والجفاف والأوبئة

هجرة السكان الى الجزائر

الصراعات التي دارت بين العثمانيين والاسبان وما نتج عنها من ضحايا

عزوف الشباب عن الزواج

الصراعات بين البايات والدايات وثورات القبائل

3. أسمى الحضارات الناقصة في ما يلي :

تعاقبت على البلاد التونسية العديد من الحضارات منهم.....والفنيقيون
.....والوندال.....والعرب.....والأتراك.

4. اوزع البلدان التي استقر بها الاندسيون في المناطق المناسبة :

زغوان - تستور - العالية - غار الملح - الجديدة - قرمبالية -

منطقة بنزرت	منطقة حوض مجردة	منطقة الوطن القبلي
.....

5. كان للمهاجرين مقدرة خاصة في كل المهن وقد كان لهم دور فعال في نهضة البلاد

التونسية في العديد من الميادين . اذكر اربعة ميادين منها :

-
-
-
-

الدولة الحسينية من 1705 م إلى 1814 م

قيام الدولة الحسينية

• من هم الحسينيون ؟

دام الحكم المرادي في تونس من 1631 م إلى 1702 م وكان مراد باي الثالث هو آخر البايات المراديين وقد استغل ضابط تركي يدعى ابراهيم الشريف الوضع الاقتصادي المتردي للبلاد وتفشي الأوبئة والجوائح الطبيعية وثورات القائل المتكررة وتكالب أفراد العائلة المالكة على الحكم ففضى على مراد باي سنة 1702 م ونصب نفسه حاكما على البلاد . لكن حكم ابراهيم الشريف لم يدم طويلا إذ تميز عهده باحتكار السلطة وبالظلم والاستبداد إزاء الأهالي مما جعلهم يكتفون له الكراهية وقد عجل ذلك بسقوطه عند دخوله في حرب مع داي الجزائر ووصل حسين بن علي إلى الحكم عن طريق المبايعة.

• كيف نشأت الدولة الحسينية ؟

اجتماع كبار الجند والعلماء والأعيان على اثر أسر ابراهيم الشريف وقرروا مبايعة حسين بن علي بايا على تونس في 12 جويلية 1705 م . وحسين بن علي ينحدر من أصل كرغلي (أبوه تركي وأمه تونسية) .

تميز بحزمه وخصاله الحميدة فقد تدرج في الخدمة بالحاضرة حتى بلغ رتبة خزندار (وزير مالية) في عهد مراد باي وعند تولي ابراهيم الشريف الحكم عينه أغمته (أي قائد صبايحية)

وفي عهد حسين بن علي وقع صراع بينه وبين ابن أخيه علي باشا نتيجة التكالب على الحكم إذ عين حسين بن علي ابن أخيه خليفة له ثم تراجع في ذلك عندما أنجب أولادا فأدى ذلك إلى انقسام البلاد إلى شقين (حسيني وباشي) وتضرر الأهالي نتيجة ذلك .

التمارين

1. أكمل تعبير الفراغات باسم الشخصية المناسب :

- نكل.....بالأهالي
- بايع الأهالي.....سنة 1705 م
- عين حسين بن علي.....وليا للعهد.

2. رتب الأحداث التالية حسب تسلسلها الزمني بكتابة الأرقام من 1 إلى 5

- الصراع يندلع بيت الحسين بن علي وابن أخيه علي باشا
- الأهالي يبايعون الحسين بن علي بايا لتونس
- علي باشا يعين وليا للعهد
- ابنا الحسين بن علي يصلان إلى الحكم بفضل دايات الجزائر
- الحسين بن علي يتراجع عن قرار المبايعة.

3. أجيب بـ: نعم - أو - لا

- دام الحكم المرادي في تونس من 1631 م إلى 1702 م
- وكان مراد باي الرابع هو آخر البايات المراديين
- قضى ابراهيم الشريف على مراد باي سنة 1702 م ونصب نفسه حاكما على البلاد .
- وصل حسين بن علي إلى الحكم عن طريق الانتخابات.

4. اشطب الخطأ في ما يلي :

- اجتمع كبار الجند والعلماء والأعيان على اثر أسر (ابراهيم الشريف - حسين بن علي) وقرروا مبايعة (حسين بن علي - ابراهيم الشريف) بايا على تونس
- في عهد (حسين بن علي - علي باشا) وقع صراع بينه وبين ابن أخيه (علي باشا - حسين بن علي) نتيجة التكالب على الحكم .

5. أشرح كلمتي :

- أغا:
- خزندار:

الدولة الحسينية من 1705 م إلى 1814 م

مظاهر قوة وازدهار الدولة الحسينية

1/ أهم المراحل التاريخية:

بايع الأهالي الحسين بن علي بايا لتونس فعين ابن أخيه وليا للعهد. تراجع في ذلك فاندلع الصراع بينهما فكان الانتصار سجلايين هذا وذاك ثم تولى ابنا الحسين الحكم خلفا لـ علي باشا بفضل مساعدة دايات الجزائر.

2/ ازدهار البلاد في الفترة الأولى من حكم حسين بن علي (1705م / 1728م):

من العوامل الأساسية لتركيز الدولة الحسينية وجود بايات متميزين وانتعاش الحياة الاقتصادية والاجتماعية. ومن الأعمال التي قام بها حسين بن علي وساعدت على استقرار الأوضاع في البلاد:

- اعتماده على الأهالي في مقاومة داي الجزائر.
- تقريبه لرجال العلم.
- استمالته القبائل وتوحيد صفوفها.

3/ ازدهار البلاد في عهد علي باي وابنه حمودة باشا (1759م / 1814م):

استعادة الدولة الحسينية سيطرتها على البلاد في عهد علي باي الذي سعى إلى المصالحة بين الفرقاء وتجنب الانتقام من المعارضين وبذلك كسب ود السكان. كما عمل ابنه حمودة باشا الحسيني على ارساء دولة متينة الأركان فازدهرت البلاد و تطورت فيها التجارة والفلاحة والصناعة ونمت الثروة وكثر العمران ففي الميدان الفلاحي تمثل هذا الازدهار في اتساع الأراضي المغروسة زيتونا أما في الميدان التجاري فقد تميزت بتصدير بعض المنتوجات إلى الخارج وفي الميدان الصناعي فقد ازدهرت الصناعات الحرفية كصناعة الشاشية أما في الميدان العمراني فبنيت الجوامع والشكنات والقصور والأبراج.

وثائق وصور :




مدرسة بئر الاحجار



الجامع الجديد



داي الجزائر



علي باي بن حسين بن علي



قشلة العطارين - ثكنة-



- سوق الباي -



جامع صاحب الطابع

التمارين:

1 / عمر الجدول التالي بما يناسب من المعلومات:

الباب	فترة حكمه	تميز حكمه
علي باي	من إلى	في علاقته بالأهالي ب..... في حرصه على استقرار الأمن ب.....
حمودة باشا	من إلى	في حبه للوطن ب..... في تشجيع انتاج بلاده ب..... في تحسين أوضاع الأهالي ب.....

2 / أكتب نعم أو لا:

من العوامل الأساسية لتركيز الدولة الحسينية:

- بايات مضطهدون للأهالي
- انتعاش الحياة الاقتصادية
- تخفيف الأداءات على الأهالي

3 / عرفت البلاد التونسية في الفترة ما بين 1756م و 1814م ازدهارا في الميادين التالية:

- ⌊ في الميدان الفلاحي مثل
- ⌊ في الميدان الصناعي مثل
- ⌊ في الميدان التجاري مثل
- ⌊ في الميدان العمراني مثل

4 - اكمل الفراغات باسم الشخصية المناسب المناسبة:

استعادة الدولة الحسينية سيطرتها على البلاد في عهد الذي
سعى إلى المصالحة بين الفرقاء وتجنب الانتقام من المعارضين وبذلك كسب ود السكان.
كما عمل ابنه على ارساء دولة متينة الأركان فازدهرت البلاد
وتطورت فيها والصناعة ونمت الثروة و
كثر العمران .

تونس في القرن التاسع عشر (1814م / 1881م)
الأزمة والحركات الإصلاحية

1/ الأزمة السياسية:

شهدت البلاد التونسية بعد حكم حمودة باشا فترة ركود سياسي واقتصادي إذ أن البايات الذين تداولوا عن الحكم بين 1815م و 1837م لم يدخلوا الإصلاحات فعرّف الوضع المالي فوضي وترديا بسبب :

- سياسة البايات المتسمة بالأبهتة والرفاهية.
 - تبذير أموال الدولة باختلاسها أو بتنمية ثروتهم الخاصة
 - سلوك سياسة اقتصادية مرتجلة بعيدة عن التنظيم
 - ضعف الإنتاج الفلاحي
 - الحروب والأمراض التي مرت بها البلاد سابقا
- وبذلك عرض البايات البلاد إلى الاقتراض والتداين الخارجي.

2/ المظاهر الاقتصادية والاجتماعية للأزمة:

من مظاهر أزمة البلاد التونسية :

- ┌ انحطاط قيمة المنتوجات التونسية
- ┌ تأزم الأوضاع الاجتماعية والاقتصادية
- ┌ انتقال مربيح تجارة التصدير إلى أيدي التجار الأوربيين
- ┌ زيادة نسبة الضرائب
- ┌ هيمنة الدول الكبرى (فرنسا / انجلترا) على الباي
- ┌ التدخل الأجنبي في شؤون البلاد الداخلية.

3/ نتائج الأزمة

داخليا	خارجيا
الفقر والخصاصة سوء العلاقة بين الرعية والبايات الركود الاقتصادي	كثرة الأطماع الأجنبية نية فرنسا فرض الوصاية على البلاد التونسية خاصة بعد احتلال الجزائر.



11

قشلة العطارين:

تم بناؤها بأمر من الباي حمودة باشا الحسيني بهدف إيواء الجنود الإنكشارية وهي الآن مقر المكتبة الوطنية بالمدينة العتيقة بتونس العاصمة.

1 القشلة : الثكنة.



10

سوق الباي:

أسسها حمودة باشا الحسيني وتوجد بجوار قصر الحكومة بتونس العاصمة وقد كانت مختصة في تجارة السجاد والأقمشة الحريرية.



حمودة باشا



سياسة الأبهتة والرفاهة للبايات



تأزم الأوضاع الاجتماعية والاقتصادية

التمارين:

1 / أكتب أمام كل مظهر من مظاهر الأزمة نوعه (سياسي / اجتماعي / اقتصادي)

- انتقال مزايا تجارة التصدير إلى أيدي التجار الأوربيين.....
- سياسة البايات المتسمة بالأبهة والرفاهة.....
- كثرة الأوبئة والأمراض.....

2. اكمل الفراغات بما يناسب :

- شهدت البلاد التونسية بعد حكم حمودة باشا فترة.....
- عرف الوضع المالي.....
- من اسباب الازمة سياسة البايات المتسمة ب.....

3. أضع علامة (+) أمام كل سبب من اسباب أزمة البلاد التونسية في القرن السابع عشر.

- تنمية البايات لثروات البلاد.....
- سلوك سياسة اقتصادية مرتجلة بعيدة عن التنظيم.....
- تطور الإنتاج الفلاحي.....
- الحروب والأمراض التي مرت بها البلاد سابقا.....

4 / أسمى الدول الكبرى التي هيمنت على الباي :

.....

5. أصنف نتائج الأزمة إلى نتائج داخلية ونتائج خارجية :

نية فرنسا فرض الوصاية على البلاد التونسية خاصة بعد احتلال الجزائر.
الفقر والخصاصة. الركود الاقتصادي. سوء العلاقة بين الرعية والبايات.
كثرة الأطماع الأجنبية

داخليا	خارجيا

تونس في القرن التاسع عشر (1814 م / 1881 م)
الأزمة والحركات الإصلاحية
الإصلاحات العسكرية

تأسيس المدرسة العسكرية بباردو
من أسباب إصلاحات أحمد باي زيارته لفرنسا وإعجابه بحضارتها وتأثره بالعمران هناك
(قصر فرساي) كما أن شعوره بضعف دولته وضرورة مجاراة الدول العظمى جعلته يهتم
بالمجال العسكري فأسس مدرسة عسكرية لتكوين الإطارات الحربية وبنى قصورا
ومساجد ومصانع بكل من باردو وحلق الوادي.

تنظيم الجيش على النمط الفرنسي
نظم الباي الجيش التونسي
الإصلاحات الإدارية والاجتماعية
من الإصلاحات التي أقدم عليها أحمد باي والتي حفظت كرامة المواطن التونسي ووفرت له
الأمن وضمنت له حقوقه وحرية:

- تأسيس مكتبة الأحمدية
- تنظيم التدريس بجامع الزيتونة
- عتق العبيد سنة 1864 م
- إصلاح النظام الجبائي

ونظرا إلى أن هذه الإصلاحات تجاوزت إمكانات البلاد وتسببت في ائقال كاهل الميزانية
لذلك لم يكتب لبعضها النجاح.



قصر فرساي



أحمد باي



من مخطوطات المكتبة الأحمديّة



قرار الغاء العبوديّة



قشلة غار الملح



جامع الزيتونة

التمارين

1/ ضع في كل مجال الإصلاح المناسب:

عتق العبيد والغاء الرق / تنظيم الجيش / بعث الصناعات / إنشاء المدارس وتعصير طرق
تدريسها

الإصلاحات الاجتماعية	الإصلاحات الاقتصادية	الإصلاحات العسكرية

2/ اذكر إصلاحا واحدا من بين الإصلاحات التي حققها أحمد باي في :

- المجال العمراني:
- المجال العسكري:
- المجال الاجتماعي:

3/ أتمم بما يناسب

أذكر أسباب إصلاحات أحمد باي :

.....

4- أسمى الإصلاحات التي قام بها أحمد باي :

من جملة الإصلاحات التي قام بها أحمد باشا باي أنه نظم..... وألغى
..... سنة 1864 م

5- ما هو البلد الذي زاره أحمد باي وبماذا اعجب هناك :

.....
.....

6- أكمل الفراغ بما يناسب :

إصلاحات..... تجاوزت إمكانيات.....
وتسببت في إثقال..... لذلك لم يكتب لبعضها.....

عهد الأمان

واصل محمد باي (1855 م ، 1859 م) سياسته أحمد باي الاصلاحية ومن أبرزها الإعلان عن

عهد الأمان يوم 9 سبتمبر 1857 م

أهم المؤثرات الداخلية والخارجية لعهد الأمان :

المؤثرات الداخلية

- تعسف البايات
- حدة الجباية
- التمييز بين الناس
- الفوضى

المؤثرات الخارجية

- هيمنة الدول العظمى (فرنسا)
- تقرب البايات إلى رؤساء هذه الدول
- طمع هذه الدول في التوسع وتسليط الضغوطات المقنعة تحت عنوان الحصول على ضمانات لجاليتها

مبادئ عهد الأمان :

- المجال الاقتصادي:

حرية التجارة والملك

مساواة السكان أمام الأداءات

- المجال الاجتماعي

ضمان الأمن لكل السكان في الأموال والأشخاص والأعراض

حرية ممارسة الديانات

- المجال السياسي

تمتين العلاقة بين تونس والدول الأجنبية خاصة فرنسا

تأسيس أول مجلس بلدي



موكب امضاء وثيقة عهد الامان



وثيقة عهد الامان



احمد باي



محمد باي



كتاب اتحاف اهل الزمان



احمد بن ابي الضياف

التمارين

1 / أكمل

- تم الإعلان عن عهد الأمان في عهد :
- بتاريخ:

2. أصنف المؤثرات التي ساهمت في اعلان عهد الأمان إلى داخلية وخارجية
هيمنة الدول العظمى (فرنسا) / طمع الدول العظمى في التوسع / التمييز بين الناس / تقرب
البايات إلى رؤساء الدول العظمى / الجباية المرتفعة / تجبر البايات .

مؤثرات خارجية	مؤثرات داخلية

3. أصل بسهم كل مبدأ من مبادئ عهد الأمان بالمجال المناسب :

• ضمان الأمن لكل السكان في الأموال والأشخاص والأعراض • حرية التجارة والملك • تمتين العلاقة بين تونس والدول الأجنبية خاصة فرنسا • مساواة السكان أمام الأداءات • تأسيس أول مجلس بلدي • حرية ممارسة الديانات	المجال السياسي المجال الاقتصادي المجال الاجتماعي
--	--

4. أربط اسم الشخصية بالعمل الذي قامت به :

- أحمد بن أبي الضياف
- محمد باي
- أحمد باي
- بدأ سياسة الإصلاحات
- ألف كتاب اتحاف أهل الزمان
- أمضى وثيقة عهد الأمان

5. دامت فترة حكم محمد باي من إلى

دستور 1861 م

واصل محمد الصادق باي سياسته الإصلاحات فكلف لجنة من بعض المصلحين مثل خيرالدين باشا وأحمد ابن أبي الضياف بصياغة دستور للبلاد .

ويعتبر صدور دستور 1861 واحدا من أبرز الأحداث المسجلة في التاريخ السياسي الحديث للبلاد التونسية إذ يعد أول دستور عربي حديث ساهم في تكريس العديد من المبادئ السياسية الهامة.

بدأ العمل به في 26 أفريل 1861 وقد تضمن إضافة إلى مبادئ عهد الأمان مبدأ الفصل بين السلطات الثلاث : التشريعية والقضائية والتنفيذية.

• السلطة التشريعية : مشتركة بين الباي والمجلس الأكبر ويتكون من 60 عضوا ومهمتها النظر في مشاريع القوانين وفي ميزانية الدولة.

• السلطة التنفيذية : من مشمولات الباي الذي خول له الدستور اختيار الوزراء ولكنه فقد حرية التصرف في الأموال العمومية وهو ملتزم باحترام القانون ولا تعرض للعزل من قبل المجلس الأكبر.

□


• السلطة القضائية : استقلت عن السلطة التنفيذية وأسست مجالس الجنايات والأحكام العرفية وأبقى على المحاكم الشرعية في تحديد صلاحياتها . مجلس الضبطية المختص في النوازل الخفيفة بالحاضرة.

إثر اندلاع ثورة علي بن غدهم سنة 1864 م قرر الصادق باي إيقاف العمل بدستور 1861.

وثائق وصور :



الصفحة الاخيرة من الدستور



الصفحة الاولى من دستور 1861 م



خير الدين التونسي



محمد الصادق باي



قصر الباي (مجلس النواب و متحف باردو اليوم)

التمارين

1 / أسمى أهم الشخصيات التي ساهمت في سن دستور للبلاد التونسية

2 / في عهد أي باي تمت صياغة الدستور

3 / ماذا تضمن الدستور إضافة إلى مبادئ عهد الأمان

4 / أكتب في الفراغ نوع كل سلطة من السلطات التالية

.....
استقلت عن السلطة التنفيذية وأست مجالس الجنايات والأحكام العرفية وأبقى على المحاكم الشرعية في تحديد صلاحياتها . مجلس الضبطية المختص في النوازل الخفيفة بالحاضرة.	مشتركة بين الباي والمجلس الأكبر و يتكون من 60 عضوا ومهمتها النظر في مشاريع القوانين وفي ميزانية الدولة.	من مشمولات الباي الذي خول له الدستور اختيار الوزراء ولكنه فقد حرية التصرف في الأموال العمومية وهو ملتزم باحترام القانون والالتزام بالعزل من قبل المجلس الأكبر.

5 / أكمل الفراغات بما يناسب :

- السلطة التنفيذية من مشمولات الذي خول له الدستور اختيار الوزراء ولكنه فقد حرية التصرف في الأموال العمومية وهو ملتزم باحترام القانون والالتزام بالعزل من قبل
- السلطة التشريعية مشتركة بين الباي والمجلس الأكبر و يتكون من عضوا ومهمتها النظر في مشاريع القوانين وفي ميزانية الدولة.
- السلطة القضائية استقلت عن السلطة وأست مجالس الجنايات والأحكام العرفية وأبقى على المحاكم الشرعية في تحديد صلاحياتها . مجلس الضبطية المختص في النوازل الخفيفة بالحاضرة.

تونس في القرن التاسع عشر (1814م / 1881م)
الأزمة والحركات الإصلاحية : الفكر الإصلاحي لخير الدين وإصلاحاته

1 / أفكار خير الدين الإصلاحية:

ولد خير الدين في القوقاز وجاء إلى تونس في سنة 1839م وتربى في قصر أحمد باي الذي
لمس فيه الوفاء والذكاء فألحقه بالجيش أين تلقى تكويناً عسكرياً وارتقى بسرعة
في سلم الرتب إلى أن أصبح أمير لواء (جنرال) .

زار خير الدين حوالي 20 دولة أوروبية أهمها فرنسا فتمكن من الإطلاع على الحضارة
الغربية واقتنع بضرورة إدخال إصلاحات جوهرية بعد أن استفاد من الأخطاء السابقة و
تعرف إلى الأسباب الحقيقية لتخلف البلاد فسعى إلى معالجتها بطريقة محكمة لذلك
اعتبر أب النهضة التونسية لدعوته إلى إشاعة العدل والحرية وقد شرح أفكاره هذه في
كتابه : أقوم المسالك في معرفة أحوال الممالك .

من خصال خير الدين : الصدق وحب الوطن والتفتح على العالم المتقدم وسعة اطلاعه و
حذقه للغة التركية والعربية والفرنسية وتقلبه في المهن العسكرية ونشأته في البلاد
ومعرفة دواليب الحكم .



كتاب أقوم المسالك



خير الدين باشا

2/ مبادئ خير الدين الإصلاحية:

المبدأ	النتائج
مبدأ الاعتماد على الذات	استفادة التونسيين من إنتاجهم خاما ومصنعا.
مبدأ العدل والمساواة	تحقيق التقدم / تكافؤ الفرص / نيل الظلم

3/ أهم أعماله الإصلاحية:

بدأ خير الدين إصلاحاته بتنظيم الإدارة بدءا بمهام القيادة والشرطة لاستتباب الأمن وحماية الأهالي من جور القياد.

ميدان الاقتصاد
- تخفيف الأديات و طرح ما تخلص منها بدمية الأهالي.
- انتداب جامعي الجباية من ذوي الكفاءة و الأخلاق الحسنة
- مراقبة أعمال جامعي الجباية
- تنشيط الفلاحة و تشجيع المواطنين على العمل
- اسناد الأراضي الى الفلاحين
- إصدار قانون يتعلق بواجبات الخمسة و الصناعيين

ميدان التربية
- تأسيس المدرسة الصادقية 13 جانفي 1875م
- تنظيم التعليم في هذه المؤسسة
- تفتح التعليم على الغرب
- إعادة تنظيم التعليم في جامع الزيتونة و العناية بالمدرسين

4/ نتائج الإصلاحات:

- داخليا: المصالحة بين الأهالي و الدولية
- خارجيا: عدم رضا المتربصين من الأجانب و حتى من المقربين من الباي مثل مصطفى بن اسماعيل.

وثائق وصور :



تنشيط الفلاحة




حماية الأهالي



جامع الزيتونة



المدرسة الصادقية



مصطفى بن اسماعيل



العملة التونسية في عهد البايات

التمارين :

1: أكمل بما يناسب :

اعتبر خير الدين : التونسية لدعوته إلى إشاعة.....
وقد شرح أفكاره هذه في كتابه:

2: أصل بسهم بين المبدأ والنتيجة

مبدأ الاعتماد على الذات / تحقيق التقدم / تكافؤ الفرص / نبذ الظلم
مبدأ العدل و المساواة / استفادة التونسيين من إنتاجهم خاما و مصنعا.

3/ أصنف أهم أعمال خير الدين الإصلاحية في الجداول التالية:

- مراقبة أعمال جامعي الجباية- تأسيس المدرسة الصادقية 13 جانفي 1875م-
- انتداب جامعي الجباية من ذوي الكفاءة والأخلاق الحسنة- تخفيف الأداءات و طرح ما تخلد منها بدمية الأهالي- إعادة تنظيم التعليم في جامع الزيتونة و العناية بالمدرسين

الميدان التربوي	الميدان الاقتصادي

4\ اكتب نتائج إصلاحات خير الدين :

- داخليا:
- خارجيا:

5- ما هو عنوان الكتاب الذي ألفه : خير الدين التونسي

.....

احتلال تونس و انتصاب الحماية الفرنسية مقاومة الاحتلال الفرنسي

1 / فرنسا تخطط و تحتل البلاد التونسية:

إن فشل حكومة خير الدين و استقالته قضت على فرصة مناسبة لإصلاح الأوضاع و الأدهى من ذلك استعانة الباى بالوزير مصطفى بن اسماعيل الذي تفاقت في عهده المشاكل الاقتصادية مما يسر الأطماع الأجنبية.
و بما أن الجزائر حد للبلاد التونسية من الناحية الغربية و هي دولة محتلة من قبل الفرنسيين فقد استغلت فرنسا مناوشات بين قبائل تونسية و أخرى جزائرية على الحدود و ووجدتها ذريعة للقيام بحملة عسكرية و منفذا لبسط هيمنتها و احتلال البلاد التونسية انطلاقا من الشمال و الشمال الغربي لموقعها المجاور للجزائر.

2 / مقاومة الاحتلال الفرنسي:

بدأ الفرنسيون في احتلال المناطق الشمالية بقيادة الجنرال لوجيرو Giraud انطلاقا من الكاف فسوق الأربعاء و عين دراهم و طبرقة و بنزرت و تونس و حينها وقع محمد الصادق باي و الجنرال برييار على معاهدة باردو في 12 ماي 1881 و التي كرست الهيمنة الفرنسية على البلاد التونسية و بعدها أوغلوا في المناطق الساحلية و الداخلية للبلاد التونسية ثم انتقلت إلى المرحلة الثانية و هي احتلال المدن الساحلية و المدن الداخلية كمدينة صفاقس و قابس و جهة الساحل و الوسط و القيروان.
و ما إن بلغ نبا توقيع معاهدة باردو حتى ثارت قبائل الفراشيش و ماجرو أولاد عيار و جلاص فوقعت معارك عنيفة بينهم و بين قوات الاستعمار انتهت بتغلب المستعمر الفرنسي سنة 1883 م و سيطرته التامة على البلاد بصورة فعلية.

التمارين

1 / أكتب عبارة صواب أو خطأ أمام الإجابة المناسبة:

- احتلت فرنسا البلاد التونسية على مراحل
- احتلت فرنسا البلاد التونسية فلاقت مقاومة شديدة من الأهالي
- احتلت فرنسا البلاد التونسية فتصدت لها قوات حكومة الباي

2 / أربط بسهم بين كل اجراء وما استهدفه من أغراض استعمارية:

الأغراض الاستعمارية	اجراءات الحماية الفرنسية
تجريد البلاد من نفوذها الداخلي	ابرام معاهدة باردو بتاريخ 12 ماي 1881
تجريد البلاد من سيادتها الخارجية	ابرام اتفاقية المرسى بتاريخ 8 جوان 1883

3 / أكتب مكان الفراغ الشهر الذي احتلت فيه القوات الفرنسية المدن بالجدول:
(جويلية 1881 / أفريل 1881 / أكتوبر 1881 / ماي 1881)

المدينة	الكاف	بنزرت	تونس	باجة	القيروان	صفاقس
الشهر

4. اكمل الفراغات بما يناسب :

ما إن بلغ نبأ توقيع معاهدة حتى ثارت قبائل و ماجرو
أولاد عيار و فووقت معارك عنيفة بينهم وبين قوات الاستعمار انتهت
بتغلب سنة وسيطرته التامة على البلاد
بصورة فعلية.

احتلال تونس وانتصاب الحماية الفرنسية - الهيمنة الاستعمارية على البلاد التونسية -

الهيمنة السياسية

فقد الباي سلطته الخارجية عند إمضائه على معاهدة باردوفي 12 ماي 1883 م وأشرفت فرنسا على الشؤون الخارجية والمالية ومنحت المقيم العام رئاسة الوزراء الذي يسير شؤون البلاد أما شؤون الدفاع والعلاقات الخارجية فهي ترجع بالنظر إلى سلطات الحماية ما وقع الباي معاهدة ثانية تكمل المعاهدة الأولى سميت باتفاقية المرسى في 8 جوان 1883 م للسيطرة على الأحوال الداخلية للبلاد وأصبحت سلطة الباي صورية وهذا ما نتج عنه :

- احتكار الوظائف الهامة على الأجانب
- إقصاء الأهالي من الوظائف العمومية
- ظهور الحركات المعادية لنظام الحماية

الهيمنة الاقتصادية

اتخذت السلطات الفرنسية إجراءات إدارية وتشريعية واقتصادية لتصير الحماية استعماراً مباشراً يستهدف استغلال خيرات تونس وتفجير شعبها

- في الميدان الزراعي :
بيع الأراضي الخصبة في شمال البلاد وفي المناطق الساحلية والداخلية إلى المعمرين اتخاذ إجراءات تشريعية عديدة لتوطيد نفوذ المعمرين ولحفزهم على مزيد الاستيطان بناء السدود لتوسيع المساحات المزروعة
إقامة شبكة طرق لنقل المنتج الفلاحي

- في الميدان الصناعي
إنشاء شركات فرنسية لتحويل المواد الغذائية كالمطاحن والمصبرات استثمار المواد الأولية ونقلها إلى فرنسا
مد شبكة السكك الحديدية لاستثمار الثروة المعدنية
الاعتناء بالمواني

- في الميدان التربوي
أنشأ الفرنسيون المدارس لأبنائهم
أنشأ الفرنسيون بعض المدارس الغربية الفرنسية للأهالي

التمارين:

1/ ضع العلامة + أمام الجواب المناسب:

- استحواذ السلطات الفرنسية على الأراضي الفلاحية لفائدة المعمرين
- فتحت السلطات الفرنسية أسواق تونس لترويج البضائع الفرنسية
- فتحت السلطات الفرنسية أسواق فرنسا لترويج البضائع التونسية

2/ أتمم بما يناسب

الحماية الفرنسية تنتزع من البلاد التونسية نفوذها الخارجي بموجب معاهدة
..... كما انتزعت منها نفوذها الداخلي بموجب
اتفاقية..... وقد اتخذت اجراءات اقتصادية بأن شجعت شركاتها على
استغلال..... وفتحت الأسواق التونسية..... أمام
..... واستحوذت على الأراضي الفلاحية لفائدة.....

3. أصل بسهم بين الإجراءات التي اتخذتها السلطات الفرنسية والميدان المناسب :

اقامة شيكة طرق انقل المنتج الفلاحي

الميدان الزراعي

أنشأ الفرنسيون المدارس لأبنائهم

بناء السدود لتوسيع المساحات المزروعة

الميدان الصناعي

4. أكتب امام كل اتفاقية تاريخ امضائها :

- معاهدة باردو:
- اتفاقية المرسى:

بوادر الحركة الوطنية

الصحافة وسيلة للنضال الوطني

فقد البلاد التونسية مقومات سيادتها فأستت جماعة من المثقفين على رأسهم علي بوشوشة جريدة تسمى الحاضرة ومن أهداف بعث هذه الجريدة :

- توعية الشعب التونسي واستنهاض الهمم.
- تحسيس الشعب التونسي بمشاكله المختلفة المتأتية من هيمنة المستعمر.
- جمعيات ومؤسسات تعليمية ساهمت بدورها في دفع النضال الوطني
- كون البشير صفر وجماعة من المثقفين التونسيين الجمعية الخلدونية التي كان لها دور هام في إدخال إصلاحات على التعليم الزيتوني استجابة لمتطلبات العصر الحديث أما برنامجها فيتمثل في :

- تعصير التعليم الزيتوني
 - تدريس العلوم بمختلف أنواعها
 - لقاء محاضرات توعوية
- كما نشأت جمعية أخرى موازية تسمى جمعية قدماء الصادقية يرأسها خير الدين بن مصطفى في 23 ديسمبر 1905 م ومن أهم أنشطتها :

- تنظيم محاضرات باللغة العربية في جميع أنحاء العاصمة
 - نشر الفكر الصادقي
 - العناية بالرياضة والفنون كالتمثيل والموسيقى
 - نشر التعليم بين الفتيات
 - إنشاء نواد أدبية
- لهذه الجمعيات دور هام في دفع النضال الوطني فقد قاومت السياسة الاستعمارية وهيأت لتكوين أحزاب.

وثائق وصور :



البشير صفر
1917 - 1856



جريدة الحاضرة



هيئة الجمعية الخلدونية عام ١٩٠٢ عند استقبال الشيخ محمد عبيد



مقر الجمعية الخلدونية



تأسيس الجمعية الخلدونية



المدرسة الصادقية



التمارين :

اكتب علامة + أمام الجواب المناسب:

- تدعو الجمعية الخلدونية إلى رحيل المستعمرين عن البلاد التونسية
- تطالب جريدة الحاضرة بنشر التعليم وتعصيره
- تنظم جمعية قدماء الصادقية محاضرات ودروس وندوات
- تنظم الجمعية الخلدونية ندوات سياسية ودينية
- تقيم الجمعية الخلدونية دروسا في العلوم الصحيحة والجغرافيا والتاريخ

2. أذكر جمعية من الجمعيات التي أسسها المثقفون وعين أهدافها

- الجمعية:
- أهدافها:
-

3. أكمل الجدول التالي

وسائلها	نشاطاتها	أهدافها	
			جريدة الحاضرة
			الجمعية الخلدونية
			جمعية قدماء الصادقية

4. أكمل تعبير الفراغات باسم الشخصية المناسب :

- أسس جريدة الحاضرة
- كون الجمعية الخلدونية
- ترأس جمعية قدماء الصادقية

الحركات الإصلاحية : حركة الشباب التونسي

• كيف نشأت حركة الشباب التونسي ؟

قام علي باش حامبه والبشير صفر ببعث حركة جديدة تمثلت في حركة الشباب التونسي واتخذت جريدة "التونسي" صحيفة رسمية لها . دعت هذه الحركة إلى تعصير التعليم وتطويره وحماية أملاك التونسيين والنهوض بالصناعات المحلية وحمايتها.

• الصحافة تلعب دورا هاما في ابلاغ صوت التونسيين

من أهم المحررين في جريدة التونسي علي باش حامبه (نشرة فرنسية) وعبد العزيز الثعالبي نشرة عربية وركزت نشاطها على الإصلاحات التربوية والسياسية والاقتصادية والاجتماعية معتمدين على الوسائل السلمية .
كما قدمت الصحيفة بعدة مطالب للسلط الفرنسية :

المطالب السياسية	المطالب الاقتصادية والاجتماعية
• المساواة بين السكان	• نشر التعليم المهني والفلاحي
• مقاومة النزعة العنصرية	• إلغاء المجبي
• تشريك التونسيين في إدارة شؤونهم	• تأسيس صناديق فلاحية ومنح القروض
	• مساعدة صغار الفلاحين على اقتناء أراض

من نتائج نشاط حركة الشباب التونسي:

- اضطرابات طلبية جامع الزيتونة 1910م
- معركة الزلاج 7 نوفمبر 1911 م بسبب عزم الفرنسيين على تسجيل مقبرة الزلاج لصالح البلدية تمهيدا للتصرف في جزء منها فاعتبر التونسيون هذه العملية تحديا لمقدساتهم الدينية فنشأت بذلك معركة بينهم وبين السلطات الاستعمارية انتهت بإعلان الحصار وتعطيل الصحف العربية.
- حوادث الترامواي 1912 م : قاطع التونسيون ركوب الترامواي لأسباب كثيرة منها :
- عدم الاكتراث بالركاب وسرعة عرباته التي تسببت في موت صبي تونسي داسته العربات
- تفضيل الشركة تشغيل الايطاليين على التونسيين
- عدم مساواة الجميع في الأجور والارتقاء المهني
هذا ما أدى إلى افلاس الشركة فعملت السلطات الاستعمارية إلى :
- ابعاد كل من علي باش حامبه وعبد العزيز الثعالبي
- تعطيل جريدة التونسي الناطقة بالفرنسية
لكن ذلك لم يمنع التونسيين من مواصلة مقاومتهم للمستعمر .

وثائق وصور :



عبد الجليل الزاوش
1947 - 1873



البشير صفر
1917 - 1856



علي باش حامبه
1918 - 1876



عبد العزيز الشعالي
1944 - 1875




اعتقالات بالجملّة



جريدة التونسي



حادثة الجلاز



حادثة الترامواي



× PROCES DU DJELLAZ (1911)

محاكمة المشاركين في انتفاضة الجلاز

التمارين :

1 / عمر الجدول التالي :

طالبت حركة السباب التونسي :

.....	في الميدان الاقتصادي
.....	في الميدان الاجتماعي
.....	في ميدان التعليم

2 / أصل بسهم بين الحدث واسم الشخصية المناسب له :

- مؤسس حركة الشباب التونسي
- محررين بجريدة "التونسي"
- قاموا باضطرابات سنة 1910 م
- عبدالعزيز الثعالبي وعلي باش حامبه
- علي باش حامبه والبشير صفر
- طلبة جامع الزيتونة

3 / أكمل بالتاريخ المناسب :

حوادث الترامواي	معركة الزلاج	اضطرابات طلبة جامع الزيتونة
.....

4- أذكر اسباب كل من :

- معركة الجلاز:
-
- حوادث الترامواي:
-

5- اذكر نتائج كل من :

- معركة الجلاز:
-
- حوادث الترامواي:
-

الحزب الحر الدستوري التونسي

كانت حالة الشعب التونسي بعد الحرب العالمية الأولى متدهورة حيث فرضت السلطات الاستعمارية الضرائب والأتوات ورفعت في اسعار المعاش فأصبح جل الشعب التونسي في حالة بؤس وشقاء .

برنامج الحزب الحر الدستوري التونسي

أسس عبد العزيز الثعالبي الحزب الحر الدستوري التونسي الذي يضم إلى جانبه نخبة من المثقفين التونسيين في مارس 1920 .

تنوعت مطالب الحزب الحر الدستوري التونسي وذلك من خلال برنامجه الذي تضمن العديد من المطالب السياسية والاجتماعية منها :

- تأسيس مجلس تفاوضي مؤلف من تونسيين وفرنسيين منتخبين بالاقتراع المباشر يكون دوره التصويت على الميزانية واستصدار القوانين التنظيمية الداخلية.
- تكوين حكومة مسؤولة أمام المجلس يستثنى منها كل من المقيم العام وقادة الجيش.

• التفريق بين السلطات الثلاث : التنفيذية والتشريعية والقضائية.

• حق التونسيين في التقدم إلى جميع الوظائف الادارية

• المساواة في الرواتب بين التونسيين والفرنسيين إذا كانوا يقومون بنفس الخطط والوظائف.

• تنظيم بلديات منتخبة بالاقتراع المباشر في كل التجمعات الداخلية.

• حق التونسيين في شراء الأراضي المعدة للزراعة.

نشاط الحزب من 1920 م إلى 1954 م

لم يقتصر الحزب الحر الدستوري التونسي في اشعاعه على النخبة المثقفة فقط بل كسب تأييد الرأي العام التونسي وانطلق نشاطه فعمل على تركيز الشعب الدستورية لتنظيم الاجتماعات والمظاهرات الاحتجاجية / التركيز على بعض المشاكل مثل مسألة الأحباس واتبع الحزب الحر الدستوري سياسة تعتمد على ارسال الوفود إلى الباي والى الخارج لابلاغ مطالبه.

الوفد الأول	سافر إلى باريس في 6 جوان 1920	شرح القضية التونسية أمام جمعية حقوق الانسان
الوفد الثاني	اتصل بالأوساط الفرنسية في 1920	لإقناعها بشرعية مطالب الحزب
الوفد الثالث	تحول إلى باريس في 1924	للتذكير ببرنامج الحزب وشرحه
وفد الباي	تحول إلى المرسي لمقابلة الباي في 1920	للمطالبة بدستور البلاد



أعضاء الحزب الحر الدستوري التونسي



عبد العزيز الثعالبي وكتابه تونس الشهيدة



الفقر الخاصة أيام الاستعمار



بطاقة انخراط بالحزب



وفد الباي

التمارين

1 / ضع كل عبارة من العبارات التالية في المكان المناسب :

إرسال الوفود / إصدار الصحف / الشعب

اعتمد الحزب الحر الدستوري التونسي.....في توعية الجماهير
وتأسيس.....في توسعه داخل البلاد واتباع سياسته.....في
إبلاغ مطالبه إلى الباي وإلى فرنسا.

2 / أكمل تعميم الجدول التالي

كما اتبع الحزب الحر الدستوري التونسي سياسة تعتمد على إرسال الوفود إلى الباي وإلى
الخارج لإبلاغ مطالبه.

الوفد الأول	سافر إلى باريس في 6 جوان 1920
الوفد الثاني	لاقناعها بشرعية مطالب الحزب
الوفد الثالث	تحول إلى باريس في 1924
.....	تحول إلى المرسى لمقابلة الباي في 1920	للمطالبة بدستور البلاد

3- اكمل :

مؤسس الحزب الحر الدستوري التونسي هو.....

وكان ذلك سنة..... وقد عرض افكاره وبرنامجه في كتاب :

.....

أسباب انعقاد مؤتمر قصر هلال

1 / أسباب انعقاد المؤتمر

ضمت جماعة العمل التونسي نخبة من المثقفين وكان من أعضائها :
الحبيب بورقيبة والطهر صفر ومحمود الماطري والبحري قيقة
انقسم قادة الحزب الحر الدستوري إلى شقين:

فقد طالب جماعة العمل التونسي بتحرير البلاد والاعتماد على العمل الجماهيري مقاومة
الاستعمار.

أما بقية أعضاء اللجنة التنفيذية فقد اعتمدوا الحيطة والتريث الاعتدال في مقاومة
الاستعمار.

قام الحبيب بورقيبة وجماعته بحملة في نطاق الشعب ضد بقية أعضاء الحزب الحر
الدستوري داعين إلى انعقاد مؤتمر يحسم فيه الخلاف القائم فكان ذلك يوم 2 مارس 1934
بقصر هلال.

2 / نتائج مؤتمر قصر هلال

صدرت عن مؤتمر قصر هلال لائحة عابت فيه على أعضاء اللجنة التنفيذية الجمود
والاستسلام واستبدال برنامج الحزب ببرنامج آخر لا يوافق برنامج الفكرة الدستورية
ومغالطة الشعب التونسي وقرر المؤتمر حل اللجنة التنفيذية ورفعت أعضائها .
عقد الحزب الحر الدستوري الجديد مؤتمره الثاني بتونس واستنكر في لائحته سياسة
بيروطن التعسفية والقمعية ضد الحركة الوطنية وأعلن صراحة هدفه بتحرير الشعب
التونسي من الاستعباد السياسي والاستغلال الاقتصادي.

اراد المقيم العام الفرنسي أن يستغل الصراعات بين جماعة العمل التونسي وبقية أعضاء
اللجنة التنفيذية لإضعاف الحركة الوطنية ولما خابت تنبؤاته عمد إلى ابعاد ثمانية من
قادة الحزب الحر الدستوري إلى الجنوب لكن الحركة الوطنية لم تخمد بل قامت
مظاهرات احتجاجا على تعسف السلط الاستعمارية.

عمدت السلط الاستعمارية إلى ايقاف قادة الحزب الدستوري الجديد فأعلن هذا الأخير
اضرابا عاما يوم 8 أفريل 1938 ونظمت خلال هذا اليوم مظاهرة حاشدة شارك فيها آلاف
المواطنين وحضرها عدد من قادة الحزب ونادى الجميع ببرلمان تونسي وحكومة وطنية
كما شهد 9 أفريل 1938 تصادما بين القوى الشعبية والقوات الاستعمارية كرد فعل
على دعوة علي بلهوان إلى المثل أمام قاضي التحقيق. وجاءت هذه الأحداث نتيجة سياسة
الحزب الدستوري الجديد في التكثيف من نشاطه واعتماده على الاتصال المباشر بالجماهير
وتغذية الروح النضالية والحس الوطني لديهم.

وثائق وصور :



اعضاء الديوان السياسي للحزب



مؤتمر قصر هلال



مارسال بيروتون



جماعة العمل التونسي



مظاهرات 8 افريل 1938



التمارين

1 / عمر الجدول التالي بذكر عنصرين على الأقل في كل واد :

من أسباب الانشقاق عن الحزب الحر الدستوري التونسي	من نتائج مؤتمر قصر هلال في 2 مارس 1934	من طرق عمل الحزب الدستوري الجديد
..... 1. 1. 1.
..... 2. 2. 2.
..... 3. 3. 3.

2. / أكتب صواب أو خطأ أمام كل جملة :

- تأسس الحزب الحر الدستوري التونسي الجديد في 2 مارس 1934
- اتبع الحزب الجديد نفس الوجهات الفكرية للحزب القديم
- اتسمت الفترة من 1934 إلى 1938 بتلبيين المواقف الاستعمارية
- من سياسة التصلب للحزب الجديد أحداث 9 أفريل 1938

3- ضمت جماعة العمل التونسي نخبة من المثقفين أسمى ثلاثة من أعضائها :

-
-
-

4- أصل بسهم بين مطالب كل شق من قادة الحزب الحر الدستوري :

- | | |
|------------------------|--|
| جماعة العمل التونسي | اعتماد الحيطة والتريث الاعتدال في مقاومة الاستعمار. |
| أعضاء اللجنة التنفيذية | تحرير البلاد والاعتماد على العمل الجماهيري مقاومة الاستعمار. |

5- ماذا وقع يوم :

- 8 أفريل 1938
- 9 أفريل 1938

الحركة الوطنية من الحرب العالمية الثانية إلى الاستقلال

• تطور الوعي الوطني

هاجر القادة الدستوريون إلى خارج ارض الوطن للتشهير بالسياسة الاستعمارية وكسب التأييد الخارجي للقضية التونسية وعرضها على المحافل الدولية كما كثفوا من اتصالاتهم بالجماهير لتعبئتهم وشحذ عزائمهم

• الترابط بين الحركة الوطنية والحركة النقابية

تأسس الاتحاد العام التونسي للشغل يوم 20 جانفي 1946 بزعامة فرحات حشاد ومن مطالبه

• إلغاء الاتفاقيات المشتركة المعقودة قبل الحرب

• تأسيس صناديق لفائدة المتقاعدين

• الرفع من المنح العائلية

• تكوين مجالس الشغل

• اصدار القوانين في شأن الراحةات المأجورة

ولم يقتصر دور الاتحاد العام التونسي للشغل على العمل النقابي بل جاوزه على المساهمة في تحرير البلاد من الاستعمار.

الكفاح المسلح والحصول على الاستقلال

أعلنت الحكومة الفرنسية على عزمها ربط البلاد التونسية بصفة عضوية ونهائية بفرنسا فحصلت القطيعة بين الجانبين التونسي والفرنسي وشدت السلطات الاستعماري من قمعها وبعد ردها على مذكرة 31 أكتوبر 1951 حصلت مواجهات واعتقالات كثيرة في صفوف الوطنيين واغتيل البعض الآخر مثل :

• الهادي شاكر الذي اغتيل في 13 سبتمبر 1953

• فرحات حشاد الذي اغتيل في 5 ديسمبر 1952

فواجه التونسيون القمع الاستعماري بالكفاح المسلح وقاموا بعمليات عسكرية ضد المنشآت الفرنسية وقوات الاحتلال والمعمرين.

أدركت فرنسا أن الشعب التونسي بفضل ما بلغه من التطور وما أبداه من رفض الحماية الفرنسية ومقاومة السلطة الاستعمارية مصمما على الاستقلال فاعترفت لتونس بـ :
الاستقلال الذاتي في مرحلة أولى (اتفاقية الحكم الذاتي المبرمة في : 3 جوان 1955)
بالاستقلال التام في مرحلة ثانية (بروتوكول إلغاء الحماية نهائيا في 20 مارس 1956)
وبذلك أصبحت تونس دولة مستقلة ذات سيادة .



الشهيد الهادي شاكر



الزعيم فرحات حشاد يخطب وسط الجماهير



اغتيال فرحات حشاد



الفلاقة ومقاومة الاستعمار



باي تونس ومنداس فرانس - الاستقلال الداخلي-

التمارين :

1 - صل بسهم بين كل عنصر بما يناسبه :

- القطيعة بروتوكول 20 مارس 1956
- المواجهة حملات الاعتقال والاغتيالات والمداهمات
- الحكم الذاتي رد الحكومة الفرنسية على مذكرة 31 أكتوبر 1951
- الاستقلال التام اتفاقيات 3 جوان 1955

2 - اكمل الفراغات بالافادات المناسبة :

ولم يقتصر دور الاتحاد العام التونسي للشغل على..... بل جاوزه على
المساهمة في.....

3 - اشطب المطالب التي لم ترد في لائحة الاتحاد العام التونسي للشغل :

- استقلال البلاد
- تأسيس صناديق لفائدة المتقاعدين
- تشغيل التونسيين
- الرفع من المنح العائلية
- تكوين مجالس الشغل

4 - أصل كل حدث بالتاريخ المناسب :

- تأسس الاتحاد العام التونسي للشغل 13 سبتمبر 1953
- الهادي شاكر الذي اغتيل في يوم 20 جانفي 1946
- فرحات حشاد الذي اغتيل في 5 ديسمبر 1952

تونس في عهد الاستقلال

• إلغاء النظام الملكي وقيام الجمهورية

بادرت البلاد التونسية بعد سنة من حصولها على الاستقلال التام بانتخاب المجلس القومي التأسيسي من قبل الشعب (وهو عبارة عن مجلس النواب حاليا) ومن أهم قراراته يوم 25 جويلية 1957 : إرساء النظام الجمهوري سيرا في طريق النظام الديمقراطي

إلغاء النظام الملكي

تكفاه بإعداد دستور (غرة جوان 1959) الذي ضمن الحريات الفردية وحرية المعتقد والفكر والتعبير والنشر .. وحدد واجبات المواطن التونسي باحترام القانون وعدم الاخلال بالأمن والدفاع عن الوطن وسلامته.
ومن مظاهر تحديث المجتمع بعد الحصول على الاستقلال اصدار مجلة الأحوال الشخصية في 13 أوت 1956 التي منحت حقوقا للمرأة التونسية وحددت واجبات الزوج والزوجة لفائدة الأسرة وحسن تربية الأبناء.

الجلء العسكري


على اثر قصف المستعمر لساقية سيدي يوسف في 8 فيفري 1958 وتوسيع ممرات الطائرات بالقاعدة الجوية ببنزرت والتوسع في الأراضي المحيطة بالقاعدة قامت معركة بنزرت في صائفة 1961 كانت نتائجها سقوط عدد كبير من الشهداء التونسيين ورحيل آخر جندي فرنسي عن تراب البلاد في 15 أكتوبر 1961 .

الجلء الزراعي : اكتمال السيادة

من مظاهر الجلء الزراعي اصدار قانون 12 ماي 1964 الذي دعا إلى :
منع امتلاك الأراضي الفلاحية من غير التونسيين
تحويل أراضي المعمرين الموضوعة تحت الائتمان إلى أملاك الدولة
تنمية الميدان الفلاحي واستغلاله بطريقة عصرية



إعلان الجمهورية كما ظهر في الصفحة الأولى من جريدة الصباح (26 جويلية 1957)



المجلس القومي التأسيسي



بورقيبة مع أول حكومة بعد إعلان الجمهورية في 25 جويلية 1957

أول حكومة تونسية



أحداث ساقية سيدي يوسف



اول دستور للبلاد التونسية



الجلاء عن بنزرت

التمارين :

1/ صل بسهم الحدث بالتاريخ الذي يناسبه

- غرة جوان 1959
- 13 أوت 1959
- 12 ماي 1964
- 25 جويلية 1957
- 15 أكتوبر 1961

- الإعلان عن النظام الجمهوري
- صدور دستور البلاد
- صدور مجلة الأحوال الشخصية
- جلاء آخر جندي فرنسي عن تراب تونس
- صدور قانون الجلاء الزراعي

2/ أجب على الأسئلة التالية :

ماذا ألغى المجلس القومي التأسيسي ؟

.....

ما هي أهم الحريات التي ضمنها دستور غرة جوان 1959 ؟

.....

ما هي الحقوق التي منحتها مجلة الأحوال الشخصية للعائلة التونسية ؟

.....

استكملت البلاد التونسية سيادتها بجلائين اذكرهما وأحدد تاريخ كل واحد :

.....

.....

3- أكمل الفراغات بما يناسب :

على اثر قصف المستعمر..... في 8 فيفري 1958 وتوسيع

ممرات الطائرات بالقاعدة الجوية..... والتوسع في الأراضي المحيطة

بالقاعدة قامت معركة بنزرت في صائفة 1961 كانت نتائجها سقوط عدد كبير من

الشهداء..... ورحيل آخر جندي..... عن تراب البلاد.

جمغز افيا

نور الدين بن خضر

دروس الجغرافيا
برنامج السنة السادسة

تقديم عام للمغرب العربي	المغرب العربي	1
الخصائص التضاريسية للمغرب العربي	الخصائص الطبيعية للمغرب العربي	2
مناخ المغرب العربي (الحرارة والتساقطات في المغرب العربي)		3
التربة والنبات والوديان في المغرب العربي		4
سكان المغرب العربي	السكان	5
الانتاج الفلاحي والصيد البحري في المغرب العربي	اقتصاد المغرب العربي	6
النشاط الصناعي في المغرب العربي		7
المواصلات والمبادلات التجارية في المغرب العربي		8
تونس (تقديم عام)	تونس	9
تضاريس البلاد التونسية	الخصائص الطبيعية للبلاد التونسية	10
المناخ والمياه والنبات بالبلاد التونسية		11
النمو الديمغرافي والتركيب العمري للسكان	الخصائص البشرية للبلاد التونسية	12
التوزع الجغرافي للسكان وحركات الهجرة الداخلية		13
الحبوب والغراسات والخضروات بالبلاد التونسية	الفلاحة والصيد البحري	14
تربية الماشية والصيد البحري بالبلاد التونسية		15
الطاقة والمواد الأولية بالبلاد التونسية	الطاقة والمناجم والصناعة	16
الصناعة في البلاد التونسية		17
المناطق السياحية الساحلية والصحراوية بالبلاد التونسية	السياحة بالبلاد التونسية	18
انعكاس السياحة على الاقتصاد		19
النقل بالبلاد التونسية	النقل	20
الواردات والصادرات بالبلاد التونسية	التجارة الخارجية	21

المحور الأول المغرب العربي :

تقديم عام للمغرب العربي

• البلدان والعواصم :

يتكون المغرب العربي من خمسة بلدان وهي :

البلد	العاصمة	ليبيا	تونس	الجزائر	المغرب	مورطانيا
	طرابلس	تونس	الجزائر	الرباط	نواك الشط	

الموقع :

تقع بلدان المغرب العربي :

على الضفة الجنوبية للبحر الأبيض المتوسط	في الجناح الغربي من العالم العربي	في شمال القارة الإفريقية
		

الحدود :

يحد بلدان المغرب العربي :

غربا	شرقا	جنوبا	شمالا
المحيط الأطلسي	مصر والسودان	التشاد / مالي / النيجر / السنغال	البحر الأبيض المتوسط

المساحة :



تبلغ مساحة المغرب العربي بالكم² :

المغرب العربي	تونس	المغرب	موريطانيا	ليبيا	الجزائر
6.000.000	163610	710850	1030700	1.759.540	2381.741

تمثل مساحة المغرب العربي (نصف) مساحة العالم العربي¹ على⁵ (خمس) مساحة القارة

الإفريقية

ليبيا
المساحة : 1,759,540 كم²
عدد السكان : 6,173,579 نسمة


المحيط الأطلسي
البحر المتوسط
خط الاستواء
المحيط الأطلسي
162155 = المساحة بالكيلومتر مربع

تونس
المساحة : 163,610 كم²
عدد السكان : 10,327,800 نسمة







المغرب
المساحة : 446,550 كم²
عدد السكان : 37,126,350 نسمة





الجزائر
المساحة : 2,381,742 كم²
عدد السكان : 35,600,000 نسمة






موريتانيا
المساحة : 1,030,000 كم²
عدد السكان : 3,291,000 نسمة





التمارين :

1) اشطب الخطأ مما يلي:

يقع المغرب العربي في:

- (شمال/جنوب) القارة الإفريقية
- على الضفة (الشمالية/ الغربية) للبحر المتوسط
- في الجناح (الغربي / الشرقي) من العالم العربي

2) أضع في إطار الكسر المناسب للتعرف على مساحة المغرب العربي :

- (5/1) (4/1) القارة الإفريقية و (2/1) (3/1) مساحة العالم العربي

3) اكتب صواب أو خطأ أمام كل جملة

	يقع المغرب العربي على الضفة الجنوبية للبحر المتوسط
	تبلغ مساحته ثلث مساحة القارة الإفريقية
	تبلغ مساحته نصف مساحة العالم العربي
	يحده من الشمال المحيط الأطلسي
	ليبيا أكبر قطر مغربي من حيث المساحة

4) أكمل تعميم الجدول التالي بذكر عواصم بلدان المغرب العربي :

البلد	ليبيا	تونس	الجزائر	المغرب	مورطانيا
.....

5) أرتب بلدان المغرب العربي حسب مساحتها : (من الأكبر إلى الأصغر)

-
-
-
-
-

المحور الثاني الخصائص الطبيعية للمغرب العربي :

الخصائص التضاريسية للمغرب العربي

تغلب المرتفعات من هضاب وجبال وتقل السهول
تمتد الجبال الشمالية في المغرب العربي في شكل سلسلتين :

• الأطلس التلي

• الأطلس الصحراوي

ينخفض ارتفاع الجبال من الغرب نحو الشرق
تنفرد الجزائر بكتلة جبلية منعزلة في الجنوب
أهم الجبال :

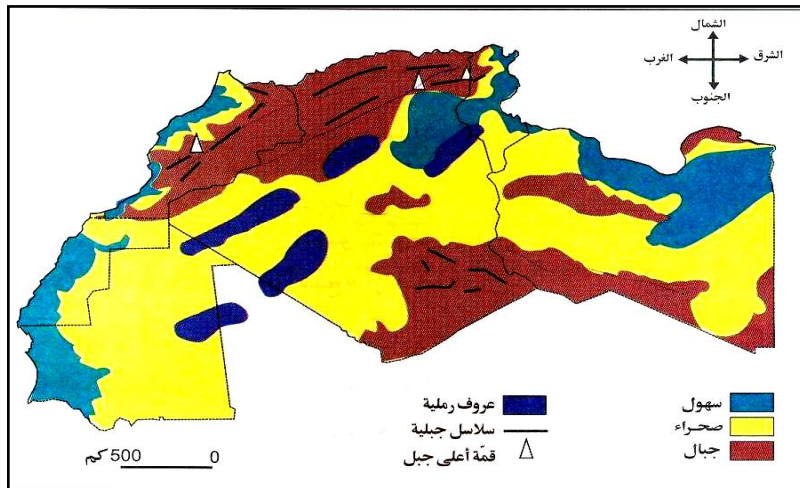
جبل طوبقال	
جبل أوراس	4165 م
جبل الشعاني	المغرب
2328 م	
الجزائر	
1544 م	
تونس	

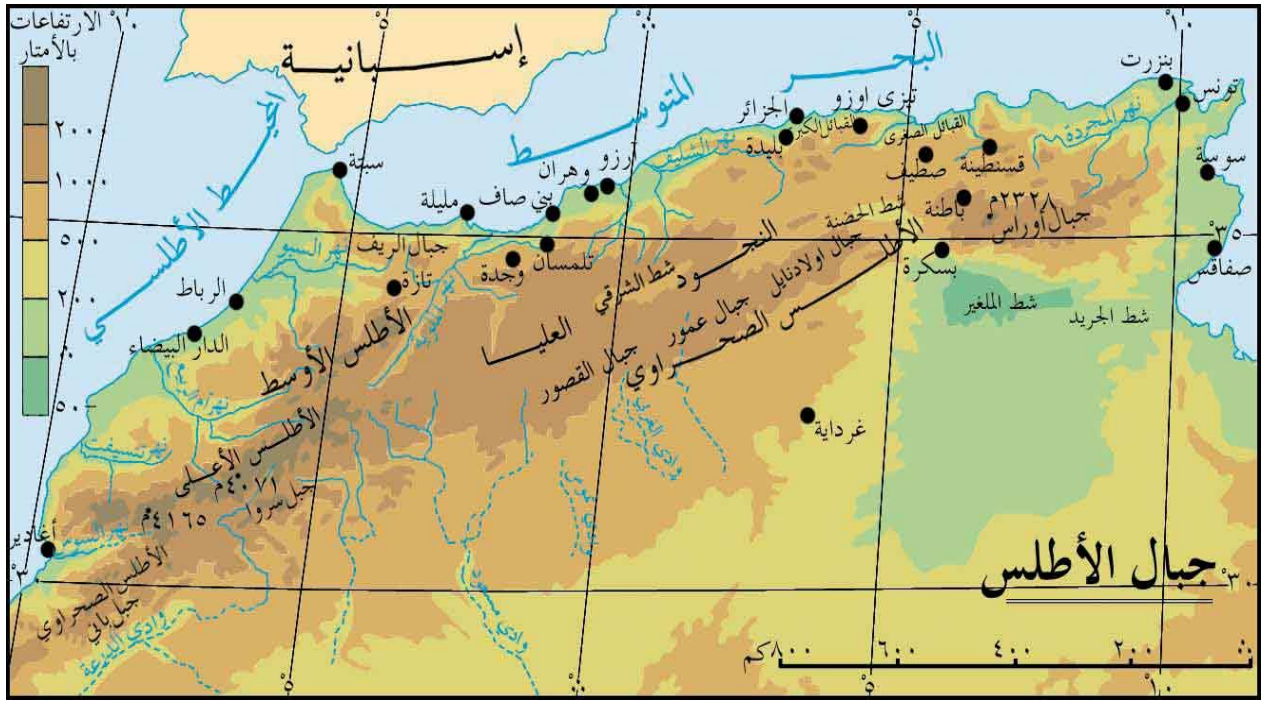
الهضاب أكثر أنواع التضاريس انتشارا ومن أهمها :

- الهضاب العليا في الجزائر (الهضبة : أرض مبسطة ومرتفع بها أودية عميقة)
- العروق والحامدات في الصحراء (الحمادة : أرض منبسطة ومرتفعة مغطاة بالرمل)

السهول صنفان :

- سهول ساحلية ضيقة
- سهول داخلية أكثر اتساعا





جبل الشعاني



منظر من جبال الأطللس في شمالي الجزائر الشرقي



جبال توبقال



الحمادات



العروق



الهضاب



سهول داخلية



سهول ساحلية

نور الدين بن خضر

1/ اكتب الكلمة المناسبة نعم أو لا في كل خانة :

	يزيد ارتفاع الجبال كلما انتقلنا من الشرق نحو الغرب
	الهضاب أكثر أنواع التضاريس انتشارا في المغرب العربي
	السهول أقل أنواع التضاريس انتشارا في المغرب العربي

2/ اكتب "نعم" أو "لا" أمام كل إفادة

- تغلب المرتفعات من هضاب وجبال على تضاريس المغرب العربي.....
- السهول الداخلية بالمغرب العربي أقل اتساعا من السهول الساحلية
- جبل طوبقال أعلى جبل في المغرب العربي

3/ السهول صنفان أكمل بتعريف كل نوع:

- سهول ساحلية.....
- سهول داخلية.....

4) أصل بسهم بين أسماء الجبال وارتفاعاتها والبلدان الموجودة فيها :

البلد	أعلى قمة	السلسلة
المغرب	1544 م	جبال الشعايني
تونس	4165 م	جبال اوراس
الجزائر	2328 م	جبال طوبقال

5) أصلح الخطأ في ما يلي :

- الهضبة: أرض مبسطة ومرتفعة مغطاة بالرمل
- الحمادة: أرض منبسطة ومرتفعة بها أودية عميقة

المحور الثاني : الخصائص الطبيعية للمغرب العربي

مناخ المغرب العربي (الحرارة والتساقطات في المغرب العربي)

المعدلات الحرارية :

معتدلة في المناطق الساحلية أما في المناطق الداخلية فهي مرتفعة صيفا ومنخفضة شتاء

التساقطات :

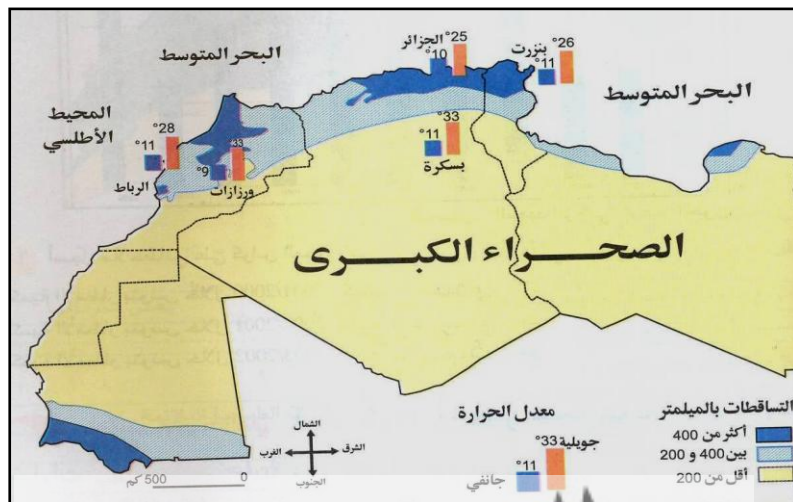
تتميز بعدم الانتظام الفصلي و السنوي بحيث تتعاقب السنوات الممطرة والسنوات الجافة

في الجنوب	في الوسط	في الشمال
أقل من 200 مم	بين 200 و 400 مم	تفوق 400 مم
مجال ممطاري جاف	مجال شبه جاف	مجال مطاري رطب

المناخ

في المغرب العربي ثلاثة أصناف من المناخات :

- مناخ متوسطي : في المنطقة الشمالية يتميز بصيف حار وجاف وشتاء رطب ومعتدل
- مناخ صحراوي : في المنطقة الجنوبية يتميز بالجفاف وارتفاع المدى الحراري
- مناخ شبه الجاف : في المنطقة الوسطى يتميز بالمروحة بين المناخين المتوسطي والصحراوي



التمارين :

1) اشطب الخطأ في ما يلي للحصول على الإفادة الصحيحة :

المعدلات الحرارية..... في المناطق الساحلية أما في المناطق الداخلية فهي
..... صيفا و..... شتاء

2) أربط بين كل جهة ومجالها المطاري ومناخها

مناخ صحراوي	الشمال	مجال ممطاري جاف
مناخ متوسطي	الوسط	مجال ممطاري رطب
مناخ شبه جاف	الجنوب	مجال شبه جاف

3) أكمل تعميم جدول التساقطات في المغرب العربي :

في الجنوب	في الوسط
أقل من 200 مم	تفوق 400 مم
.....	مجال شبه جاف	مجال مطاري رطب

4. ألون في الخريطة التالية حسب المجالات المطارية :



المحور الثاني : الخصائص الطبيعية للمغرب العربي :

التربة والنباتات والوديان في المغرب العربي

تصنف النباتات الطبيعية الى ثلاثة مجموعات :

1/ الغابات (فرنان / بلوط / زان / صنوبر حليبي)

• في المرتفعات الجبلية / المناخ رطب / التربة غنية

2/ السباسب (حلفاء / شيح / سدر)

• في الهضاب / المناخ شبه جاف / التربة متوسطة

3/ النباتات الصحراوية (طرفاء / رتم / قندول)

• في الهضاب والسهول / المناخ جاف / التربة فقيرة

أسباب تراجع الكساء النباتي في المغرب العربي

- تحطيم الغابات للحصول على الحطب والخشب

- الرعي المفرط والفوضوي / توسيع أراضي الحراثة

- ارتفاع الكثافات السكانية في المرتفعات

- قساوة الظروف الصحراوية في المناطق الصحراوية

المخاطر التي تهدد التربة والحلول المناسبة لها:

• الانجراف : الحراثة حسب خطوط عكس المنحدرات

• التعرية: التشجير والاثراء بالأسمدة

• التصحر: اقامة مصدات لمقاومة زحف الرمال

الوديان :

تنقسم الوديان بالمغرب العربي الى نوعين :

1/ وديان ذات تصريف خارجي : بالمناطق التلية وأهمها :

- واد أم الربيع / واد السبو / واد الملوي : بالمغرب الأقصى

- واد الشلف : بالجزائر

- واد مجردة : بتونس

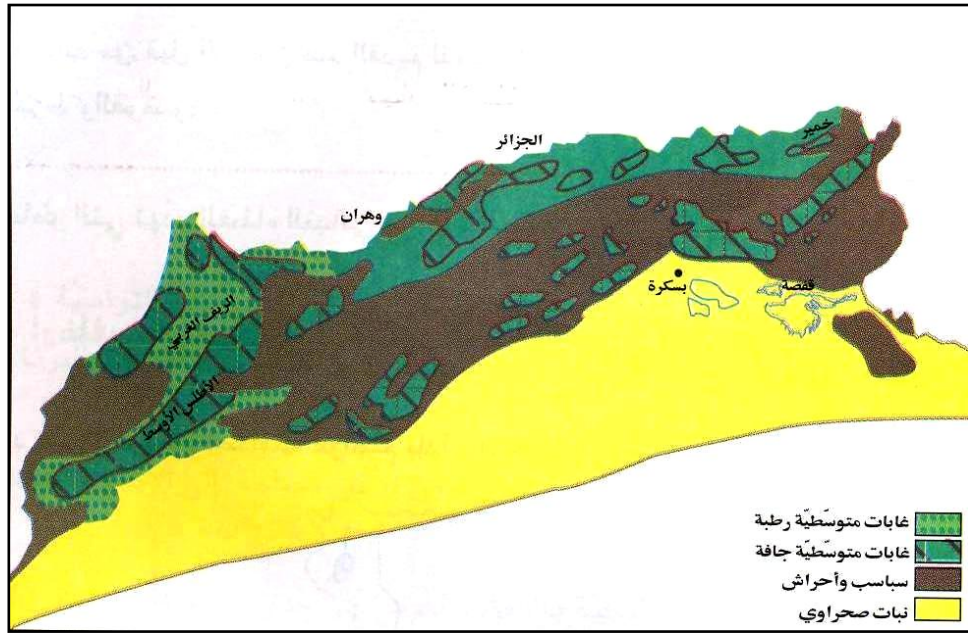
2/ وديان ذات تصريف خارجي : بالمناطق السباسبية وأهمها :

- واد الزرود : بتونس

للمحافظة على الثروة المائية لا بد من حسن استغلال المياه الجارية والمياه الباطنية بالاقليم

الصحراوي وذلك ببعث مشاريع علي منوال :

السدود الكبرى بالمغرب الأقصى / ارجيم معتوق في تونس / النهر الاصطناعي بليبيا



التربة والنبات بالمغرب العربي



الصنوبر



الزان



البلوط



الفرنان

الغابات بالمغرب العربي



وادي مجردة - تونس -



وادي الشلف - الجزائر -



وادي ام الربيع - المغرب -

1- أربط كل جهة بنوع تربتها ومجالها المطاري وكسائها النباتي :

الكساء النباتي	المجال المطاري	التربة	الجهة
نبات صحراوي	جاف	متوسطة	المرتفعات الشمالية
غابات	شبه جاف	غنية	الهضاب والمرتفعات الوسطى
سباسب	رطب	فقيرة	الصحراء في الجنوب

2- اكتب امام اصناف النباتات اسماء المجموعات المناسبة :

(السباسب - الغابات - النباتات الصحراوية)

1/(فرنان / بلوط / زان / صنوبر حلي)

2/(حلفاء / شيح / سدر)

3/(طرفاء / رتم / قندول)

3- اقترح حلولاً مناسبة للمخاطر التي تهدد التربة :

- الانجراف:
- التعرية:
- التصحر:

4- اكتب تحت كل واد البلد المناسب :

وادي ام الربيع	وادي مجردة	وادي الشلف
.....

5- أكمل الإفادة التالية :

للمحافظة على الثروة المائية لا بد من.....

سكان المغرب العربي

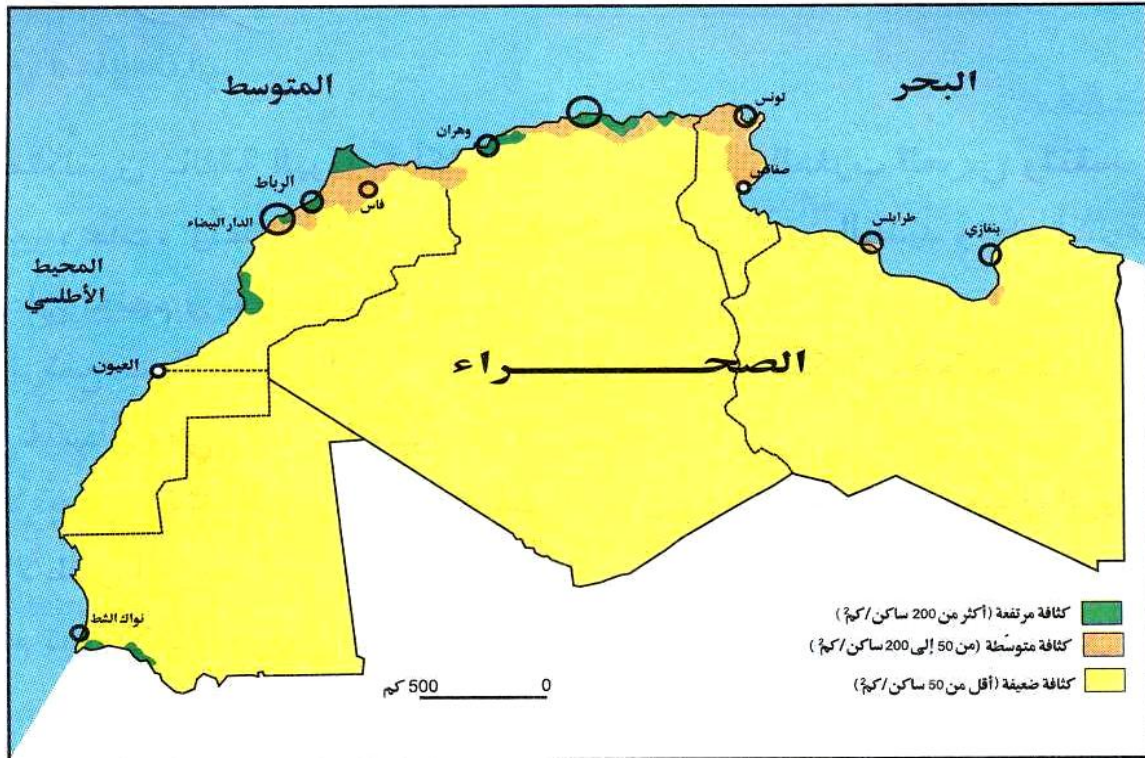
تأثر السكان بنفس المعطيات الجغرافية والتاريخية فاشتركوا في الخصائص الآتية:

- وحدة الدين واللغة وتمائل العادات والتقاليد
- تتفاوت الأقطار المغاربية تفاوتاً كبيراً في عدد السكان
- يتطور عدد السكان بالمغرب العربي بنسق سريع وتعود سرعة النمو السكاني إلى انخفاض نسبة الوفيات وارتفاع نسبة الولادات. كما يتميز سكان المغرب العربي بارتفاع كبير في نسبة الشبان وتسمى هذه الظاهرة: الفتوة السكانية. عدد السكان بحساب المليون حسب إحصائيات 2014:

المجموع	موريطانيا	ليبيا	تونس	المغرب	الجزائر
مليوناً 100	4,615	6,597	12,260	37,08	44,180

الكثافة السكانية في أقطار المغرب العربي متفاوتة كثيراً. التوزع السكاني يتميز بميل واضح للاستقرار في المناطق الساحلية ويعود ذلك إلى عدة عوامل:

- عوامل طبيعية واقتصادية: - تعدد السهول الساحلية الفسيحة
- جاذبية المناخ (تلطيف مناخي/توفر العمل)
- عوامل تاريخية: - حضارة قرطاج المتوسطية
- تركيز التنمية على السواحل منذ عهد الاستعمار
- نسبة الريفيين في تناقص في المغرب العربي، هذا الانخفاض يقابله ارتفاع في نسبة سكان المدن. أقطار المغرب العربي لم تحقق الاكتفاء الذاتي في المجال الغذائي. تطورت الخدمات الغذائية والاستشفائية بالمغرب العربي لكنها بقيت غير كافية للاستجابة إلى حاجيات هذا العدد الكبير من السكان. نسبة الأمية سائرة نحو الانخفاض لكنها لم تصل بعد إلى الصفر. نسبة البطالة في المغرب العربي مرتفعة وهذا من أهم أسباب الهجرة. القطر الليبي لا يعاني مشكل البطالة. المشاكل الناجمة عن سرعة التزايد السكاني متشابه منها:
- البطالة / نقص التغذية / نقص الخدمات الصحية / نقص الخدمة التربوية
- الحلول المتخذة لمجابهة هذه المشاكل:
- تشجيع القطاع الفلاحي - الحد من التزايد السكاني (التنظيم العائلي)
- إحداث كليات طب جديدة وتنويع الاختصاصات - إجبارية التعليم
- دعم برامج محو الأمية - خلق مواطن شغل بمضاعفة الجهود التنموية.



التوزيع السكاني لسكان المغرب العربي



موريتانيا



المغرب



الجزائر

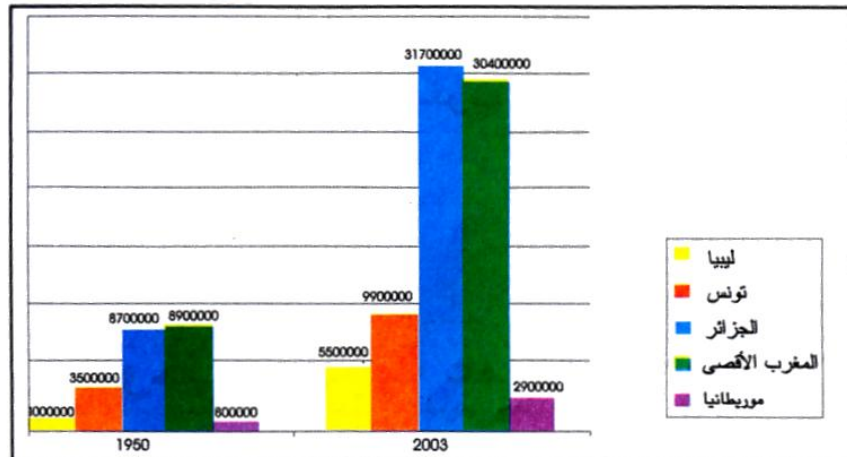


تونس



ليبيا

تطور عدد السكان بالمغرب العربي



المصدر: المعهد الوطني للإحصاء

نور الدين بن خضر

التمارين :

1. ما هي الخصائص المشتركة لسكان المغرب العربي :

.....
.....

2. ارتب بلدان المغرب العربي حسب عدد السكان

المغرب	ليبيا	تونس	الجزائر	موريطانيا
.....

3. اكمل تعبير الفراغات بما يناسب:

نسبة..... في تناقص في المغرب العربي، هذا الانخفاض يقابله ارتفاع في نسبة سكان.....

أقطار المغرب العربي لم تحقق..... في المجال الغذائي

نسبة..... سائرة نحو الانخفاض لكنها لم تصل بعد إلى الصفر.

نسبة..... في المغرب العربي مرتفعة وهذا من أهم أسباب الهجرة.

القطر الوحيد الذي لا يعاني مشكل البطالة هو.....

4. اصنف العوامل التي تجعل سكان المغرب العربي يميلون إلى الاستقرار بالمناطق الساحلية

في الجدول التالي :

- حضارة قرطاج المتوسطية- تعدد السهول الساحلية الفسيحة- جاذبية المناخ (تلطيف مناخي/توفر العمل) - تركيز التنمية على السواحل منذ عهد الاستعمار

عوامل طبيعية واقتصادية	عوامل تاريخية
.....

5. أشطب الخطأ في ما يلي :

- تتفاوت الأقطار المغاربية تفاوتاً كبيراً في عدد السكان
- يتطور عدد السكان بالمغرب العربي بنسق بطيء
- تعود سرعة النمو السكاني إلى انخفاض نسبة الولادات وارتفاع نسبة الوفيات.
- يتميز سكان المغرب العربي بارتفاع كبير في نسبة الشبان

المحور الرابع: اقتصاد المغرب العربي :

الإنتاج الفلاحي و الصيد البحري في المغرب العربي

الإنتاج الفلاحي و الصيد البحري:

- الإنتاج النباتي: حبوب / غراسات / خضراوات
أهم نشاط فلاحي من حيث المساحة المزروعة هو زراعة الحبوب و المغرب الأقصى هو أكبر منتج.
الإنتاج الزراعي في الأقطار المغاربية متفاوت.

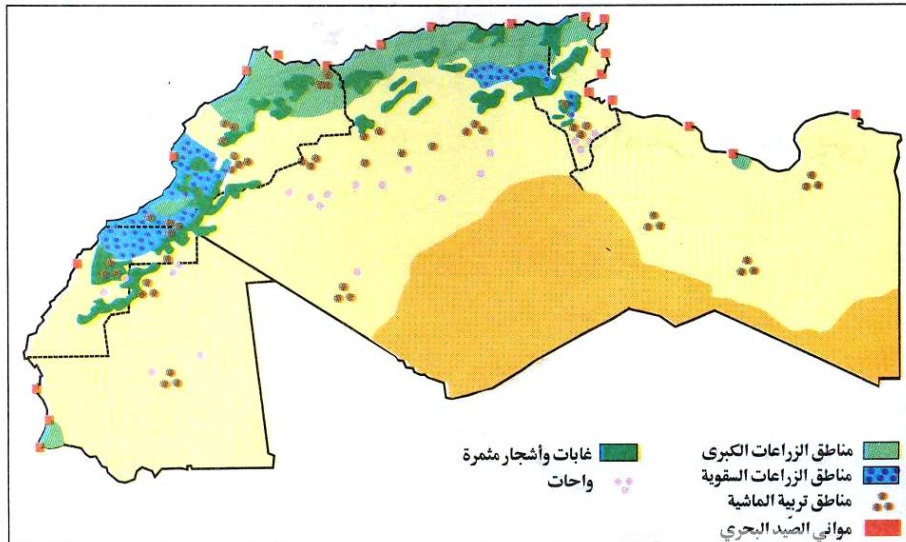
- الإنتاج الحيواني: أغنام / ماعز / أبقار
الجزائر تملك أكبر قطيع ماشية (455.000 طن)

- الإنتاج البحري: السمك
المغرب أكبر منتج للأسماك (620 طن)

إنتاج اللحوم في المغرب العربي أكثر أهمية من الإنتاج السمكي. المجال الفلاحي المغاربي محدود و هو منحصر بالخصوص في المناطق السهلية الساحلية حيث تتوفر التلال الخصبة و الأمطار.

يتميز النشاط الفلاحي بتجاور القطاعين التقليدي و العصري.

الدول المغاربية ساعية إلى تحقيق الأمن الغذائي بتعبئة الثروات المائية و استصلاح الأراضي و تعصير وسائل الإنتاج.





الإنتاج النباتي بالمغرب العربي



الإنتاج الحيواني بالمغرب العربي



التمارين:

1 / أكتب نعم أو لا:

- أهم نشاط فلاحي من حيث المساحة بالمغرب العربي هو زراعة الحبوب
- المغرب الأقصى أكبر منتج زراعي في المغرب العربي
- الجزء الأكبر من أراضي المغرب صالح للزراعة
- الانتاج الزراعي في الأقطار المغاربية متفاوت
- حققت بلدان المغرب العربي الاكتفاء الذاتي الغذائي
- تقوم الفلاحة في بلدان المغرب العربي على القطاع العصري فقط
- إنتاج اللحوم ببلدان المغرب العربي أهم من الإنتاج السمكي

2 / الدول المغاربية ساعية إلى تحقيق الأمن الغذائي . اذكر ثلاثة أنشطة تبرز ذلك

-
-
-

3. اكتب اسم البلد المناسب من بلدان المغرب العربي :

- تملك أكبر قطيع ماشية (455.000 طن)

- أكبر منتج للأسماك (620 طن)

4. اشطب الكلمة الغير مناسبة في ما يلي :

إنتاج اللحوم في المغرب العربي (أقل - أكثر) أهمية من الإنتاج السمكي.
المجال الفلاحي المغاربي محدود وهو منحصر بالخصوص في المناطق (الداخلية- الساحلية)
يتميز النشاط (الفلاحي - الصناعي) بتجاوز القطاعين التقليدي والعصري.

1. الدول المغاربية ساعية إلى تحقيق الأمن الغذائي . كف ذلك ؟

.....

.....

.....

المحور الرابع: اقتصاد المغرب العربي:

النشاط الصناعي في المغرب العربي

تشغل الصناعة المغربية حوالي $\frac{1}{5}$ خمس اليد العاملة النشيطة وتساهم بنسبة الربع في الناتج الداخلي.

• مصادر الطاقة والموارد الأولية الأساسية:

يتمتع المغرب العربي بموارد أولية هامة هي الفسفاط بتونس والمغرب والحديد في موريتانيا. تتركز الموارد الطبيعية بالمناطق الداخلية.

• تصنيف الصناعة في المغرب العربي:

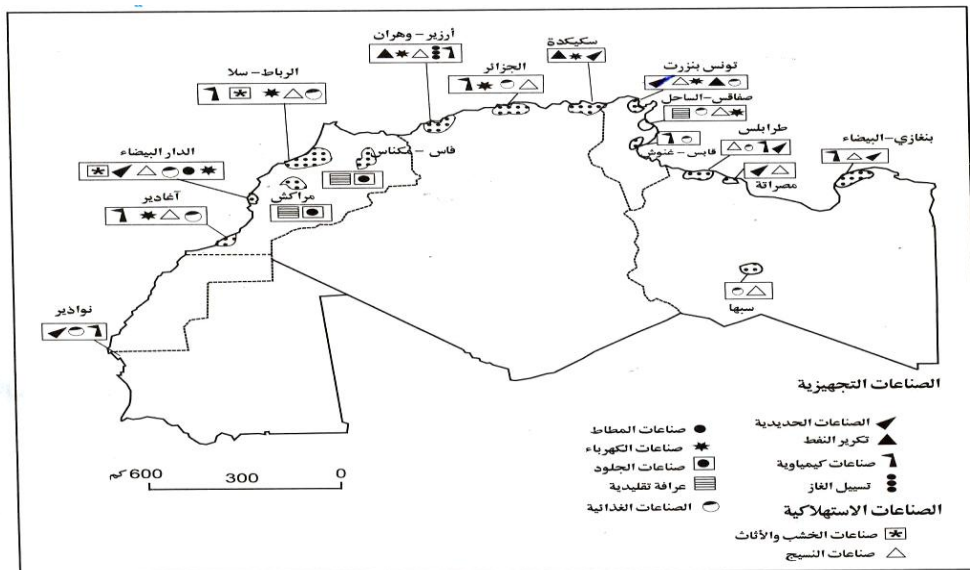
الصناعة المغربية متنوعة وتتركز في المناطق الساحلية قرب الموانئ وأهمها:

- الصناعات التجهيزية (= الجزائر وليبيا : صناعة الحديد / تكرير النفط / صناعة

كيميائية


- الصناعات الاستهلاكية (= تونس والمغرب الأقصى : صناعة الخشب والأثاث / صناعة النسيج /

الصناعات الغذائية / صناعة الجلود / الحرف التقليدية





الفولاذ



الفسفاط

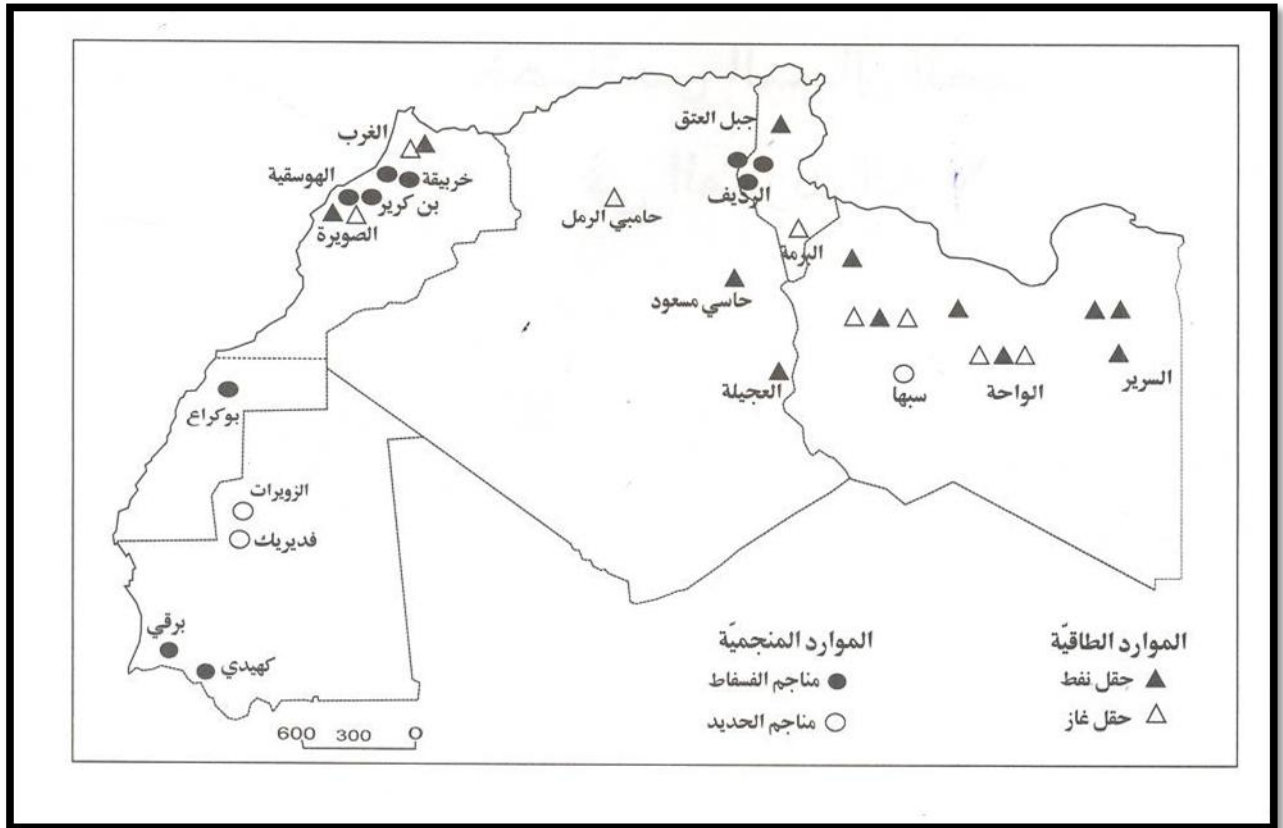


النسيج



الخزف

تنوع الصناعات بالغرب العربي



المواد الطاقية والمنجمية بالمغرب العربي



صناعات استهلاكية

صناعات تجهيزية

التمارين:

1/ صل بسهولة كل مادة بالقطر الذي تتوفر فيه:

- تونس
- الجزائر
- المغرب الأقصى
- ليبيا
- موريطانيا
- فسفاط
- حديد
- نفط

2/ أكمل:

الصناعة المغاربية..... وتتركز في المناطق..... قرب الموانئ.

3/ أصنف في الجدول المصاحب:

صناعة الحديد / صناعة الخشب والأثاث / صناعة النسيج / تكرير النفط / صناعة كيميائية - الصناعات الغذائية / صناعة الجلود / الحرف التقليدية

الصناعة الاستهلاكية	الصناعات التجهيزية

أكمل بالعدد الكسري المناسب:

تشغل الصناعة المغاربية حوالي..... خمس اليد العاملة النشيطة وتساهم بنسبة..... في الناتج الداخلي

اكتب اسم البلد المغاربي المناسب:

- الصناعات التجهيزية تتركز في.....

- الصناعة الاستهلاكية تتركز في.....

المواصلات والمبادلات التجارية في المغرب العربي

تصدر بلدان المغرب العربي المواد الأولية والمنتجات الفلاحية وتورد البضائع المصنعة والمواد الغذائية وهذا يجعلها في وضعية تبعية اقتصادية. حجم المبادلات بين أقطار المغرب العربي ضئيل جدا في حين أنه هام جدا في الاتحاد الأوروبي.

الميزان التجاري بتونس والمغرب الأقصى في عجز أما في الجزائر وليبيا فإنه رابح بفضل العائدات النفطية. وتنفرد موريتانيا بميزان تجاري متذبذب.

• شبكة المواصلات:

شبكة المواصلات بالمغرب العربي متنوعة (سكك حديدية / طرقات / أنابيب نقل غاز / موان بحرية وجوية).

يتميز القطران الجزائري والتونسي بامتلاك أكبر قسم من السكة الحديدية شبكة الطرقات في المغرب العربي تشكو نقصا كبيرا فهي ضعيفة في المناطق الداخلية ونصفها تقريبا غير معبد.

بلغ إجمالي المبادلات التجارية بين تونس ودول اتحاد المغرب العربي (ليبيا، الجزائر، المغرب الأقصى، موريتانيا) ما قيمته 7ر1713 مليون دينار خلال الأشهر السبعة الأولى من هذه السنة مقابل 1ر2086 م د في نفس الفترة من السنة الفارطة أي بتراجع بنسبة 9ر17 بالمائة. وتقدر قيمة الصادرات التونسية نحو دول الاتحاد المغاربي إلى موفى جويلية الماضي 6ر1182 م د مقابل 3ر1207 م د في الفترة ذاتها من سنة 2010 أي بنقص بنسبة 2 بالمائة. وفي ذات السياق تراجع الواردات من 8ر878 م د خلال الأشهر السبعة الأولى من العام المنقضي إلى 1ر531 م د في الفترة عينها من هذا العام بتراجع بنسبة 6ر39 بالمائة.

تصدر بلدان المغرب العربي :
المواد الأولية والمنتجات الفلاحية



و تورد البضائع المصنعة و المواد الغذائية وهذا
يجعلها في وضعية تبعية اقتصادية.



شبكة المواصلات بالمغرب العربي متنوعة:
(سكك حديدية / طرقات / أنابيب نقل غاز / موان بحرية
ومواني جوية).



التمارين :

1/ اكتب الكلمة المناسبة صواب أو خطأ أمام كل إفادة:

- تتميز الجزائر وتونس بامتلاك أكبر قسم من السكة الحديدية المغاربية
- تتركز المواد الطبيعية في بلدان المغرب العربي بالمناطق الساحلية
- شبكة الطرقات في بلدان المغرب العربي ضعيفة في المناطق الداخلية
- تتركز الصناعات في المغرب العربي أكثر من قيمة وارداتها
- أهم المبادلات التجارية لأقطار المغرب العربي تتم مع بلجان الاتحاد الأوروبي

2/ أكمل الفراغات بما يناسب

تصدر بلدان المغرب العربي و المنتوجات الفلاحية و تورد البضائع المصنعة و وهذا يجعلها في وضعية اقتصادية. حجم المبادلات بين أقطار المغرب العربي في حين أنه في الاتحاد الأوروبي.

3/ أشطب الخطأ في ما يلي :

الميزان التجاري بتونس و المغرب الأقصى في (عجز/ رابح) أما في الجزائر و ليبيا فإنه (في عجز/ رابح) بفضل العائدات النفطية. و تنفرد موريتانيا بميزان تجاري (في عجز/ رابح / متذبذب) .

4/ شبكة المواصلات بالمغرب العربي متنوعة. أذكر أربعة أنواع على الأقل :

-
-
-
-

5. اعمل الفراغات بالعبارات الناقصة :

تصدر بلدان المغرب العربي المواد و المنتوجات و تورد البضائع و المواد وهذا يجعلها في وضعية تبعية اقتصادية. حجم المبادلات بين أقطار المغرب العربي جدا في حين أنه جدا مع الاتحاد الأوروبي.

تأليفية

1/ اكتب كلمة صواب أو خطأ بعد كل إفادة :

- تتميز التساقطات بالمغرب العربي بالانتظام الفصلي السنوي
- يتميز المناخ الصحراوي في الجنوب بانخفاض المدى الحراري
- المجموعات النباتية في علاقة مع التضاريس والمناخ والتربة
- تكثر الغابات في الهضاب والمرتفعات الوسطى
- المناخ في الشمال المغرب العربي شبه جاف

2/ ضع علامة + في الخانة المناسبة

خطأ	صواب	
		سكان المغرب العربي موزعون بين مختلف أقطاره بصفة متفاوتة
		يتزايد عدد سكان المغرب العربي بنسق بطيء
		يتميز سكان المغرب العربي بارتفاع نسبة الشبان
		تتقل الفتوة السكانية بالمغرب العربي كاهل الفئة المنتجة

3/ أشطب الخطأ في ما يلي

- (تفاوت - تتقارب) أقطار المغرب العربي من حيث عدد السكان
- يتميز سكان المغرب العربي بارتفاع (نسبة الشبان - نسبة الكهول)
- يتطور عدد سكان المغرب العربي بنسق (سريع - بطيء)

4/ اكتب نعم أو لا أمام كل إفادة

- يميل سكان المغرب العربي للاستقرار في المناطق الداخلية
- الخدمات الصحية ببلدان المغرب العربي كافية للاستجابة الى حاجيات السكان
- المنتج الغذائي في أقطار المغرب العربي يغطي حاجة السكان
- نسبة الأمية في أقطار المغرب العربي سائرة نحو الانخفاض
- البطالة من أهم أسباب هجرة بعض مواطني أقطار المغرب العربي الى أوروبا خاصة

5/ أكمل الفراغ بما يناسب

- عدد السكان في البلدان المغاربية..... من بلد الى آخر
- كثافة السكان المغرب العربي مرتفعة في المناطق.....
- سكان المغرب العربي يتزايدون ينسق.....
- نتجت عن هذا التزايد السريع ظاهرة..... السكانية
- من المشاكل البشرية لسكان المغرب العربي..... و.....

المحور الخامس: تونس

تونس: تقديم عام

الموقع:

تتمتع البلاد التونسية بموقع جغرافي متميز بفضل انتمائها المغاربي و الإفريقي و المتوسطي فهي تقع في أقصى شمال القارة الإفريقية و في الجناح الشرقي للمغرب العربي كما تتوسط البحر الأبيض المتوسط بين حوضه الشرقي و حوضه الغربي و تشرف على مضيق صقلية.

الحدود:

للبلاد التونسية حدان قاريان و حدان مائيان:

- الحدان القاريان : الجزائر من الغرب و ليبيا من الجنوب.
- الحدان المائيان: البحر الأبيض المتوسط من الشرق و الشمال.

المساحة:

تبلغ مساحة البلاد التونسية: 163610 كم² (طول السواحل 1298 دون احتساب الجزر)

السكان:

12,260 ملايين نسمة حسب تعداد^[21]20 (الكثافة السكانية 70,1 ساكن بالكم²)

و تونس هي القطر المغاربي الوحيد الذي له حدان بحريان فرغم أنه بلد صغير الحجم مقارنة بأقطار المغرب العربي فإنه يستفيد كثيرا من حدوده الساحلية المطلّة على البحر المتوسط و لهذا الموقع انعكاسات ايجابية:

- مناخيا : واجهتان على البحر
- حضاريا : تعاقب الحضارات
- اقتصاديا : القرب من أوروبا المصنعة



موقع البلاد التونسية



التمارين :

1/ اذكر حدود البلاد التونسية:

.....	شمالا
.....	جنوبا
.....	شرقا
.....	غربا

2/ اشطب الخطأ مما يلي لتحديد موقع البلاد التونسية:

تقع البلاد التونسية:

- شمال جنوب القارة الافريقية
- على الضفة الشمالية الجنوبية للبحر المتوسط
- في الجناح الشرقي الغربي للمغرب العربي

3 اشطب الخطأ في ما يلي :

- تبلغ مساحة البلاد التونسية: - 136610 كم² - 163610 كم² - 163160 كم².
- (طول السواحل : - 1928 - 2198 - 1298 - (دون احتساب الجزر)
- عدد سكان البلاد التونسية: - 10,982 - 10,928 - 12,260 - ملايين نسمة

4- اكمل تعميم الفراغات بما يناسب :

تونس هي القطر المغربي الوحيد الذي له حدان..... فرغم أنه بلد صغير الحجم مقارنة بأقطار المغرب العربي فإنه يستفيد كثيرا من حدوده..... المطلّة على البحر..... ولهذا الموقع انعكاسات.....

5- أصل بسهم بين خاصيات البلاد التونسية لأحصل على الإفادة المناسبة:

- مناخيا: تعاقب الحضارات
- حضاريا: واجهتان على البحر
- اقتصاديا: القرب من أوروبا المصنعة

المحور السادس: الخصائص الطبيعية للبلاد التونسية تضاريس البلاد التونسية

تتكون التضاريس من السهول والهضاب والجبال

• السهول:

تغطي معظم المجال الجغرافي في البلاد التونسية وتكثر في المناطق الساحلية الشرقية فكلما اقتربنا من البحر إلا وكثرت وسمحت بتوغل تأثير البحر المعتدل للحرارة والسهول نوعان: - سهول داخلية (سهل مجردة من الشمال و سهل نفاوة و الجريد في الجنوب) - سهول ساحلية (ممتدة من الشمال : سهل بنزرت إلى حدود ليبيا / سهل جفارة)

• الهضاب:

تغطي كذلك معظم المجال الجغرافي للبلاد و تربط بين السهول الساحلية و المناطق الجبلية الداخلية.

• الجبال: توجد جل المرتفعات في الجزء الغربي للبلاد و أهمها سلسلة الظهرية من حيث الامتداد و الارتفاع.

أعلى قمة	الموقع	السلسلة
جبل الغرة 1203م	الشمال الغربي	خمير و مقعد و نفزة
جبل الشعاني 1544م	الوسط الغربي	الظهرية
جبل مطماطة 715م	الجنوب الشرقي	جبال مطماطة



العجبال



الهضاب



السهول



جبل الشعاني
نور الدين بن خضر

التمارين:

1/ أكمل الفراغات بذكر العبارة المناسبة:

تتكون التضاريس من و و
كلما اقتربنا من البحر كثرت
كلما اقتربنا من الجزء الغربي كثرت
توجد بين الجبال و السهول.

2/ ضع علامة (X) أمام كل إفادة صحيحة:

- تقل السهول في المناطق الساحلية
- توجد المرتفعات في الجزء الغربي من البلاد التونسية
- تربط الهضاب بين الجبال و السهول
- أعلى قمة في البلاد التونسية هي جبل الشعابي
- تقع جبال مطماطة في الظهيرية التونسية

3/ أكمل تعميم الجدول التالي

السلسلة	الموقع	أعلى قمة
خمير و مقعد و نفزة	جبل الغرة 1203م
الظهيرية	الوسط الغربي 1544م
.....	الجنوب الشرقي	جبل مطماطة 715م

4. أكمل الإفادة التالية:

تغطي الهضاب معظم المجال الجغرافي للبلاد و تربط بين السهول و المناطق
الداخلية.

المحور السادس : الخصائص الطبيعية للبلاد التونسية
المناخ والنبات والمياه بالبلاد التونسية

المناخ : تقع البلاد التونسية في النطاق المعتدل مناخها متوسطي يتميز بصيف حار وجاف وشتاء معتدل ورطب . تختلف المعدلات الحرارية بين المناطق الساحلية ويعود ذلك إلى تأثير البحر في تعديل الحرارة صيفا وشتاء.

الاقليم	كميات الأمطار	المجال المطاري
الشمال	أكثر من 400 مم	رطب
الوسط	بين 150 مم و 400 مم	شبه جاف
الجنوب	أقل من 150 مم	جاف

تنقسم البلاد التونسية إلى ثلاثة مجالات ممطارية : شمال رطب / وسط جاف / جنوب جاف إن مساحة المجال المطاري الرطب لا يتجاوز ربع المساحة الجمليّة للبلاد التونسية وذلك لأن : الرياح الشماليّة الغربيّة الرطبة تحمل الأمطار إلى المناطق الشماليّة المرتفعات الجبليّة تحد من توغلها في الداخل المناطق الجنوبيّة تتأثر بالرياح الصحراويّة الجافة.

النبات : إن الغطاء النباتي الطبيعي محدود جدا ويتكون من بقايا غابات بالقمم الجبليّة ومن أعشاب سباسبية في المرتفعات والهضاب الوسطى فبالرغم من وجود بعض الغابات في المجال المطاري الرطب فإن الغطاء النباتي محدود جدا وذلك بسبب :

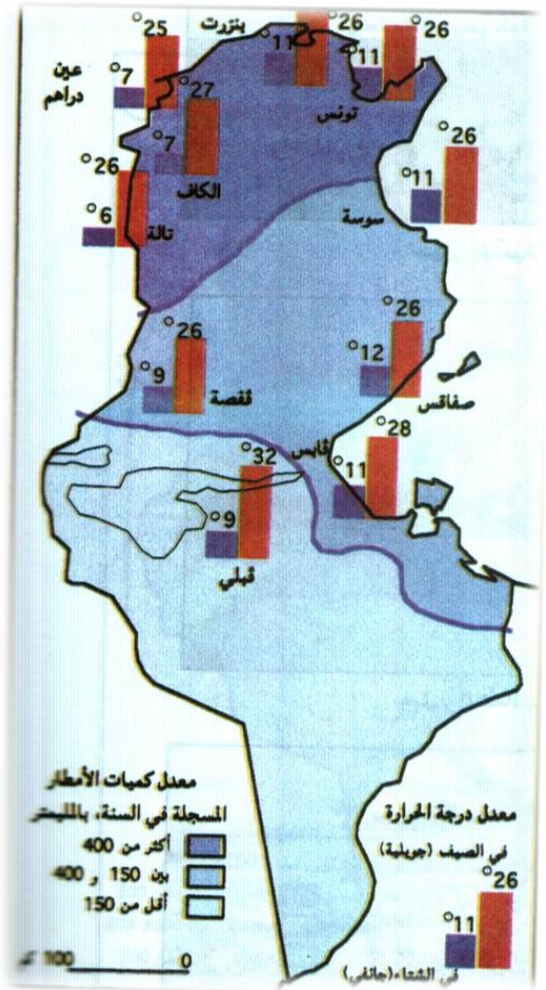
العوامل الطبيعيّة : الظروف المناخيّة في البلاد التونسية غير مواتية لنمو الغطاء النباتي
العوامل البشريّة : التحطيب / الرعي الفوضوي / توسيع الأراضي الفلاحيّة.

الاقليم	المجال المطاري	المجموعة النباتية	بعض الأنواع من كل مجموعة
شمال	رطب	غابات	بلوط / فرنان / زان / صنوبر حلي
وسط	شبه جاف	سباسب	شبح / حلفاء / سدر
جنوب	جاف	نبات صحراوي	رمث / الدرّين / الفرنج

المياه : المياه الجارية قليلة يوجد جليها في الشمال أهمها نهر مجردة وهي مستغلّة بواسطة سدود توجد في الشمال أودية ذات تصريف خارجي مثل مجردة الذي ينبع من الجزائر ويصب في البحر الأبيض المتوسط. وتوجد سدود عديدة للتحكم في المياه الجارية.



النباتات بالبلاد التونسية



المناخ بالبلاد التونسية



جنوب جاف



وسط شبه جاف



شمال رطب

التمارين :

1 / أربط بسهم

الإقليم	مجاله المطاري	غطاؤه النباتي
الشمال	شبه جاف	نبات صحراوي
الوسط	جاف	غابات
الجنوب	رطب	سباسب

2 / أشطب الخطأ في ما يلي

- تختلف المعدلات الحرارية بين المناطق الساحلية والمناطق الداخلية بالبلاد التونسية
- المجال المطاري بالشمال التونسي شبه جاف
- المجال المطاري بالجنوب التونسي جاف
- تغطي الغابات الهضاب الوسطى بالبلاد التونسية
- وادي مجردة ذو تصريف خارجي

3- إن الغطاء النباتي محدود جدا اذكر سببا لذلك :

العوامل الطبيعية:

العوامل البشرية:

4- أكمل تعبير الفراغات بما يناسب :

المياه الجارية بالبلاد التونسية قليلة يوجد جلها في أهمها نهر
وهي مستغلة بواسطة
توجد في الشمال أودية ذات تصريف مثل مجردة الذي ينبع من
ويصب في وتوجد سدود عديدة للتحكم في المياه الجارية.

الخصائص البشرية للبلاد التونسية النمو الديمغرافي والتركييب العمري للسكان في البلاد التونسية

الخصائص البشرية :

مازال النمو الديمغرافي بالبلاد التونسية متميزا بسرعته وذلك لأن نسبة الوفيات قد انخفضت بنسق أهم من بكثير من تراجع نسبة الولادات نتيجة التنظيم العائلي والتطور الاجتماعي (التغذية والتربية)

تتميز البلاد التونسية بفتوة سكانية نسبة المستهلكين غير المنتجين أكبر من نسبة المنتجين وهذا ما يثقل كاهل الفئة المنتجة.

إن حاجيات السكان بالبلاد التونسية تفوق حاليا إنتاجها لذا لا بد من :

• الحد من التزايد السريع للسكان

• العمل على توفير الانتاج في مختلف المجالات

إن التوزيع الجغرافي للسكان في البلاد غير متوازن.

تتميز المناطق الساحلية الشرقية والمناطق الجبلية من الشمال الغربي بكثافة سكانية عالية وذلك لعدة أسباب:

• أسباب طبيعية :

جاذبية السواحل لما تحدثه من تल्प مناخي.

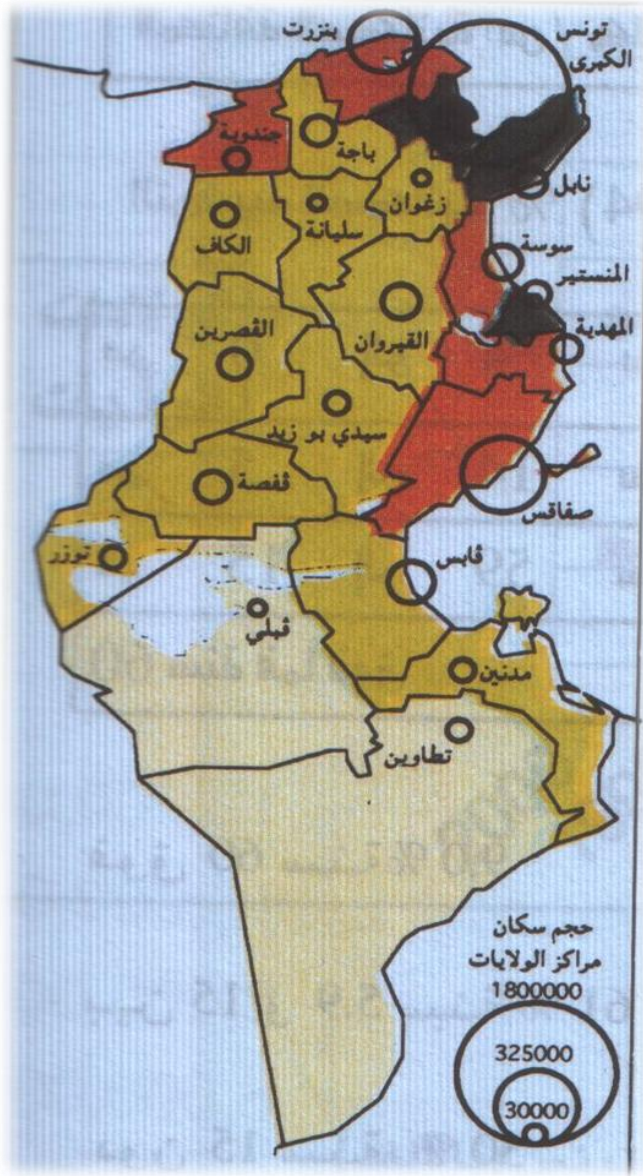
• أسباب اقتصادية :

توفر أسباب الرزق في المناطق الساحلية.

• أسباب تاريخية :

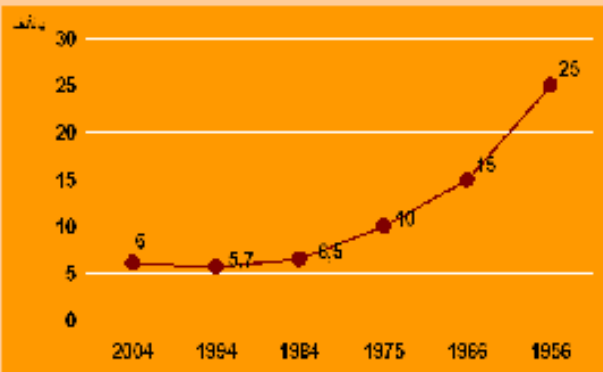
المرتفعات كانت بمثابة الملاجئ التي يتحصن بها الأهالي خوفا من الغزاة وتركيز التنمية

في المناطق الساحلية في عهد الاستعمار.

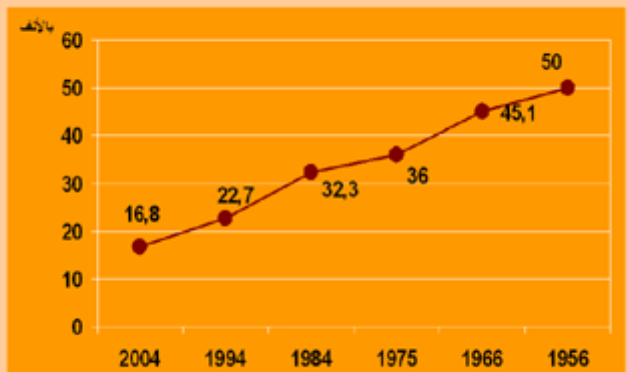


التوزع السكاني في البلاد التونسية

نسبة الوفيات



نسبة الولادات



التمارين :

1/ ضع كل إفادة صحيحة في إطار :

- عدد سكان البلاد التونسية في تناقص
- يمثل الكهول أكبر نسبة من سكان البلاد التونسية
- يتميز النمو الديمغرافي لسكان البلاد التونسية بالسرعة.

2/ ضع علامة + في الخانة المناسبة :

	عدد سكان البلاد التونسية في ازدياد مطرد
	ساهم تحسن الخدمات الصحية بالبلاد التونسية في تراجع نسبة الوفيات
	يمثل الشيوخ أكبر نسبة من سكان البلاد التونسية
	ساهم التنظيم العائلي في الحد من ارتفاع نسبة الولادات

3/ أكمل

تتميز المناطق الساحلية الشرقية والمناطق الجبلية من الشمال الغربي بكثافة سكانية عالية وذلك لعدة أسباب

أذكر ثلاثة منها على الأقل :

-
-
-

4. أكمل تعبير الفراغات بما يناسب

ما زال النمو الديمغرافي بالبلاد التونسية متميزا بسرعه وذلك لأن نسبة.....

قد انخفضت بنسق أهم من بكثير من تراجع نسبة..... نتيجة

..... والتطور الاجتماعي

المحور الثامن : الفلاحة والصيد البحري بالبلاد التونسية

الحبوب والغراسات والخضروات بالبلاد التونسية

الحبوب : تنتج تونس القمح الصلب والشعير والقمح اللين ويعتبر الشمال أهم منطقة منتجة للحبوب نظرا لارتفاع معدل التساقطات في الشمال ولوجود تربة ثرية وخصبة.

المنطقة	المردود	الانتاج
الشمال	مرتفع	منتظم
الوسط	متوسط	غير منتظم
الجنوب	ضعيف	غير منتظم

إنتاج الحبوب غير منتظم يرتفع بارتفاع كميات الأمطار وينخفض بانخفاضها وهذا الإنتاج لا يفي بحاجة الاستهلاك الداخلي فبلادنا تستورد كميات متفاوتة من الحبوب ولمجابهة هذا النقص لا بد من اتخاذ الإجراءات التالية :

تعصير أدوات العمل / الري التكميلي / الأسمدة والبذور المحسنة / الدورة الزراعية
الغراسات : تعتبر من أهم الأنشطة الفلاحية في بلادنا ومن أبرزها الزيتون والكروم والنخيل والقوارص.. تتنوع الغراسات وفق تخصص إقليمي :

القوارص والكروم	الشمال والشمال الشرقي
الزيتون	الوسط والجنوب الشرقي
النخيل	واحات الجنوب

الإنتاج السنوي للغراسات البعلية متفاوت لعدم انتظام كميات الأمطار سنويا .

الإنتاج السنوي للغراسات السقوية اقرب إلى الانتظام.

من الإجراءات المتخذة لتحسين الإنتاج : تعويض الغراسات الهرمة / تطوير وسائل الري / التسميد / مكافحة الأعشاب الطفيلية إحداث ضيعات جديدة.

الخضر : تتميز زراعة الخضروات على بقية الزراعات بتوسع مساحتها وتطور تقنياتها وإمكانية وجودها في كل الأقاليم وهو ما نتج عنه تطور متواصل في كميات إنتاجها .



www.alriyadh.com

التمارين

1/ صل بسهم بين المنتج الفلاحي والمنطقة المشهورة به

واحات الجنوب	النخيل
الوسط الشرقي	الزيتون
الجنوب الشرقي	القوارص والكروم
الشمال والشمال الشرقي	الخضروات
كامل الأقاليم	

2/ أجب بنعم أو لا

- الشمال اهم منطقة منتجة للحبوب بالبلاد التونسية
- إنتاج الحبوب بالبلاد التونسية يفي بحاجة الاستهلاك الداخلي
- إنتاج الخضر بالبلاد التونسية في تطور متواصل
- الانتاج السنوي للغراسات البعلية متفاوت من سنة إلى أخرى
- الإنتاج السنوي للغراسات السقوية منتظم

3/ اكمل تعمير الجدول التالي :

المنتج	المردود	المنطقة
منتظم	مرتفع
غير منتظم	الوسط
.....	ضعيف	الجنوب

4. اذكر ثلاثة من الإجراءات المتخذة لتحسين الانتاج الفلاحي :

-
-
-

المحور الثامن : الفلاحة والصيد البحري بالبلاد التونسية

تربية الماشية والصيد البحري بالبلاد التونسية

الإنتاج الحيواني :

يتركب القطيع التونسي أساسا من الغنم والماعز البقر وهو موزع حسب تخصص اقليمي

المنطقة	المجال المطاري	نوعية القطعان
الشمال	رطب	أبقار وماعز وأغنام
الوسط	شبه جاف	أغنام
الجنوب	جاف	ماعز

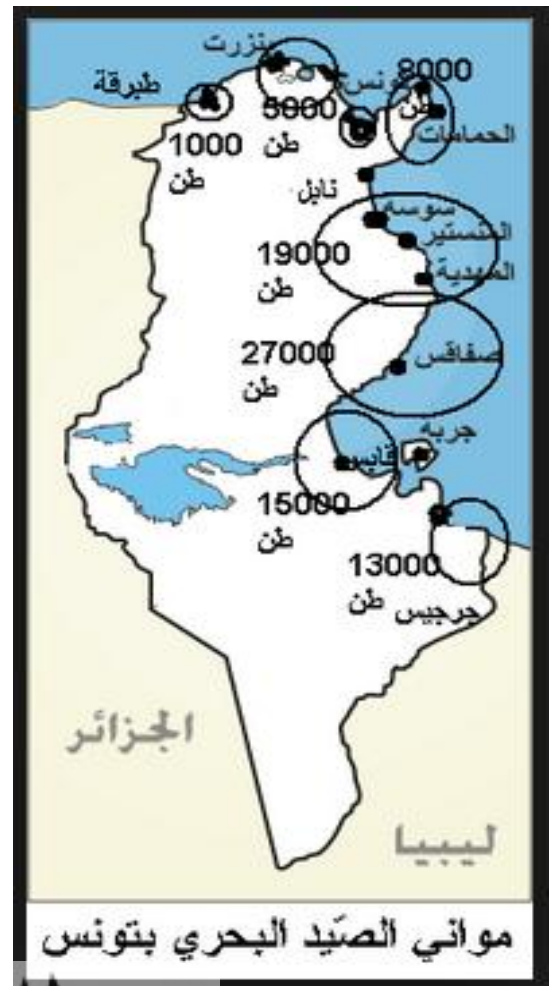
الإنتاج الحيواني في تزايد لكنه غير كاف لتلبية حاجات الاستهلاك فقد تطور انتاج اللحوم نتيجة

- الجهودات التنموية
- توفر القطيع وتحسين السلالات
- تكثيف المراقبة الصحية للقطيع.
- ورغم هذا التطور مازلنا نستورد اللحوم والحليب، وارتفاع حجم طلب المنتوجات الفلاحية سببه تزايد عدد السكان وارتفاع مستوى العيش.

الصيد البحري

الانتاج البحري في تونس هام فقد ارتفع نتيجة تطور اسطول الصيد البحري لكنه أخذ يتراجع بسبب الاستغلال المفرط واستعمال الوسائل المضرة.

تعتبر صفاقس وقابس وسوسة والمهدية من أهم مواني الصيد البحري



نور الدين بن خضر

التمارين

1/ رتب قطيع الماشية بالبلاد التونسية بوضع الأرقام من 1 إلى 3

○ أغنام		○ ماعز		○ بقر	
---------	--	--------	--	-------	--

2/ أكتب نعم أو لا أمام كل إفادة

- يتركب القطيع التونسي من الغنم والماعز والبقر
- يغطي الانتاج الحيواني حاجيات الاستهلاك المحلي من اللحوم والحليب
- الاستغلال المفرط واستعمال الوسائل المضرّة أدى إلى تراجع انتاج الصيد البحري
- ترفيع حجم القطيع وتحسين السلالات من العناصر التي تساعد على الزيادة

3/ سم بعض الإجراءات التي اتخذتها الدولة لتطوير الإنتاج الحيواني وجعله في تزايد :

.....
.....

4. أكمل تعمير الجدول التالي :

نوعية القطعان	المجال المطاري	المنطقة
أبقار وماعز وأغنام	رطب
أغنام	الوسط
.....	جاف	الجنوب

5 أكمل تعمير الفراغات بما يناسب :

الانتاج البحري في تونس فقد ارتفع نتيجة تطور الصيد البحري لكنه

أخذ يتراجع بسبب المفرط واستعمال الوسائل

تعتبر صفاقس وقابس وسوسة والمهدية من مواني الصيد البحري

الطاقة والمناجم والصناعة بالبلاد التونسية

المناجم

المواد الأولية الموجودة بالبلاد التونسية هي : الفسفاط ، الحديد ، والرصاص والزنك والملح

الموقع الجغرافي	المادة المنجمية الأولية
جهة قفصة والكاف	الفسفاط
الجريصة وتمرة	الحديد
جهة جندوبية وسليانة	الرصاص والزنك
صفاقس ورادس والمنستير وجرجيس	الملح

توجد المناجم بالمناطق الداخلية الغربية للبلاد وهذه الثروة متنوعة لكنها محدودة وفي تقصص.

الطاقة

تنتج تونس النفط والغاز لكن بكميات محدودة

يوجد النفط في البرمة والدولاب وسيدي ليتيم وعشروت وتازركة ويوجد الغاز الطبيعي في البرمة.

ينقل الغاز الطبيعي والنفط من الحقول إلى المدن الساحلية عبر أنابيب.

يستعمل الغاز الطبيعي في الطبخ ، التدفئة ، توليد الطاقة الكهربائية ، الاستهلاك الصناعي ...

الانتاج التونسي من النفط والغاز الطبيعي في تراجع وهو ضعيف بالمقارنة بانتاج ليبيا والجزائر .

توجد في البلاد التونسية 4 مولدات كهربائية حرارية مركزة في مدن ساحلية وهي ك رادس وحلق الواد وسوسة وغنوش .

كما توجد مولدات كهرومائية عند بعض السدود كسد سيدي سالم والعروسة وبني مطير .

شهد الانتاج الكهربائي في البلاد التونسية نموا كبيرا بسبب :

تزايد الحاجة إلى الكهرباء بتزايد السكان ، نمو القطاع الصناعي ، ارتفاع المستوى الاجتماعي .



الموارد الطاقية والمنجمية بالبلاد التونسية



النفط



الفسفاط



الغاز الطبيعي



الملح

التمارين :

1 / ضع علامة + أمام ما يفسر نمو الإنتاج الكهربائي للبلاد التونسية

- نمو القطاع الصناعي
- ارتفاع المستوى الاجتماعي
- نزريد السكان
- تصدير الطاقة الكهربائية
- إيصال النور الكهربائي إلى الأرياف

2 / أكتب صواب أو خطأ أمام كل إفادة

- توجد المناجم بالمناطق الداخلية الغربية
- يوجد الفسفاط بكميات كبيرة في ولاية قفصة
- الإنتاج التونسي من النفط والغاز الطبيعي ضعيف
- يوجد الغاز بحقل البرمة فقط
- المنتجات المنجمية بالبلاد التونسية في تقلص

3- أصل بسهم بين المادة المنجمية والموقع الجغرافي المناسب لها :

الجريصة وتمرة
جهة قفصة والكاف
جهة جندوبية وسليانة
صفاقس ورادس والمنستير وجرجيس

الفسفاط
الحديد
الرصاص والزنك
الملح

4- فيم يستعمل الغاز الطبيعي ؟

.....

المحور التاسع : الطاقة والمناجم والصناعة بالبلاد التونسية

الصناعة في البلاد التونسية

عرفت البلاد التونسية منذ الاستقلال حركة تصنيع نشيط مكنت من الزيادة في عدد مواطن الشغل وفي عدد المؤسسات الصناعية وخاصة الصغرى فقد تضاعف عدد العاملين في القطاع الصناعي 8 مرات وأصبحت اليد العاملة الصناعية تمثل خمس اليد العاملة النشيطة والعوامل المفسرة لهذا النمو هي : - بعث مشاريع صناعية

♣ بعث وكالات مختصة في الدراسات والتهيئة المجالية

♣ سن تشريعات للتشجيع على الاستثمار في القطاع الصناعي.

♣ تصنف القطاعات في تونس إلى : صناعات ثقيلة وصناعات خفيفة

الصناعات الثقيلة محدودة لعدم وجود المواد الأولية الكافية والحاجة إلى تمويلات كبيرة وصغر حجم السوق المستهلكة للمصنوعات

تنشط الصناعات التونسية في فروع عديدة ومتنوعة أهمها : صناعة النسيج والجلد التي توفر 200000 موطن شغل و 40 بالمائة من حجم الصادرات كما أن لها تأثيرا كبيرا في اقتصاد البلاد من حيث : - توفير مواطن الشغل - توفير العملة الصعبة - الحد من التبعية الاقتصادية.

صنف الصناعة	المصنوعات
آلية كهربائية	الفولاذ ، تركيب الحافلات، أجهزة التلفزة والراديو والثلاجات..
كيمياوية	تكرير النفط ، تحويل الفسفاط، الأسمدة الكيماوية- الأدوية..
مواد البناء	اسمنت، جير، آجر، جليز، جليز مطلي..
صناعات غذائية	زيت الزيتون، مصبرات الخضر والغلل، الحليب ومشتقاته، المياه المعدنية.
نسيج وجلد	أقمشة، ملابس جاهزة ، أحذية.
صناعات متنوعة	الخفاف ، البلاستيك الورق .

قطاع الصناعات التقليدية عريق ومتنوع ومنتشر وقد ساعدت السياحة على انتعاشه فأصبح يوفر 150000 موطن شغل ودخلا سنويا قدره 100 مليون دينار من العملة الصعبة.

أهم الصناعات	الجهات المشهورة بها
الزربية	القيروان / بنزرت
المرقوم	بنزرت / وذرف / القيروان
الأغطية الصوفية والمزركشة	جربة / ورف / قفصة
النحاس والجلد والخشب	تونس / القيروان / صفاقس
الخزف	نابل / جربة
الحلي التقليدي	تونس / المكنين / جربة

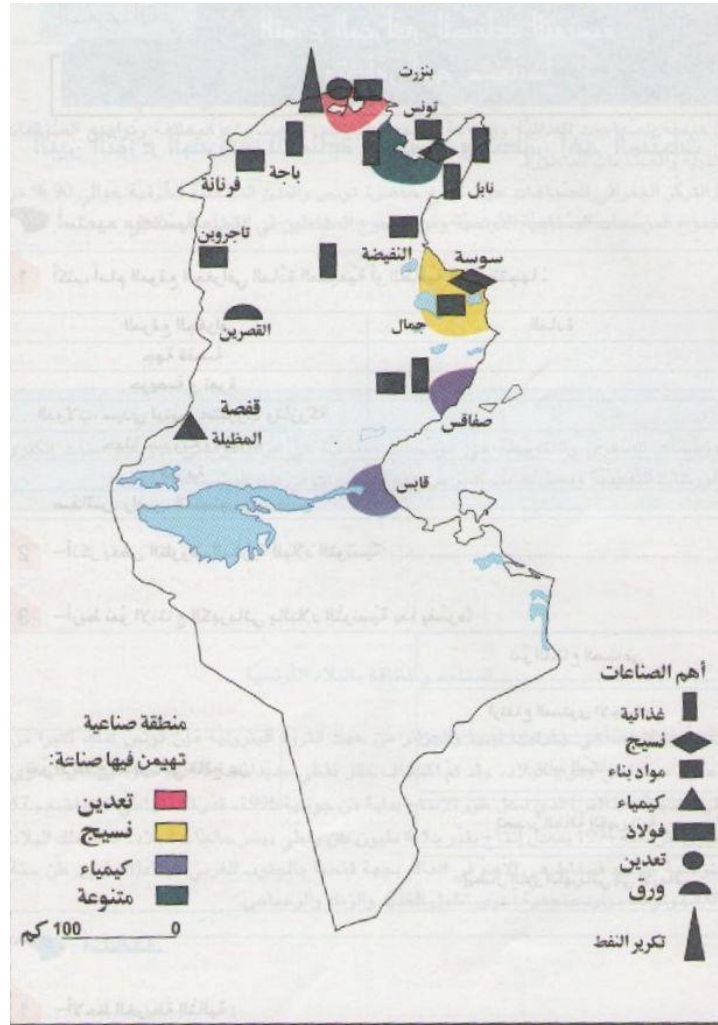
النشاط الصناعي التونسي مركز في الأقاليم الساحلية الشرقية وهذا التوزع الجغرافي غير المتوازن يرجع إلى عوامل طبيعية وتاريخية وتجارية وله انعكاسات سلبية تتمثل في :

♣ حركة السكان

♣ عدم التوازن الاقتصادي بين الجهات وتلوث المحيط.

المناطق	الصناعات المهيمنة
اقليم تونس	صناعات متنوعة
الساحل	النسيج
صفاقس	صناعات كيمياوية ومتنوعة
بنزرت منزل بورقيبة	الفولاذ وتكرير النفط
قابس	صناعات كيمياوية
الوطن القبلي	صناعات غذائية ومتنوعة

المجهود التنموي الوطني متوجه نحو التخفيف من عدم توازن التركيز الصناعي في الأقاليم والك بتشجيع الصناعيين على بعث المشاريع الاقتصادية في المناطق الداخلية لكن النتائج مازالت محدودة.



أهم المناطق الصناعية بالبلاد التونسية



التمارين

1/ صل بسهم كل منطقة بالصناعة المهيمنة

♣ النسيج
♣ صناعات متنوعة
♣ الفولاذ وتكرير النفط
♣ صناعات كيمياوية
♣ صناعات غذائية ومتنوعة

ا تونس
ا الساحل
ا صفاقس
ا قابس
ا بنزرت زمنزل بورقيبة
ا الوطن القبلي

2/ صل بسهم كل قطاع من قطاعات الصناعات بتونس بما يناسبه

شهد نمول كبيرا	قطاع الصناعات
عريق ومتنوع	التقليدية
ساعدت السياحة على انتعاشه	قطاع الصناعات
سنت تشريعات للتشجيع على الاستثمار فيه	العصرية
يضم ثلاثة أنواع من المؤسسات	
يوفر ما يقارب مداخل زيت الزيتون من العملة الصعبة	

3/ ضع علامة أمام كل سبب صحيح يفسر محدودية الصناعات الثقيلة في تونس :



- عدم وجود المواد الأولية الكافية.
- حاجة هذا النوع من الصناعات إلى تمويلات كبيرة
- صغر حجم السوق المستهلكة للمصنوعات في تونس

4/ ضع علامة 0 في التربيعات التي بها مواني جوية

وعلامة x في التربيعات المناسبة للمدن التي بها مواني بحرية
على الخريطة الآتية:

السياحة بالبلاد التونسية انعكاس السياحة على الاقتصاد

تحتل السياحة دورا هاما في الحياة الاقتصادية من حيث :

• توفير العملة الصعبة

• توفير مواطن شغل

• ازدهار الصناعات التقليدية

• تطوير شبكة النقل.

توفر السياحة $\frac{1}{3}$ المداخيل التونسية من العملة الصعبة التي تحتاجها البلاد لتغطية وارداتها.

كما يوفر القطاع السياحي مواطن شغل مباشرة و أخرى غير مباشرة:

- مواطن الشغل المباشرة: عمال الفنادق و المطاعم السياحية

- مواطن الشغل غير المباشرة: الصناعات التقليدية

• من واجبات المواطن نحو القطاع السياحي :

- المحافظة على سلامة البيئة

- احترام السياح

- كرم الضيافة و حسن التعامل مع الغير

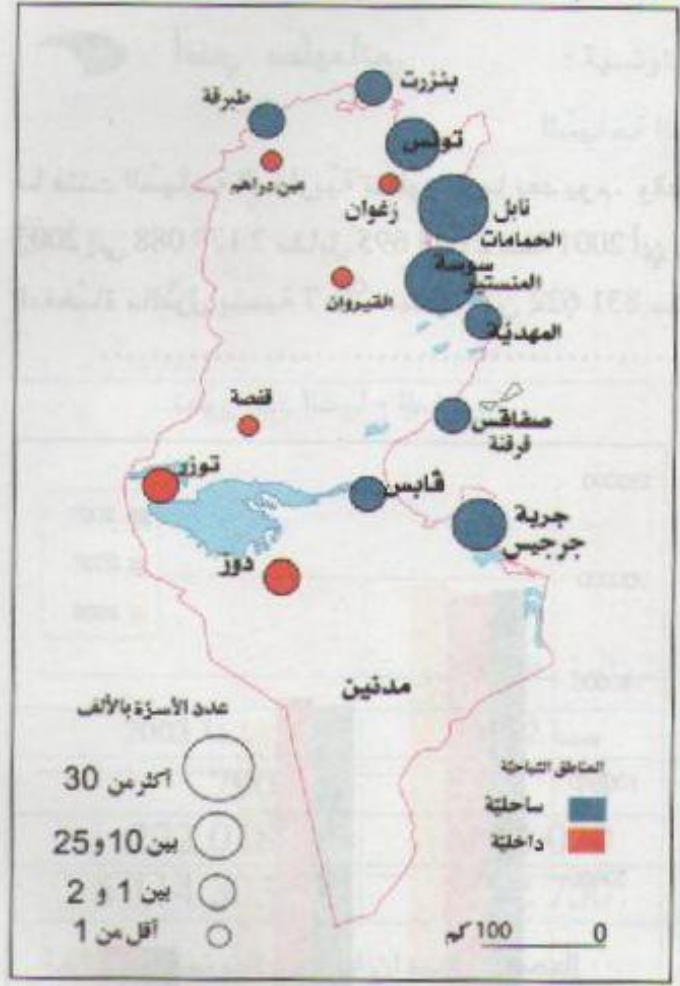
- تجنب التقليد الأعمى للسياح في سلوكياتهم التي لا تتماشى وقيمنا الحضارية.

للسياحة دور هام في ربط الصلة بين الشعوب فهي :

• تعرف عادات سكان البلاد و تقاليدهم.

• تربط قنوات الاتصال بين الشعوب.

الوثيقة عدد 4 : المناطق السياحية بالبلاد التونسية



دور الدين بن خضر

Guide-Voyage.info

التمارين :

1 / أكمل الفراغات بما يناسب :

تحتل السياحة..... في الحياة الاقتصادية من حيث توفير..... وتوفير

مواطن شغل وتساهم في ازدهار..... وتطوير.....

2 / أسمى أنواع مواطن الشغل التي توفرها السياحة

- مواطن الشغل.....: عمال الفنادق والمطاعم السياحية

- مواطن الشغل.....: الصناعات التقليدية

3 / أشطب ما ليس له علاقة بواجبات المواطن نحو القطاع السياحي :

- المحافظة على سلامة البيئة

- عدم احترام السياح

- كرم الضيافة و حسن التعامل مع الغير

- التقليد الأعمى للسياح في سلوكياتهم.

4 / ما هو دور السياحة في ربط الصلة بين الشعوب ؟

.....

5 أسمى مناطق سياحية تونسية حسب الجدول

مناطق صحراوية	مناطق اثرية	مناطق ساحلية

المحور الثامن عشر : التجارة الخارجية بالبلاد التونسية
الواردات والصادرات (تركيبتها وتطورها)

التجارة الخارجية : تتميز الصادرات التونسية بتنوعها وبهيمنة المنتوجات المصنعة وهي في تطور مستمر أما الواردات فهي تفوق الصادرات وتتميز كذلك بتطورها المستمر.

الواردات	الصادرات	
حبوب / حليب / سكر / شاي / قهوة / زيوت نباتية	زيت زيتون / أسماك / تمور / قوارص / خمور	مواد غذائية
نفط / غاز طبيعي / فحم حجري	نفط	مواد طاقة
خشب / أقمشة / قطن / كبريت	فسفاط / عجين ورق / ملح / زنك	مواد أولية
آلات / سيارات / شاحنات / أدوية / تجهيزات كهربائية والإلكترونية.	أقمشة وملابس / زرابي / خزف	مواد مصنعة

المبادلات التجارية التونسية في تطور مستمر لكن الميزان التجاري في عجز متواصل بسبب : ضعف الثروات المنجمية وموارد الطاقة / نقص الإنتاج الغذائي / حاجة البلاد إلى التجهيزات ولمجاهاة هذا العجز وللتقليل منه لا بد من :

ايلاء المزيد من العناية للقطاع الفلاحي / مواصلة البحث عن الثروات الباطنية

تحسين جودة الإنتاج للمنافسة في الأسواق الخارجية / تكثيف التبادل التجاري مغاربا
ترشيد الاستهلاك

تتعامل تونس تجاريا مع بلدان عديدة وتستأثر أوروبا بالنصيب الأكبر من المبادلات التجارية لأسباب تاريخية وجغرافية واقتصادية.

البضائع المتبادلة بين تونس وأوروبا كثيرة ومتنوعة تستورد تونس من أوروبا مواد تجهيزية واستهلاكية وتصدر نحو أوروبا مواد أولية واستهلاكية تتميز المبادلات التجارية مع البلدان المغاربية بالتنوع واتباع مساع تنموية ذات خطط تنموية مندمجة.

أما بقية البلدان الأخرى فالمبادلات التجارية محدودة وقليلة التنوع.

الصادرات	
زيت زيتون / أسماك / تمر / قوارص / خمير	مواد غذائية
نقط	مواد طاقة
فسفاط / عجّين ورق / ملح / زنك	مواد أولية
أقمشة وملابس / زرايعي / خزف	مواد مصنعة



الواردات	
حبوب / حليب / سكر / شاي / قهوة / زيوت نباتية	مواد غذائية
نقط / غاز طبيعي / فحم حجري	مواد طاقة
خشب / أقمشة / قطن / كبريت	مواد أولية
آلات / سيارات / شاحنات / أدوية / تجهيزات كهربائية وإلكترونية.	مواد مصنعة



نور الدين بن خضر

التمارين

1/ أكتب خطأ أو صواب

- تمثل المنتجات المصنعة أهم ما تورده البلاد التونسية
- يحتل المغرب العربي المرتبة الأولى في المبادلات التجارية مع تونس
- قيمة واردات البلاد التونسية أهم من قيمة صادراتها

2/ هذه قائمة مواد غذائية أكتب (ص) أمام ما تصدره البلاد التونسية و (و) أمام ما تورده
زيت الزيتون الحبوب الحليب الأسماك السكر التمور الشاي
..... القهوة القوارص الخمور

3 اشطب الخطأ في ما يلي :

المبادلات التجارية التونسية في تطور مستمر لكن الميزان التجاري في عجز متواصل والسبب :

- ضعف الثروات المنجمية وموارد الطاقة
- وفرة الإنتاج الغذائي
- حاجة البلاد إلى التجهيزات

4. اقترح حلين لمجابهة عجز الميزان التجاري:

-
-

5 أكمل الإفادة التالية بذكر أسباب تعامل تونس مع البلدان الأوربية :

تتعامل تونس تجاريا مع بلدان عديدة وتستأثر أوروبا بالنصيب الأكبر من المبادلات التجارية

لأسباب و و

نُزَيْدَةُ

مُرَيْدَةُ

نور الدين بن خضر

برنامج السنة السادسة في التربية المدنية

• تعريفها	البلدية	1.
• تنظيمها الإداري		2.
• وظائفها		3.
• تعريفها	الولاية	4.
• واجبات الولاية نحو المواطن		5.
• انجاز الخدمات والمعاملات الإدارية للمواطنين	من جانب الإدارة	6.
• الخدمات العمومية: تعريفها		7.
• الخدمات العمومية: مثال التهيئة والتطهير		8.
• الخدمات العمومية: مثال الصحة		9.
• احترام المؤسسات الإدارية	من جانب المواطن	10.
• احترام القوانين الموظفين		11.
• الحفاظ على المكاسب والمنشآت العمومية		12.
• مفهوم الانتخاب	الانتخابات	13.
• شروط الناخب		14.
• أنواع الانتخابات		15.
• الضامن لاستقلال البلاد ومساهم في رسم السياسة الخارجية للبلاد	رئيس الجمهورية	16.
• القائد الأعلى للقوات المسلحة		17.
• رئيس لمجلس الوزراء	رئيس الحكومة	18.

البلدية

1. تعريفها :

- البلدية جماعة عمومية ، وهي عبارة عن مقسم من تراب البلاد التونسية يمنح سكانه استقلالية عن السلطة الإدارية المركزية بالعاصمة ، تسمح لهم بتسيير شؤونهم المحلية
- فالبلدية تتمتع بالشخصية المدنية مثل الإنسان ، إذ لها : اسم وتاريخ إحداث
 - كما تتمتع بحقوق كأن : تشتري وتبيع وتكثري ...
 - وعليها واجبات تلتزم بأدائها مثل : تنظيف الشوارع وتجميل مداخلها ورفع الفضلات وتوظيف أداء على المتساكنين...
- وتمارس البلدية مهامها باسمها الخاص ، لأنها ذات شخصية مستقلة عن الولاية والمعتمدية .
يتعامل عون التراتيب مع عموم سكان المنطقة التي يوجد بها مقر بلديته.

فصول من القانون الأساسي للبلديات :

الباب الأول - تعريف البلدية وإحداثها

الفصل 1 - البلدية جماعة محلية تتمتع بالشخصية المدنية والاستقلال المالي، وهي مكلفة بالتصرف في الشؤون البلدية.

تساهم البلدية في نطاق المخطط القومي للتنمية في النهوض بالمنطقة اقتصاديا واجتماعيا وثقافيا.

الفصل 2 - تحدث البلدية بأمر باقتراح من وزير الداخلية بعد أخذ رأي وزير المال والتجهيز وينص الأمر المحدث لها على اسمها ومقرها ويضبط حدود منطقتها.



شعار البلدية



مقر البلدية



البلدية تكري



البلدية تبيع



البلدية تشتري



أعوان التراتيب (الشرطة البلدية)



جمع الفضلات وتجميل المدينة

التمارين :

1 / أكمل تعبير الفراغات لتعريف البلدية :

البلدية ، وهي عبارة عن من تراب البلاد التونسية يمنح سكانه
استقلالية عن المركزية بالعاصمة ، تسمح لهم بتسيير

2 / أشطب الخطأ في ما يلي :

البلدية تتمتع بالشخصية المدنية مثل الإنسان ، إذ لها :

اسم - لقب - تاريخ إحداث - تاريخ وفاة

3 / أصنف ما يلي إلى حقوق وواجبات

توظيف أداء على المتساكنين - البلدية تشتري - تجميل مداخل المدينة - تبيع - تكثري -
تنظف الشوارع - ترفع الفضلات -

من واجبات البلدية	من حقوق البلدية

4 / ما هو اسم العون الذي يتعامل مع عموم سكان المنطقة التي يوجد بها مقر بلديته ؟

.....

5 / أعر الفراغات بالعبارات التالية للحصول على الفصل الأول من القانون الأساسي للبلديات:

مستقلة / الخاص / جماعة عمومية / المالي / المدنية

تمارس البلدية مهامها باسمها ، لأنها ذات شخصية عن الولاية والمعتمدية

البلدية محلية تتمتع بالشخصية والاستقلال ،

وهي مكلفة بالتصرف في الشؤون البلدية.

البلدية

2. تنظيمها الإداري :

حدد القانون الانتخابي في تونس عدد أعضاء المجلس البلدي بحسب عدد سكان المنطقة البلدية ينتخب سكان المنطقة البلدية - مرة كل خمس سنوات - أعضاء المجلس البلدي وهؤلاء ينتخبون من بينهم رئيسا ومساعدين له.

يضبط عدد المساعدين البلديين من كل مجلس بلدي اعتمادا على عدد أعضاء كل مجلس .

أعضاء المكتب البلدي	أعضاء المجلس البلدي
رئيس البلدية	رئيس البلدية
الكاتب العام للبلدية	مساعد أول
الأعضاء وهم :	مساعدون منتخبون
(رؤساء اللجان ومساعدو رئيس البلدية)	مستشارون

تساعد المجلس البلدي إدارة بلدية يسيروها موظف يدعى الكاتب العام للبلدية. يسهر الكاتب العام للبلدية على حسن سير الإدارة في الميدان الإداري والمالي والتصرف في الأعوان والتنسيق بين مختلف المصالح البلدية وأعوانها وتوجيه هؤلاء الأعوان ومراقبتهم وهو مكلف كذلك :

3. بإعداد الأزمات

4. بإعداد عقود البيع والأكرية

5. بالعناية بدفاتر الحالة المدنية ومختلف الدفاتر للبلدية ومسكها.

فصول من قانون البلديات :

المجلس البلدي :

الفصل 10 يتركب المجلس البلدي من الرئيس والمساعد الأول والمساعدين والمستشارين.

الفصل 13 - يشكل المجلس البلدي إثر تنصيبه ثماني لجان قارة في الميادين التالية:

- الشؤون الإدارية والمالية - الأشغال والتهيئة العمرانية - الصحة والنظافة والعناية بالبيئة - الشؤون الاقتصادية - الشؤون الاجتماعية والأسرة - الشباب والرياضة والثقافة - التعاون والعلاقات الخارجية - العمل التطوعي.

ويمكن للمجلس البلدي أن يشكل لجانا غير قارة يعهد إليها بدراسة مواضيع معينة.

تجتمع اللجنة مرة في الشهر على الأقل وتكون جلساتها عمومية.

الفصل 17 - يمكن أن يدعى للمشاركة في أعمال اللجان وذلك على وجه الاستشارة:

الموظفون وأعاون الدولة أو المؤسسات العمومية المباشرين لوظائفهم داخل المنطقة البلدية وذوي الخبرة ممن لهم آراء يمكن طلبها؛

المتساكنون وأصيلو البلدية الذين يمكن لهم أن يفيقوا برأيهم بحكم نشاطهم أو معلوماتهم.

الباب الثالث - المكتب البلدي

الفصل 18 يساعد رئيس المجلس البلدي في تسيير شؤون البلدية مكتب يتركب من المساعد الأول لرئيس البلدية والمساعدين وكواهي الرئيس ورؤساء اللجان والكاتب العام للبلدية.

الفصل 19 - يجتمع المكتب البلدي على الأقل مرة في الشهر. ويرأسه رئيس المجلس البلدي ...

الفصل 39 جلسات المجلس البلدي عمومية ويعلن عن تاريخ انعقادها بمعلقات بمدخل مقر البلدية ودواورها وبمختلف وسائل الإعلام المتاحة.

الفصل 43 - لكل ساكن بالمنطقة البلدية أو دافع للأداء بها الحق في طلب الإطلاع بمقر البلدية على دفتر مداولات المجلس البلدي ودفتر القرارات البلدية والموازين البلدية وحساباتها المالية.

الفصل 85 - يتولى رئيس البلدية مهام الترتيب البلدية ويكلف أعوان الأمن بتنفيذ قراراته

يعاين الأعوان المكلفون بتنفيذ الترتيب البلدية وكذلك أعوان البلدية المحلفون المخالفات للترتيب البلدية ويجررون فيها محاضر يحيلونها إلى رئيس البلدية.

الفصل 87 - الكاتب العام للبلدية مكلف تحت سلطة رئيس البلدية بالسهر على حسن سير الإدارة البلدية في الميدان الإداري والمالي طبقا للقوانين والتراتب الجاري بها العمل

معطيات عامة حول السكان
توزع السكان حسب الولاية

الوحدة : الألف

بمئة

السنة	2011	2010	2009	2008	2007
تونس	1002.9	999.7	996.4	993.9	991.3
أريانة	510.5	498.7	483.5	473.2	460.3
بن عروس	588.7	577.2	565.5	555.4	543.6
منوبة	375.3	367.9	363.0	358.0	352.9
ناظور	762.6	752.5	744.2	733.6	723.7
زغوان	172.3	170.4	169.4	167.0	165.5
بنزرت	551.5	546.7	543.2	539.0	536.0
باجة	307.3	305.7	304.7	304.4	303.7
جندوبة	426.0	423.2	422.3	420.7	419.8
الكاف	258.1	256.5	257.0	256.8	257.3
سليانة	235.3	234.0	234.1	233.3	233.3
الغرداية	564.9	560.7	558.2	554.3	551.9
القصرين	437.2	432.3	427.7	424.9	422.1
سبيكي بوزيد	415.9	412.6	408.8	406.2	403.4
سوسة	622.1	612.1	600.4	590.1	579.0
المنستير	525.5	515.4	505.2	494.9	485.0
المهدية	400.4	395.3	394.1	389.8	386.9
صفاقس	944.5	930.1	918.5	905.0	893.0
قفصة	341.6	338.4	335.1	332.4	330.0
توزر	104.8	103.5	102.3	101.3	100.3
قللي	152.2	150.9	148.6	147.8	146.6
قابس	366.1	361.2	358.3	354.6	351.6



عدد اعضاء المجلس البلدي يكون بحسب عدد سكان المنطقة



ينتخب سكان المنطقة البلدية المجلس البلدي



المكتب البلدي

المجلس البلدي

نور الدين بن خصر

التمارين

1/ أكمل بما يناسب:

حدد القانون الانتخابي في تونس عدد أعضاء المجلس البلدي بحسب المنطقة البلدية

ينتخب سكان المنطقة البلدية - مرة كل - أعضاء المجلس البلدي وهؤلاء ينتخبون من بينهم و..... له.

2/ أصنف الأعضاء حسب الجدول المصاحب :

رئيس البلدية / الكاتب العام للبلدية / الأعضاء / المستشارون / المساعدون

أعضاء المجلس البلدي	أعضاء المكتب البلدي

3/ اشطب الخطأ :

تساعد المجلس البلدي إدارة بلدية يسيروها موظف يدعى : رئيس البلدية / الكاتب العام للبلدية.

4/ أكتب نعم أو لا أمام كل إفادة:

يسهر الكاتب العام للبلدية على :

- حسن سير الإدارة في الميدان الإداري والمالي
- التصرف في الأعوان وتوجيه الأعوان ومراقبتهم
- أخذ قرارات بصفة فردية
- التنسيق بين مختلف المصالح البلدية وأعوانها
- إعداد الأزمات عقود البيع والأكرية
- ترأس المجلس البلدي أثناء الاجتماعات
- العناية بدفاتر الحالة المدنية ومختلف الدفاتر للبلدية ومسكها

نور الدين بن خضر

البلدية

3. وظائفها

لكل بلدية مثال تهيئة تتولى البلدية إعداده طبقاً لأحكام مجلة التعمير والتهيئة الترابية وتتولى مصالح البلدية تنفيذ هذا المثال والسهر على متابعته.

تقدم البلدية خدمات عديدة في مجال الأشغال العمومية للمتساكنين :

- تعهد واصلاح وبناء الطرقات وأرصفتها والمنتزهات والمنابت والبساتين.
- تهيئة الحدائق والمشاهد والمساحات الخضراء وتجميل مداخل المدن.
- إزالة مظاهر ومصادر التلوث من الطريق العام.
- رفع الفضلات المنزلية وفرزها ومعالجتها وردمها في مصبات مراقبة.
- تعهد المجاري واصلاحها وتنظيفها ومدّها
- انجاز بناءات بلدية كرياض الأطفال ودور الشباب والثقافة وتعهدّها.

من الخدمات البلدية في ميداني الصحة والثقافة والرياضة والتي تسعى البلدية من خلالها على تجويد حياة متساكنيها والسهر على صحتهم والترفيه عنهم :

ميدان الصحة	ميدان الثقافة والرياضة
مراقبة نقاط بيع المواد الاستهلاكية	بناء المسارح والملاعب ونوادي الأطفال
حفظ الصحة في المحطات العمومية	تنظيم المهرجانات
السهر على نجاح حملات الصحة	إقامة معالم الزينة بمناسبة العياد
والنظافة (حملات التلقيح)	إعانة المدارس والمعاهد (الجوائز)

التراتب البلدية :

يتولى أعوان سلك مراقبي التراب البلدية تحت اشراف سلطة رئيس البلدية :

السهر على تحقيق الراحة والصحة العمومية ليلاً نهاراً
معاينة المخالفات للتشريع والتراتب الخاصة بالطرقات

تقوم البلدية بخدمات إدارية متنوعة منها : مد المواطنين بوثائق الحالة المدنية وإعداد القوائم الانتخابية ومراجعتها ومتابعة عمليات الاحصاء .

من وثائق الحالة المدنية التي يستخرجها المواطن من البلدية ك مضمون ولادة / مضمون وفاة / دفتر عائلي / عقد زواج / رخصة بناء / تراخيص مختلفة (ماء ، دفن ، فتح دكان ، إقامة حفل...)

الباب الأول - الأشغال البلدية

الفصل 118 - تشمل مصلحة الطرقات والأشغال البلدية:

- تعهد وإصلاح وبناء الطرقات وأرصفتها والمنتزهات والنباتات والحدائق والبساتين وتوابعها ومرافقها.
- تهيئة الحدائق والمشاهد والمساحات الخضراء وتجميل مداخل المدن وإزالة مظاهر ومصادر التلوث من الطريق العام.
- رفع الفضلات المنزلية وفرزها ومعالجتها وإزالتها ودمجها في مصبات مراقبة.
- تعهد المجاري وإصلاحها وتنظيفها ومدّها.
- تنظيف الطرقات والمساحات العمومية رشها بالماء.
- تنوير الطرقات والمساحات العمومية ومؤسسات البلدية.
- إنجاز وتعهد وإصلاح بناءات البلدية كرياض الأطفال والمستوصفات ودور الشباب والثقافة والمقابر والمسارح والأكشاك والمساحات العمومية والدور البلدية وغيرها من منشآت البلدية.
- أشغال التطهير على اختلاف أنواعها.
- رسم أسماء الأنهج والمساحات وأرقام المنازل ومختلف المحلات.
- كل ما يتعلق بتنفيذ مثال التهيئة والتصنيفات والبناءات الخاصة والمباني المتداعية للسقوط.
- تطبيق الترتيب المتعلقة بالمؤسسات الخطرة أو الخالية من المرافق أو المضرة بالصحة وبصفة عامة كل ما يتعلق بالأشغال التي تحمل مصاريفها على أموال البلدية.

الفصل 119 - لكل بلدية مثال تهيئة.

تتولى البلدية إعداد هذا المثال طبقاً لأحكام مجلة التعمير والتهيئة الترابية.

تتولى المصالح البلدية تنفيذ مثال التهيئة والسهر على متابعته بالتنسيق مع مصالح الدولة والمؤسسات والمستلزمين العموميين طبقاً للتشريع الجاري به العمل وخاصة مجلة التعمير والتهيئة الترابية.



مثال تهيئة عمرانية



القيام بحملات توعوية وصحية



تجميل الساحات



استخراج الوثائق



التمارين :

1 / أكمل بالعبارات التالية للحصول على إفادة صحيحة :

مجلة التعمير والتهيئة الترابية / مثال تهيئة / متابعته / تنفيذ

لكل بلدية تتولى البلدية إعداده طبقاً لأحكام

وتتولى مصالح البلدية هذا المثال والسهر على

2 / تقدم البلدية خدمات عديدة في مجال الأشغال العمومية للمتساكنين أذكر ثلاثة أمثلة

•

3 / أصنف الخدمات البلدية في ميداني الصحة والثقافة والرياضة في الجدول التالي :

تنظيم المهرجانات - إعانة المدارس والمعاهد (الجوائز) - مراقبة نقاط بيع المواد الاستهلاكية -

إقامة معالم الزينة بمناسبة الأعياد - حفظ الصحة في المحطات العمومية - السهر على نجاح

حملات الصحة والنظافة (حملات التلقيح) - بناء المسارح والملاعب ونوادي الأطفال -

ميدان الصحة	ميدان الثقافة والرياضة

4 / أصل بسهم بين الوظيفة والمسؤول عنها :

ومتابعة عمليات الإحصاء	أعوان التراتيب البلدية	السهر على تحقيق الراحة والصحة العمومية ليلاً نهاراً
معاينة المخالفات للتشريع والتراتب الخاصة بالطرقات	موظفي البلدية	مد المواطنين بوثائق الحالة المدنية
		إعداد القوائم الانتخابية ومراجعتها

5 / أسمى ثلاث وثائق على الأقل يستخرجها المواطن من البلدية :

-
-
-

الولاية : تعريفها

تمثل الولاية وحدة ترابية وهي كذلك وحدة ادارية وجزء من أجزاء تراب البلاد التونسية تتبع السلطة الإدارية المركزية بالعاصمة.

عدد ولايات الجمهورية التونسية 24 وهي : أريانة، باجة، بنزرت، بن عروس، توزر، تونس، تطاوين، جندوبية زغوان، سليانة سوسة، سيدي بوزيد، صفاقس، قابس، قبلي، قفصة، القيروان، القصرين، الكاف، مدينين، المنستير، المهدية، نابل ومنوبة.

فالولاية جماعة عمومية تتمتع بالشخصية المدنية والاستقلال المالي ولكل ولاية اسم وتاريخ احداث وتتمتع بجملة من من الحقوق وعليها واجبات.

يدير شؤون الولاية مجلس جهوي متكون من الوالي رئيسا للمجلس وأعضاء مجلس النواب بدائرة الولاية ورؤساء البلديات ورؤساء المجالس القروية.

يساعد الوالي بمركز الولاية معتمد أول وكاتب عام للولاية وثلاثة معتمدين (معتمد الشؤون الاجتماعية، معتمد الشؤون الدينية ومعتمد الشؤون الاقتصادية) وسلك من موظفي الدولة.

يعين الوالي بأمر من رئيس الجمهورية، يؤدي الوالي اليمين أمام رئيس الجمهورية قبل توليه مهام ولايته وبالتالي فهو ممثل الحكومة بدائرة ولايته ويتحمل مسؤولية كبرى ويتمتع بسلطات واسعة تحت اشراف وزير الداخلية.

يسهر الوالي على تنفيذ سياسة الدولة، حفظ النظام العام بالجهة، قبول التبرعات التي تشرعها الدولة، تنمية الجهة..

• المعتمدية : هي دائرة ترابية مضبوطة الحدود تسمى باسم مقرها الإداري يدير شؤونها معتمد يعينه وزير الداخلية.

• العمادة : هي دائرة ترابية يسهر على تسيير شؤونها العمدة الذي يعينه الوالي.

فصول من القانون :

النص القانوني : الولاية دائرة ترابية إدارية * وهي علاوة على ذلك جماعة عمومية * تتمتع بهذه الصفة بالشخصية المدنية والاستقلال المالي، ويدير شؤونها مجلس جهوي * . (الفصل الأول من قانون 04-02-1989 يتعلق بالمجلس الجهوي).

* الدائرة الترابية الإدارية هي جزء من أجزاء تراب البلاد التونسية تتبع السلطة الإدارية المركزية بالعاصمة.
* الجماعة العمومية المحلية مقسم من تراب البلاد التونسية يمنح سكانه استقلالية عن السلطة الإدارية المركزية بالعاصمة تسمح لهم بتسيير شؤونهم المحلية، وامتلاك موارد مالية خاصة بها.
* يتركب المجلس الجهوي من :

□ الوالي رئيسا

□ أعضاء مجلس النواب ورؤساء البلديات ورؤساء المجالس القروية بالجهة.

* الوالي يرأس الدائرة الترابية ويساعده في أداء مهامه المعتمد والعمدة وموظفو الولاية.

النص الأول : الوالي هو المؤمن على سلطة الدولة وممثل الحكومة بدائرة ولايته (الفصل 8 من القانون عدد 53 مؤرخ في 13-06-1975 يتعلق بضبط مشمولات الإطارات العليا للإدارات الجهوية)
النص الثاني : يباشر الوالي تحت سلطة وزير الداخلية إدارة الشؤون العامة للولاية. (الفصل 11 من القانون عدد 53 مؤرخ في 13-06-1975 يتعلق بضبط مشمولات الإطارات العليا للإدارات الجهوية)
النص الثالث :

- يتولّى المجلس الجهوي التصرف في الممتلكات والمكاسب الراجعة للولاية كجماعة عمومية

- الاعتمادات المخصصة (المبالغ المالية) لبرامج التنمية بالولاية تعتبر موارد ذاتية لها. (الفصلان 4 و 23

من القانون الأساسي عدد 11 مؤرخ في 04-02-1989 يتعلق بالمجالس الجهوية).

التمارين :

1. أكمل الفراغات بما يناسب :

الولاية جماعة تتمتع بال شخصية والاستقلال ولكل ولاية اسم وتاريخ وتتمتع بجملة من من وعليها واجبات.
2. الوالي يعينه والمعتمد يعينه والعمدة يعينه

3. اشطب الخطأ في ما يلي :

يدير شؤون الولاية مجلس (محلي - جهوي) متكون من (الوالي - المعتمد) رئيسا للمجلس وأعضاء مجلس (القرية - النواب) بدائرة الولاية ورؤساء البلديات ورؤساء المجالس القروية.

4. اجيب بنعم او لا

- يساعد الوالي بمركز الولاية معتمد أول وكاتب عام للولاية فقط
- يوجد بالولاية ثلاثة معتمدين (معتمد الشؤون الاجتماعية ، معتمد الشؤون الدينية ومعتمد الشؤون الاقتصادية)

5. اكمل كل فراغ بالمسؤول المناسب :

- يعين الوالي بأمر من
- يؤدي اليمين أمام رئيس الجمهورية قبل توليه مهام ولايته
- يتمتع الوالي بسلطات واسعة تحت اشراف وزير

6. اكمل بالعبارات التالية للحصول على الافادة المناسبة :

النظام العام - التبرعات - سياسة الدولة

يسهر الوالي على تنفيذ ، بالجهة، قبول التي تشرعها الدولة، حفظ تنمية الجهة..

7. أعرف كلام من :

• المعتمدية :

• العمادة :

نور الدين بن خضر

الولاية : واجبات الولاية نحو المواطن

للولاية نوعان من المهام :

مهام إدارية	مهام تنموية
منح الرخص - تسليم الوثائق	تنمية الجهة اقتصاديا واجتماعيا ...

من واجبات الولاية نحو المواطن الاستجابة لحاجياته مثل :

- إنارة المناطق الريفية - تجهيزها بمسالك وطرق - توفير الماء الصالح للشرب
 - حماية البيئة (منع الصيد العشوائي ، توفير الشغل للعاطلين بحضائر مقاومة الانجراف والانجراد والتصحر والحماية من الحرائق..)
 - تنمية الجهة اقتصاديا (تشجيع المبادرات لبعث مشروعات لتشغيل المواطنين والحد من النزوح
 - تنمية الجهة اجتماعيا (تنظيم قوافل توعوية وقوافل صحية للمناطق الريفية ، رعاية المعوقين والمحتاجين)
 - تنمية الجهة ثقافيا (بعث مهرجان لإحياء العادات والتقاليد ، والقيام بدروس لرفع الأمية)
- تتدخل الولاية لتلبية رغبات المواطنين في العديد من المجالات منها :

المجال	مهام الوالي
الطاقة والمناجم	دراسة ملفات ادخال الطاقة الكهربائية
الفلاحة والموارد المائية	اعداد مطالب حفر الآبار ومطالب القروض
التجهيز والإسكان	تهيئة الطرقات وتعبيد المسالك داخل الولاية
المواصلات	بناء مكاتب البريد
التربية والتعليم	بناء وترميم وتجهيز المدارس
الصحة العمومية	بناء مركز الصحة الأساسية

تتدخل الولاية في مجال الاستثمار العام بإنجاز مشاريع مثل تهيئة الطرقات كما تتدخل في الاستثمار الخاص بالمساعدة على بعث مشاريع كإسناد رخص لفتح محلات تمريض ..

من واجبات المواطن نحو الولاية :

- المساهمة في التنمية والعمل بالفكر والساعد - المحافظة على المكاسب الوطنية
- المبادرة ببعث مشروعات - الحد من النفقات وعدم اهدار أموال المجموعة الوطنية..

فصول من القانون :

- الأمر 457 / 1989 المتعلق بتفويض بعض سلطات أعضاء الحكومة إلى الولاية

- الفصل 1 من الأمر 1122 / 1993 المتعلق بضبط نوعية النفقات والمشاريع ذات الصبغة الجهوية :

مجالات الاستثمار	مهام الوالي
الطاقة والمناجم	- دراسة الملفات المتعلقة بمشاريع إدخال الطاقة الكهربائية
الفلاحة والموارد المائية	- إعداد مطالب حفر الآبار العميقة و إرسالها إلى الإدارة المركزية - الإعانة الفنية لدراسة وتنفيذ أشغال المحافظة على المياه والتربة للأشخاص المخول لهم استغلال أراض فلاحية - درس كل مطالب القروض ما عدا المطالب المتعلقة بالآبار العميقة (أكثر من 50 مترا) - إسناد قرارات منح الامتيازات المالية الخاصة بالمشاريع الفلاحية
الحفاظ على البيئة	- تحسيس المجموعات الريفية لمشكلة الانجراف ولفوائد مقاومته - تنفيذ ومراقبة ومتابعة أشغال مقاومة الانجراف
الأمن	- تسليم رخصة الحراسة المسلحة بالنسبة إلى الأسلحة من الصنف الثالث (أسلحة الصيد و ذخيرتها)
عن الأمر عدد 457 المؤرخ في 24 مارس 1989 المتعلق بتفويض بعض سلطات أعضاء الحكومة إلى الولاية	

مجالات الاستثمار	التعهد والصيانة	الإنجازات
التجهيز والإسكان		تهيئة الطرقات وتعبيد المسالك ذات الصبغة المحلية (داخل الولاية)
المواصلات		بناء مكاتب البريد واقتناء التجهيزات
التربية والتعليم	الاعتناء بالمدارس الابتدائية و صيانتها	- بناء المدارس الإعدادية والمعاهد الثانوية - تجهيز مدارس التعليم الابتدائي - ترميم المؤسسات التعليمية
الصحة العمومية	الاعتناء بالمؤسسات الاستشفائية و صيانتها	بناء و تهيئة وتوسيع مراكز الصحة الأساسية
الفصل 1 من الأمر 1122 / 1993 المتعلق بضبط نوعية النفقات والمشاريع ذات الصبغة الجهوية		



الاعتناء بالمناطق الداخلية



حماية البيئة تنمية الجهة اقتصاديا تنمية الجهة اجتماعيا



تنمية الجهة ثقافيا



من واجبات المواطن : المساهمة في التنمية ببعث مشاريع والد من النفقات

نور الدين بن خضر

التمارين :

1. للولاية نوعان من المهام اذكرهما في الجدول التالي مستعينا بالامثلة :

مهام	مهام
تنمية الجهة اقتصاديا واجتماعيا ...	منح الرخص - تسليم الوثائق

2. اصنف ما يلي إلى حقوق للمواطن وواجبات عليه :

- الاعتناء بالمناطق الريفية - المساهمة في التنمية والعمل بالفكر والساعد - حماية البيئة - المبادرة ببعث مشروعات - تنمية الجهة اقتصاديا - المحافظة على المكاسب الوطنية - تنمية الجهة اجتماعيا - الحد من النفقات وعدم اهدار أموال المجموعة الوطنية

حقوق المواطن	واجبات المواطن

3. أصل بسهم لأتعرف على تتدخل الولاية لتلبية رغبات المواطنين :

اعداد مطالب حفر الآبار ومطالب القروض
دراسة ملفات ادخال الطاقة الكهربائية
تهيئة الطرقات ةتعبيد المسالك داخل الولاية
بناء مركز الصحة الأساسية
بناء وترميم وتجهيز المدارس
بناء مكاتب البريد

الطاقة والمناجم
الفلاحة والموارد المائية
التجهيز والإسكان
المواصلات
التربية والتعليم
الصحة العمومية

4. اكمل تعميم الفراغ بما يناسب :

تتدخل الولاية في مجال الاستثمار بإنجاز مشاريع مثل تهيئة الطرقات كما

تتدخل في الاستثمار بالمساعدة على بعث مشاريع كإسناد رخص لفتح

محلات تمريض ..

الخدمات العمومية

تعريفها :

الخدمات العمومية هي الخدمات التي تقوم بها الدولة وهي عمل لفائدة المواطن..
الخدمة العمومية هي كل نشاط تتولاه الدولة بنفسها أو تشرف على إدارتها وتسييرها وتحمل نفقاتها أو جزء منها كما يمكن أن يتولاه فرد عادي أو هيئة تحت توجيهها ورقابتها

تصنيف الخدمات العمومية:

تصنف الخدمات إلى

- خدمات تمويلها الدولة وتسييرها بصفة مباشرة مثل (التعليم - الحتا - الأمن ...) وتسمى خدمات عمومية.
- خدمات تمويلها دواوين وتتولى الدولة الاشراف عليها والمساهمة في تمويلها مثل (المواني الجوية - التنظيم العائلي - التشغيل ...) وتسمى خدمة عمومية.
- خدمات تمويلها قطاعات خاصة مثل (تربية الماشية - انتاج الحبوب - ...) وتسمى خدمات خاصة - غير عمومية -

خصائص الخدمات العمومية :

- يتوجه نفعها إلى جميع الناس معتمدة مبدأ المساواة
- يعمل باستمرار وانتظام معتمدة مبدأ الاستمرارية
- ينشط لغير هدف الكسب

وظائف الخدمة العمومية :

- احلال الأمن
- إشاعة الصحة
- نشر التعليم



نشر التعليم



اشاعة الصحة



احلال الامن



خدمات ف ميدان النقل



خدمات في ميدان الغاز والكهرباء



ميثاق الخدمات العمومية



خدمات خاصة - غير عمومي-



التمارين :

1. أكمل للحصول على التعريف المناسب للخدمات العمومية :

الخدمات العمومية هي الخدمات التي تقوم بها وهي عمل لفائدة
..... هي كل نشاط تتولاه الدولة بنفسها أو تشرف على إدارتها
وتسييرها وتحمل نفقاتها أو جزء منها كما يمكن أن يتولاه عادي أو
..... تحت توجيهها ورقابتها

2. أصل بسهم للحصول على الإفادة المناسبة حول اصناف الخدمات العمومية:

مثل (المواني الجوية - التنظيم العائلي
- التشغيل ...) وتسمى عمومية

مثل (التعليم - الحتا - الأمن ...)
وتسمى خدمات عمومية

مثل (تربية الماشية - انتاج الحبوب - ...)
وتسمى خدمات خاصة - غير عمومية

خدمات تمويلها الدولة

وتسييرها بصفة مباشرة

خدمات تمويلها دواوين وتتولى الدولة
الاشراف عليها والمساهمة في تمويلها

خدمات تمويلها قطاعات خاصة

3. أجيب بنعم او لا للتعرف على خصائص الخدمات العمومية :

- يتوجه نفعها إلى فئة معينة من الناس
- يعمل باستمرار وانتظام معتمدة مبدأ الاستمرارية
- ينشط لهدف الكسب

4. أذكر ثلاث وظائف للخدمة العمومية :

- إحلال الأمن
- إشاعة الصحة
- نشر التعليم

الخدمات العمومية

مثال التهيئة والتطهير

من بين الخدمات العمومية التي تقدمها الادارة للمواطن :

- إعادة بناء حي عتيق وتجميله قصد المحافظة على الطابع العمراني والتقليدي لهذه المدينة.
- بناء السدود قصد المحافظة على مياه الأمطار
- تهيئة المسالك الفلاحية لتيسير تنقل الأشخاص والبضائع
- بناء أنفاق لتسهيل حركة المرور
- تشييد جسور قصد تسهيل حركة المرور

يقوم ديوان التطهير بتجميع المياه المستعملة في قنوات خاصة بها وتجميع مياه المطار في قنوات أخرى خاصة بها .

- تحول المياه المستعملة إلى محطات حيث يقع تصنيفها وتنقيتها وتستعمل بعد ذلك في الري.
- لمساعدة ديوان التطهير على القيام بواجباته على أحسن وجه :
- أتحاشى البناء الفوضوي حماية للمحيط
- لا ألقى المواد الصلبة في قنوات التطهير تجنباً لتعطيل صرف المياه
- إذا حصل عطب في قنوات تصريف المياه أتصل فوراً بالديوان القومي للتطهير
- احافظ على منشآت التهيئة والتطهير أينما كنت
- أسعى إلى مقاومة التلوث



مقاومة الفيضانات



مد قنوات التطهير



الديوان الوطني للتطهير
OFFICE NATIONAL DE L'ASSAINISSEMENT



تشيد الجسور



تهيئة الأنفاق



بناء السدود



معالجة المياه المستعملة واستغلالها في الري



تسهيل عمل ديوان التطهير



المحافظة على البيئة



تجنب البناء الفوضوي

نور الدين بن خضر

التمارين :

1. أصل بأسهم للتعرف على الخدمات العمومية التي تقدمها الإدارة للمواطن :

إعادة بناء حي عتيق وتجميله	قصد المحافظة على مياه الأمطار
بناء السدود	قصد المحافظة على الطابع العمراني والتقليدي لهذه المدينة
تهيئة المسالك الفلاحية	لتسهيل حركة المرور
بناء أنفاق وتشبيد جسور	لتيسير تنقل الأشخاص والبضائع

2. أجيب بنعم أو لا :

- يقوم ديوان التطهير بتجميع المياه المستعملة في قنوات خاصة بها
- مياه الأمطار يتم تجميعها في نفس القنوات
- تحول المياه المستعملة إلى محطات حيث يقع تصنيفها
- تستغل المياه المستعملة بعد تنقيتها في الري.

3. اضع علامة (+) أمام السلوك الايجابي وعلامة (-) امام السلوك السلبي :

- لمساعدة ديوان التطهير على القيام بواجباته على أحسن وجه :
 - أتحاشى البناء الفوضوي حماية للمحيط
 - ألقى المواد الصلبة في قنوات التطهير
 - إذا حصل عطب في قنوات تصريف المياه أتصل فورا بالديوان القومي للتطهير
 - أحافظ على منشآت التهيئة والتطهير أينما كنت
 - أشجع على البناء قبل مد شبكات التطهير

الخدمات العمومية

مثال الصحة

تتوقف السلامة الجسدية والعقلية للفرد على الخدمات الصحية التالية :

- التحصين ضد الأمراض قبل حدوثها (القيام بالتلقيح في الإبان لإكساب الجسم المناعة اللازمة والحرص على نظافة الجسد والثياب)
- معالجة الأمراض حال وقوعها .
- توفير بنية صحية أساسية لتيسير علاج المرضى.

للسلوكات الفردية دور هام في المحافظة على محيط صحي سليم .

توفقت الدولة في وسائل الوقاية والعلاج فتراجعت الأوبئة والأمراض المعدية والمزمنة

لكل مؤسسة صحية وظيفة خاصة بها :

- مركز رعاية الأم والطفل : تأمين عمليات الولادة وتوفير الرعاية الصحية للأم والطفل.
- معهد باستور (pasteur) انتاج التلقيح والأمصال
- الصيدلية المركزية : توفير الأدوية بصناعتها أو جلبها من الخارج .

إلى جانب هذه المؤسسات توجد معاهد ومراكز صحية مختصة تقوم بالبحوث وتقديم العلاج في مجال مرض معين .



مكافحة الامراض الخطيرة

الصحة للجميع



توفير الأدوية

توفير التلقيح

توفير بنية صحية أساسية لتيسير علاج المرضى



نور الدين بن خضر

التمارين :

1. أعر الفراغات بالعبارات التالية : معالجة - التحصين - توفير .
تتوقف السلامة الجسدية والعقلية للفرد على الخدمات الصحية التالية :

- ضد الأمراض قبل حدوثها
- الأمراض حال وقوعها .
- بنية صحية أساسية لتيسير علاج المرضى.

2. أعلل :

للسلوكات الفردية دور هام في المحافظة على محيط صحي سليم . كيف ذلك

.....
.....

3. أكمل تعميم الفراغات بما يناسب :

توفقت الدولة في توفير وسائل و فتراجعت الأوبئة والأمراض
المعدية والمزمنة

4. أصل بسهم للتعرف على وظيفة كل مؤسسة صحية :

انتاج التلقيح والأمصال
تأمين عمليات الولادة وتوفير الرعاية الصحية للأم والطفل
: توفير الأدوية بصناعتها أو جلبها من الخارج .

مركز رعاية الأم والطفل
معهد باستور pasteur
الصيدلية المركزية

الخدمات العمومية

واجبات المواطن نحو الإدارة

- احترام المؤسسات الإدارية
- احترام القوانين والموظفين
- الحفاظ على المكاسب والمنشآت العمومية

تعتبر المهمة الأساسية للإدارة هي خدمة المواطنين . وتكلف الإدارة لهذا الغرض موظفين يسهرون على انجاز الأعمال التي تتطلبها وظائفهم . ومن البديهي أن احترام المواطن للموظف الإداري يساعد ذلك الموظف على انجاز المطلوب منه . إضافة إلى أن احترام الغير من أهم علامات السلوك الحضاري .

أداء الضرائب والتكاليف العامة واجب على كل شخص على أساس الإنصاف .

الفصل 16 من الدستور

من واجباتي نحو الإدارة :


- احترام موظفي الإدارة
 - أعين الإدارة على أداء مهامها
 - أدفع الضرائب
 - أحترم التراتيب القانونية
 - أساهم في نظافة المدينة
 - أحضر جلسات المجلس البلدي وأتابع نشاطه.
- كل مواطن مطالب باحترام القانون وعدم القيام بممارسات تتناقض مع التراتيب القانونية ومن المعروف أن جهل المواطن بالقانون لا يسمح له بتجاوزه.



من واجبات المواطن احترام القوانين والموظفين



لا بد من احترام المؤسسات الإدارية



التمارين :

1. أشطب الخطأ في ما يلي :

من واجباتي نحو الإدارة :

- عدم احترام موظفي الإدارة
- مساعدة الإدارة على أداء مهامها
- لا أدفع الضرائب
- أحترم التراتيب القانونية
- أساهم في نظافة المدينة
- لا أحضر جلسات المجلس البلدي ولا أتابع نشاطه.

2. أكمل الفراغات بما يناسب

تعتبر المهمة الأساسية للإدارة هي خدمة وتكلف الإدارة لهذا الغرض
..... يسهرون على انجاز الأعمال التي تتطلبها وظائفهم .

3. ما المقصود بهذا الفصل من الدستور :

أداء الضرائب والتكاليف العامة واجب على كل شخص على أساس الإنصاف .

الفصل 16 من الدستور

.....
.....
.....

4. أكمل الفراغات : من واجبات المواطن نحو الإدارة :

- احترام الإدارية
- احترام والموظفين
- الحفاظ على والمنشآت العمومية

نور الدين بن خضر

الانتخابات

مفهوم الانتخاب :

الانتخاب واجب على المواطنين تقضيه ضرورة المساهمة في تطوير البلاد و تسيير شؤونها كما أنه حق يمنحه القانون للمواطن يمكنه من حرية اختيار من ينوبه في القيام بتلك المهمة. ومن خصائص الانتخاب أنه :

- عام : فهو حق لكل التونسيين والتونسيات الخالين من الموانع القانونية.
- حر فالناخب يختار من يشاء من المترشحين بدون وساطة
- مباشر : لأن الناخب يختار من يريد من المترشحين بدون ضغوط
- سري : فالناخب يقوم بعملية الانتخاب داخل خلوة بدون تأثيرات

صور تفل مراحل عملية الاقتراع لانتخاب المجلس الوطني التأسيسي



وعند القيام بعملية الانتخاب يقوم الناخب بالأعمال التالية :

1. يثبت هويته ويستظهر ببطاقته الانتخابية
 2. يتوجه إلى الخلوة
 3. يضع القائمة التي اختارها في ظرف
 4. يضع الظرف بنفسه في الصندوق
- يمضي رئيس المكتب أو أحد الأعضاء أمام اسمه بقائمة الناخبين

شروط الانتخاب

لكل تونسي حق الترشح لعضوية المجلس البلدي إذ توفرت فيه شروط معينة وهي :

ان يكون بالغاً من العمر 18 سنة كاملة

متمتعاً بالجنسية التونسية منذ 5 أعوام على الأقل

ان يكن متمتعاً بحقوقه المدنية والسياسية

ان يكون غير مشمول بأية صورة من صور الحرمان

ولا تحقق المشاركة لمن كانت له :

موانع اخلاقية : الأشخاص المحكوم عليهم في قضايا جنائية - والمصادرة أموالهم

موانع مهنية : العسكريين والأمنيين المباشرين لعملهم

موانع عقلية : الأشخاص المحجور عليهم - مداركهم العقلية غير سليمة

③ أقرأ النص القانوني الآتي ثم أعدّد الشروط التي يجب أن تتوفر في الناخب :

الانتخاب حق لجميع التونسيين والتونسيات البالغين من العمر 18 سنة كاملة في اليوم السابق لإجراء الانتخابات، المتمتعين بحقوقهم المدنية والسياسية وغير المشمولين بأية صورة من صور الحرمان المنصوص عليها بهذا المرسوم.

(الفصل 2 من المرسوم عدد 35 لسنة 2011 المتعلق بانتخاب المجلس الوطني التأسيسي)

أعرف

- قوات الأمن الداخلي تتكوّن من أعوان الشرطة والحرس الوطني وحرّاس السجون وأعوان الحماية المدنية.
- الجنابة هي جريمة يُعاقب عليها بخمسة أعوام فأكثر.
- الجنحة هي جريمة يعاقب عليها من 16 يوماً إلى خمسة أعوام.
- يحكم القضاء على بعض الأشخاص بالحرّج على أملاكهم بمنع التصرف فيها بسبب نقص في وعيهم أو مداركهم العقلية.

- 1- العسكريون والمدنيون مدّة قيامهم بواجبهم العسكري وأعوان قوات الأمن الداخلي.
- 2- الأشخاص المحكوم عليهم من أجل جنابة ولم يستردّوا حقوقهم المدنية والسياسية.
- 3- الأشخاص المحكوم عليهم من أجل جنحة ممسّ بالشرف بعقوبة تتجاوز مدتها سنّة أشهر سجناً نافذة ولم يستردّوا حقوقهم المدنية والسياسية.
- 4- الأشخاص المحجور عليهم.
- 5- الأشخاص المصادرة أموالهم إثر 14 جانفي 2011 (الفصل 4 و 5 من المرسوم عدد 35)

انواع الانتخاب

• الانتخابات البلدية

يشترط أن يكون المترشح لعضوية المجلس البلدي من بين ناخبي المنطقة البلدية المعنية وسنه ثلاثة وعشرين سنة على الأقل يوم تقديم ترشحه وإذا كان المترشح والي أو قاضي أو معتمد أول أو كاتب عام ولاية أو معتمد أو عمدة فله أن يستقيل من منصبه قبل تقديم ترشحه ولا يمكن له أن يترشح إن كان من موظفي البلدية أو الولاية التي تتبعها البلدية المعنية.

• الانتخابات البرلمانية :

يتعين على المترشح لعضوية مجلس النواب أن يكون بالغاً ثلاثة وعشرين سنة كاملة يوم تقديم الترشح وأن لا يكون قد حرم من حقوقه السياسية من جراء حكم عدلي صدر ضده عملاً بالقانون.

كما يجب على المترشح الذي يتحمل مهام رئيس أو عضو بالمجلس الدستوري أو بالمجلس الاقتصادي والاجتماعي أو والي أو قاضي أو معتمداً أولاً أو كاتباً عام لولاية أو معتمداً أو عمدة أن يقدم استقالته من مهامه قبل تقديم ترشحه .

• الانتخابات الرئاسية:

يحق لكل ناخبة أو ناخب تونسي الجنسية منذ الولادة، دينه الإسلام الترشح لمنصب رئيس الجمهورية، ويشترط في المترشح يوم تقديم ترشحه أن يكون بالغاً من العمر خمسا وثلاثين سنة على الأقل، وإذا كان حاملاً لجنسية غير الجنسية التونسية فإنه يقدم ضمن ملف ترشحه تعهداً بالتخلي عن الجنسية الأخرى عند التصريح بانتخابه رئيساً للجمهورية.”

فصول من الدستور

• البلدية

لفصل

133

تدير الجماعات المحلية مجالسٌ منتخبة.

تنتخب المجالس البلدية والجهوية انتخابا عاما، حرا، مباشرا، سرىا، نزيها، وشفافا.

تنتخب مجالس الأقاليم من قبل أعضاء المجالس البلدية والجهوية.

يضمن القانون الانتخابي تمثيلية الشباب في مجالس الجماعات المحلية.

• البرلمان

لفصل

53

الترشح لعضوية مجلس نواب الشعب حق لكل ناخب تونسي الجنسية منذ عشر سنوات على الأقل، بلغ من العمر ثلاثا وعشرين سنة كاملة يوم تقديم ترشحه، شرط أن لا يكون مشمولا بأي صورة من صور الحرمان التي يضبطها القانون.

لفصل

54

يعد ناخبا كل مواطن تونسي الجنسية بلغ من العمر ثمانى عشرة سنة كاملة وفق الشروط التي يحددها القانون الانتخابي.

لفصل

55

يُنتخب أعضاء مجلس نواب الشعب انتخابا عاما، حرا، مباشرا، سرىا، نزيها، وشفافا، وفق القانون الانتخابي.

يضمن القانون الانتخابي حق الانتخاب والتمثيلية للتونسيين بالخارج في مجلس نواب الشعب.

لفصل

56

يُنتخب مجلس نواب الشعب لمدة خمس سنوات خلال الأيام الستين الأخيرة من المدة الثيابية.

• الرئاسة

لفصل

74

الترشح لمنصب رئيس الجمهورية حق لكل ناخبة أو ناخب تونسي الجنسية منذ الولادة، دينه الإسلام.

يشترط في المترشح يوم تقديم ترشحه أن يكون بالغا من العمر خمسا وثلاثين سنة على الأقل. وإذا كان حاملا لجنسية غير الجنسية التونسية فإنه يقدم ضمن ملف ترشحه تعهدا بالتخلي عن الجنسية الأخرى عند التصريح بانتخابه رئيسا للجمهورية.

تُشترط تزكية المترشح من قبل عدد من أعضاء مجلس نواب الشعب أو رؤساء مجالس الجماعات المحلية المنتخبة أو الناخبين المرسمين حسيما يضبطه القانون الانتخابي.

لفصل

75

يُنتخب رئيس الجمهورية لمدة خمسة أعوام خلال الأيام الستين الأخيرة من المدة الرئاسية انتخابا عاما، حرا، مباشرا، سرىا، نزيها، وشفافا وبالأغلبية المطلقة للأصوات المصرح بها.

التمارين :

1. أصل بسهم للتعرف على خصائص الانتخاب :

- عام : الناخب يختار من يشاء من المترشحين بدون وساطة
- حر : حق لكل التونسيين والتونسيات الخالين من الموانع القانونية.
- مباشر : الناخب يختار من يريد من المترشحين بدون ضغوط
- سري : الناخب يقوم بعملية الانتخاب داخل خلوة بدون تأثيرات

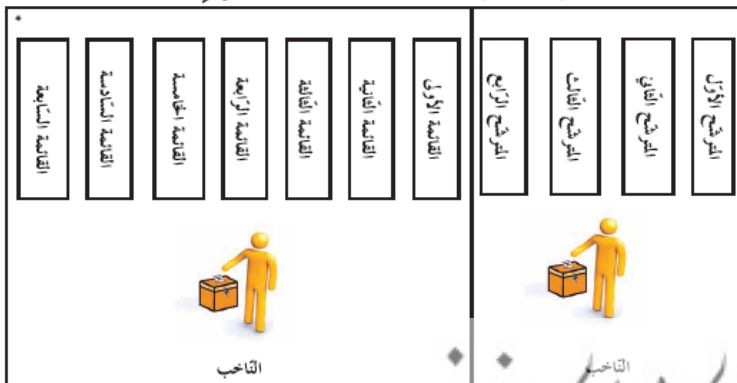
2. أكمل الفراغات للتعرف على شروط الترشح للمجلس البلدي :

- لكل تونسي حق الترشح لعضوية المجلس البلدي إذ توفرت فيه شروط معينة وهي :
- ان يكون بالغاً من العمر سنة كاملة
 - متمتعاً بالجنسية منذ 5 أعوام على الأقل
 - ان يكن متمتعاً المدنية والسياسية
 - ان يكون غير مشمول بايئة صورة من صور

3. أكتب نوع المانع الذي يحرمني من المشاركة في الانتخابات :

- موانع : الأشخاص المحكوم عليهم في قضايا جنائية - والمصادرة أموالهم
- موانع : العسكريين والأمنيين المباشرين لعملهم
- موانع : الأشخاص المحجر عليهم - مداركهم العقلية غير سليمة

ترتيب أوراق التصويت بكاتب التصويت من اليمين إلى اليسار



4. أستعين بالرسم وأسمي أنواع الانتخابات :

-
-
-

رئيس الجمهورية

رئيس الجمهورية هو رئيس الدولة وهو الضامن لاستقلال الوطن وسلامة ترابه واحترام الدستور والقانون وتنفيذ المعاهدات. وهو يسهر على السير العادي للسلط العمومية الدستورية ويضمن استمرار الدولة..

يتمتع رئيس الجمهورية أثناء ممارسته مهامه بحصانة قضائية.

رئيس الجمهورية يعين الوزير الأول كما يعين بقية أعضاء الحكومة باقتراح من الوزير الأول. كما أنه ينهي مهام الحكومة أو عضو منها تلقائيا أو باقتراح من الوزير الأول. يوجه رئيس الجمهورية السياسة العامة للدولة ويضبط اختياراتها الأساسية ويعلم بها مجلس النواب وله حق عرض مشاريع القوانين.

يبرم رئيس الجمهورية المعاهدات ويختم القوانين كما أنه يمارس السلطة الترتيبية العامة ويسمي القضاة باقتراح من المجلس الأعلى للقضاء ويسند رئيس الجمهورية باقتراح من الحكومة الوظائف العليا المدنية والعسكرية وله حق العفو الخاص .

يعتمد رئيس الجمهورية الممثلين الدبلوماسيين للدولة في الخارج ويقبل اعتماد ممثلي الدول الأجنبية لديه .

رئيس الجمهورية هو القائد الأعلى للقوات المسلحة. وهو الذي يشهر الحرب ويبرم السلم بموافقة مجلس النواب .

رئيس الجمهورية يرأس مجلس الوزراء ويمكن له أن يحل مجلس النواب .



نور الدين بن خضر

فصول من الدستور :

الفصل 71 :

يمارس السلطة التنفيذية رئيس الجمهورية وحكومة يرأسها رئيس الحكومة.

القسم الأول : رئيس الجمهورية

الفصل 72 :

رئيس الجمهورية هو رئيس الدولة، ورمز وحدتها، يضمن استقلالها واستمراريتها، ويسهر على احترام الدستور.

الفصل 73 :

المقر الرسمي لرئاسة الجمهورية تونس العاصمة، ويمكن في الظروف الاستثنائية أن ينقل إلى أي مكان آخر من تراب الجمهورية.

الفصل 77 :

يتولى رئيس الجمهورية تمثيل الدولة، ويختص بضبط السياسات العامة في مجالات الدفاع والعلاقات الخارجية والأمن القومي المتعلق بحماية الدولة والتراب الوطني من التهديدات الداخلية والخارجية وذلك بعد إستشارة رئيس الحكومة.

كما يتولى :

- حلّ مجلس نواب الشعب في الحالات التي ينصّ عليها الدستور، ولا يجوز حل المجلس خلال الأشهر الستة التي تلي نيل أول حكومة ثقة المجلس بعد الانتخابات التشريعية أو خلال الأشهر الستة الأخيرة من المدة الرئاسية أو المدة النيابية،
- رئاسة مجلس الأمن القومي ويدعى إليه رئيس الحكومة ورئيس مجلس نواب الشعب،
- القيادة العليا للقوات المسلحة،

التمارين :

1. أشطب الخطأ في ما يلي :

رئيس الجمهورية هو : رئيس الدولة - رئيس الحكومة -

2. أوزع الكلمات التالية في الفراغات للحصول على الافادة الصحيحة :

- الدستور - المعاهدات - الوطن - الدولة - العمومية -

رئيس الجمهورية هو : الضامن لاستقلال وسلامة ترابه واحترام

والقانون ولتنفيذ وهو يسهر على السير العادي للسلط

الدستورية ويضمن استمرار

3. أصلح الخطأ في ما يلي :

- يتمتع رئيس الجمهورية أثناء ممارسته مهامه بحصانة قضائية.

- رئيس الجمهورية يعين الوزير الأول

- ينهي مهام الحكومة أو عضو منها تلقائيا أو باقتراح من الوزير الأول.

- يوجه رئيس الجمهورية السياسة العامة للدولة ويضبط اختياراتها الأساسية

- له حق عرض مشاريع القوانين.

4. أصل بسهم للتعرف على مهام رئيس الجمهورية :

- يبرم الوظائف العليا المدنية والعسكرية

- يختم القضاة

- يمارس السلطة الترتيبية العامة

- يسمي القوانين

- يسند المعاهدات

رئيس الحكومة

1. منسق بين الوزارات

الوزارة مجموعة تتمتع بالشخصية المدنية والاستقلال المالي وهي إدارة مركزية يشرف على تسييرها وزير يسميه رئيس الجمهورية يساعده في أداء مهامه ديوان وكاتب عام للوزارة وهيكل إدارية.

الوزير الأول منسق بين الوزارات ، والتنسيق يتم على المستوى الحكومي وعلى مستوى الهيكل الاستشارية ، ويتعلق هذا الدور التنسيقي خاصة بمجال التخطيط والميزانية ومن أهدافه:

- متابعة أنشطة الوزراء
- توزيع العمل بين الوزارات
- الإعداد للاجتماعات الوزارية.

يتحمل الوزير الأول مسؤولية جماعية مع بقية أعضاء الحكومة في المساعدة على ممارسة السلطة التنفيذية وفي تنفيذ السياسة العامة للدولة.

2. الوزير الأول مسؤول أمام رئيس الجمهورية

والوزير الأول يعينه رئيس الجمهورية ، وهو مسؤول أمامه ، ويقوم بالمهام التي يكلفه بها ، ويرأس الحكومة ويسير أعمالها كما يرأس مجلس الوزراء ، وينسق بين الوزارات ، ويسهر على تنفيذ القوانين وممارسة السلطة الترتيبية بمجرد تعيينه وله الحق في إنهاء مهام الحكومة أو عضو منها.



نور الدين بن خضر

الفصل 91 :

يضبط رئيس الحكومة السياسة العامة للدولة، مع مراعاة مقتضيات الفصل 77، ويسهر على تنفيذها.

الفصل 92 :

يختص رئيس الحكومة بـ :

- إحداث وتعديل وحذف الوزارات وكتابات الدولة وضبط اختصاصاتها وصلاحياتها بعد مداولة مجلس الوزراء،
- إقالة عضو أو أكثر من أعضاء الحكومة أو البت في استقالته، وذلك بالتشاور مع رئيس الجمهورية إذا تعلق الأمر بوزير الخارجية أو وزير الدفاع،
- إحداث أو تعديل أو حذف المؤسسات والمنشآت العمومية والمصالح الإدارية وضبط اختصاصاتها وصلاحياتها بعد مداولة مجلس الوزراء، بإستثناء الراجعة إلى رئاسة الجمهورية فيكون إحداثها أو تعديلها أو حذفها بإقتراح من رئيس الجمهورية،

- إجراء التعيينات والإعفاءات في الوظائف المدنية العليا. وتضبط الوظائف المدنية العليا بقانون.

ويعلم رئيس الحكومة رئيس الجمهورية بالقرارات المتخذة في إطار اختصاصاته المذكورة.

يتصرف رئيس الحكومة في الإدارة، ويبرم الاتفاقيات الدولية ذات الصبغة الفنية.

وتسهر الحكومة على تنفيذ القوانين. ويمكن لرئيس الحكومة أن يفوض بعض صلاحياته للوزراء.

إذا تعذر على رئيس الحكومة ممارسة مهامه بصفة وقتية، يفوض سلطاته إلى أحد الوزراء.

التمارين :

1. أكمل الفراغ بما يناسب للتعريف بالوزارة :

الوزارة مجموعة تتمتع والاستقلال وهي إدارة مركزية يشرف على تسييرها يسميه رئيس الجمهورية يساعده في أداء مهامه وكاتب عام للوزارة إدارية.

2. أصل بسهم للحصول على الافادة الصحيحة : يتمثل دور الوزير الأول في

- متابعة أنشطة
- توزيع العمل بين
- الإعداد للاجتماعات
- الوزارية
- الوزارات
- الوزراء.

3. أشطب الخطأ في ما يلي :

- يتحمل الوزير الأول مسؤولية فردية
- يستعين الوزير الأول ببقية أعضاء الحكومة
- يمارس الوزير الأول السلطة التنفيذية
- لا يشارك الوزير الأول في تنفيذ السياسة العامة للدولة.

4. أعمر الفراغات بالعبارات التالية : الوزارات - الحكومة - رئيس الجمهورية - مجلس

الوزراء - القوانين - السلطة الترتيبية

والوزير الأول يعينه ، وهو مسؤول أمامه ، ويقوم بالمهام التي يكلفه بها ، ويرأس ويسير أعمالها كما يرأس ، وينسق بين ويسهر على تنفيذ وممارسة بمجرد تعيينه وله الحق في إنهاء مهام الحكومة أو عضو منها.

المحتوى

دروس

التاريخ والجغرافيا والتربية المدنية

للسنة السادسة أساسي

نور الدين بن خضر
نور الدين بن خضر